



T.C.
MİLLÎ EĞİTİM BAKANLIĞI

A

KİTAPÇIK TÜRÜ

8. SINIF II. DÖNEM
TÜRKÇE DERSİ
ORTAK (MAZERET) SINAVI
10 MAYIS 2014 Saat: 09.00

Adı ve Soyadı :
Sınıfı :
Öğrenci Numarası :

ÖĞRENCİLERİN DİKKATİNE!

1. Sınıf öğrenci yoklama listesinde belirtilen sınıfta ve sıra numarasında oturmanız gerektiğinden durumunuzu kontrol ediniz.
2. Bu sınavda cevaplayacağınız soru sayısı 20, sınav süreniz 40 dakikadır.
3. Sınav süresince dışarı çıkılmayacaktır.
4. Sınav sırasında sözlük, hesap makinesi, saat fonksiyonu dışında özellikleri bulunan saat veya çağrı cihazı, cep telefonu, telsiz, radyo ve bilgisayar özelliği bulunan elektronik cihazları yanınızda bulundurmanız hâlinde sınavınız geçersiz sayılacaktır.
5. Soruları ve sorulara verdiğiniz cevapları, yanınızda götürmek amacıyla kaydetmeyiniz; hiçbir şekilde dışarı çıkarmayınız.
6. Cevap kâğıdınızı sınav süresince hiçbir öğrencinin göremeyeceği şekilde önünüzde bulundurunuz.
7. Sınavın değerlendirilmesi aşamasında, bilgisayar ortamında yapılan kopya analizinde, ikili, toplu kopya tespiti veya başka adayın sınav evrakını kullanmanız durumunda sınavınız geçersiz sayılacaktır.

CEVAP KÂĞIDI VE SORU KİTAPÇIĞI İLE İLGİLİ AÇIKLAMALAR

1. Cevap kâğıdınızdaki bilgilerin doğruluğunu kontrol ediniz ve cevap kâğıdınızı silinmeyen bir kalemle imzalayınız.
2. Cevap kâğıdındaki bilgiler size ait değilse veya cevap kâğıdı kullanılmayacak durumdaysa sınav görevlilerinin temin edeceği yedek cevap kâğıdına kimliğinizle ilgili bilgileri açıklamalar doğrultusunda yazınız ve kodlayınız.
3. Cevap kâğıdı üzerindeki kodlamaları kurşun kalemle yapınız.
4. Değiştirmek istediğiniz bir cevabı, yumuşak silgiyle cevap kâğıdını örselemeden temizce siliniz ve yeni cevabınızı kodlayınız.
5. Kitapçık türünü cevap kâğıdınızdaki ilgili alana kodlayınız. Bu kodlamayı yapmadığınız veya yanlış yaptığınız takdirde sınavınızın değerlendirilmesi doğru yapılamayacaktır.
6. Cevaplarınızı, cevap kâğıdındaki ilgili soru numarasını dikkate alarak yuvarlağın dışına taşırmadan kodlayınız.
7. Soru kitapçığının sayfalarını kontrol ediniz, baskı hatası var ise değiştirilmesini sağlayınız.
8. Soruların çözümü için size ayrıca boş kâğıt verilmeyecektir. Soru kitapçığının içindeki boş alanları çözümleriniz için kullanabilirsiniz.
9. Cevaplamaya istediğiniz sorudan başlayabilirsiniz. Cevabını bilmediğiniz sorular üzerinde fazla zaman kaybetmeden diğer sorulara geçiniz. Zamanınız kalırsa bu sorulara daha sonra dönebilirsiniz.
- 10 Soru kitapçığı üzerinde yapıлып cevap kâğıdına işaretlenmeyen cevaplar değerlendirme işlemine alınmayacaktır.
11. Sınav puanınızın hesaplanmasında sadece doğru cevaplarınız dikkate alınacaktır.
12. Sınav bitiminde, soru kitapçığı ve cevap kâğıdını salon görevlilerine teslim ediniz.

BAŞLAYINIZ DENİLMEYEN SORU KİTAPÇIĞINIZI AÇMAYINIZ.

8. SINIF TÜRKÇE TESTİ 2014

1. Aşağıdaki cümlelerin hangisinde “taze” sözcüğü mecaz anlamıyla kullanılmıştır?

- A) Sabahları ilk işi taze ekmek almaktı.
- B) Orada okuduğum en taze haber otuz günlüktü.
- C) Yaşına rağmen taze yüzlü ve güzeldi.
- D) Ağaçların taze yaprakları akşamın serinliğini getirdi.

2. Biz evde ve bahçede kendi başımıza çok hoş vakit geçiriyor, tatilin tadını çıkarıyorduk.

Altı çizili kelime grubunun bu cümleye kattığı anlam aşağıdakilerden hangisidir?

- A) Bir şeyin güzelliğinden yeterince yararlanmak
- B) Kıvamına gelmek, beklenen ölçülere ulaşmak
- C) Hoşa giden bir duruma sebep olmak
- D) Ortaya çıkarmak, anlaşılır duruma getirmek

3. “Pazardan aldığı yapay çiçekler odasına bir renk katmıştı.” cümlesindeki “yapay” sözcüğünün karşıt anlamlısı aşağıdakilerin hangisinde kullanılmıştır?

- A) Bu durumun yaşlı adamın onurunu kırması gayet doğaldı.
- B) O kadar doğaldı ki davranışları giderek şaşırtıcı olmaktan çıktı.
- C) Oldukça doğal bir tavırla “Yarın gelecekmış.” diye tekrarladı.
- D) Kışın fırtınalara maruz kalan gemiler, bu doğal limana sığınırdı.

4. “Değişimden başka her şey değişir.” cümlesinin yakın anlamlısı aşağıdakilerden hangisidir?

- A) Her şey zamanla değişir.
- B) Hiçbir şey değişime direnemez.
- C) Değişmeyen tek şey değişimdir.
- D) Değişim yavaş yavaş olur.

5. Bir fikir, ancak yazı ve sözle ortaya konulduğu zaman etkisini gösterir. Sahip olduğunuz fikirler başkalarına açılmadıktan sonra içinizde gömülü kalır. Konuşmak, insanın içini, duygu ve düşüncelerini havalandırır. Bu yüzden konuşarak kendi içinizden dışarı çıkmalı, insanlarla temasa geçmeli, sosyal bağlar kurmalısınız.

Bu metindeki altı çizili cümlede, aşağıdaki anlam özelliklerinden hangisi vardır?

- A) Varsayım
- B) Kararsızlık
- C) İhtimal
- D) Öneri

6. (1) Ömer Seyfettin, zevkle okunan öykü yazarlarından biridir. (2) Eserlerini dört senelik bir zaman diliminde yazmıştır. (3) Bunu düşününce aramızdan erken ayrılışına edebiyatımız adına üzülmemek elde mi? (4) O, ölümsüzlüğün sırrını halkın diliyle halka seslenen eserler vermekte bulunmuştur.

Numaralandırılmış cümlelerden hangisi belirttiği öznel ve nesnel yargı yönüyle diğerlerinden farklıdır?

- A) 1
- B) 2
- C) 3
- D) 4

7. Ekim başlarında birkaç gün dinlenmek için Bursa'ya gittim. (1) Şehrin merkezinde büyük ve modern bir otelde kaldım. (2) Geniş merdivenleri, şık bir yemek salonu vardı. (3) Binbir çeşit çiçeğin olduğu güzel bir bahçeye sahipti. (4) Otelin yapısı ise bana hakiki bir mimarın değil, kalfanın elinden çıkmış hissini verdi.

Bu parçada yazarın otel hakkındaki düşüncesi, numaralandırılmış cümlelerin hangisinde değişmiştir?

- A) 1 B) 2 C) 3 D) 4

8. Sessizlik egemendi odada. Dünyanın en küçük sineği uça kanatlarının havaya değişimin çıkardığı ses duyulacaktı, o da uçmadı.

Bu parçada, aşağıdaki söz sanatlarından hangisi vardır?

- A) Konuşurma B) Abartma
C) Benzetme D) Kişileştirme

9. Okuduğunu değerlendirme yeteneğinden yoksun bir okuyucu, romanın kaba iskeleti üzerinde dolaşır hep. Yani dıştan görülen kalın çizgisini izler. Kolay gelir ona bu.

Yazar, bahsettiği okuyucu için altı çizili sözle aşağıdakilerden hangisini kastetmektedir?

- A) Heyecan duymasına sebep olan romanları okuduğunu
B) Kendine hitap eden romanları takip ettiğini
C) Romana derine inmeden, gelişigüzel baktığını
D) Yaşanmış olayların konu edildiği romanlara ilgi duyduğunu

10. Şiir öğrenilebilir mi? Öncelikle şiirin ne olduğunda anlaşmak gerekir. Şiir için bugüne kadar sayısız açıklama yapılmıştır. Herkes meseleye kendine göre bir bakış açısı getirmiştir. Hemen hepsinde doğruluk payı vardır ama bana göre hiçbiri şiiri bütünüyle ortaya koyacak güçte değildir. Bu da doğaldır. Çünkü şiir diğer sanat eserlerinden daha fazla öznedir.

Bu metnin türü aşağıdakilerden hangisidir?

- A) Deneme B) Biyografi
C) Makale D) Anı

11. Bu oyun, 19. yüzyıl başlarında ortaya çıktı. Özellikle okul çağındaki çocuklar arasında takımlar kurularak oynandı ve kısa sürede çok sevildi. Fakat her takımın kendi kuralları vardı. Bu sebeple takımlar birbirleriyle oynadıklarında karşılaşmalar tartışmayla noktalanıyordu.

Aşağıdakilerden hangisi, bu metinde belirtilen “sorun”a uygun bir çözümdür?

- A) Oyun süresinin kısaltılması
- B) Standart kurallar belirlenmesi
- C) Güvenlik önlemlerinin artırılması
- D) Belirli bir yaş sınırı getirilmesi

12. Bazı insanlarda yalnızca gördüğüne, eliyle dokunduğuna inanma alışkanlığı vardır. Buna rağmen yaşamlarının belli dönemlerinde “Hayatım bir romandır benim!” derler. Çünkü onların gözünde romanlar, olağanüstü hadiselerden oluşmaktadır.

Bu parçada sözü edilen insanların hayatlarını romana benzetme nedeni, aşağıdakilerden hangisidir?

- A) İlgilerini çeken kitapları okumaları
- B) Alışkanlıklarından bir türlü vazgeçememeleri
- C) İnanılması çok güç olaylar yaşamaları
- D) Sadece gördüklerini yazmaya değer bulmaları

13. 1. Havaalanında, kucağında çiçek dolu dostların karşılaması bana mutluluk verdi.
2. Fakültede yemek yerken pencereden Van Gölü’nü keyifle seyrettim.
3. Uçağa binerken bu karlı dağlar diyarını göreceğim için çok heyecanlıydım.
4. Nisan ayının ortalarına doğru bir konferans vermek üzere uçakla Van’a gittim.
5. Hep birlikte dağ ile göl arasında kalan fakülteye gittik.
6. Uçağın penceresinden görülen keskin zirvelerle mavi sulara vuran güneş arasında kendimi bir kartalın kanadında uçuyormuş gibi hissettim.

Numaralandırılmış cümleler, olayların oluş sırasına göre nasıl sıralanmalıdır?

- A) 3, 2, 6, 5, 1, 4
- B) 4, 5, 1, 2, 6, 3
- C) 3, 6, 2, 4, 5, 1
- D) 4, 3, 6, 1, 5, 2

14. Anıtlarıyla büyüleyen tarihî semtlerdeki geçmiş zaman havası, insanın ruhunu fazlasıyla dolduruyor. Fakat pek çoğunda tekrara dayanan modern mimari, şimdiden hâkim olmaya başladı. Eski eserler bu topraklara hâkim oluşumuzun kanıtıdır. Bu sebeple en küçük tarihî eser bile kaybolmamalıdır.

Bu metnin ana fikri aşağıdakilerden hangisidir?

- A) Tarihî değeri olan eserler korunmalıdır.
- B) Modern mimari genişlik ve aydınlık getirir.
- C) Bugün bize değerli görünen bir şey yarın anlamsız gelir.
- D) Yıpranmış binaların bulunduğu semtlerin çehresi değişmelidir.

15. Her türlü “bilinçlenme” kitap sayesinde olur. Çünkü kitap, bilincin yazıya dökülmüş şeklidir. Bu yönüyle kitap, hiç şüphesiz, fertlerin hayatını değiştiren, onları yenileştiren ve ileri götüren bir vasıtaadır...

Yazarın vermek istediği mesaj dikkate alındığında bu parça, aşağıdakilerin hangisiyle tamamlanmalıdır?

- A) İyi bir kitapta en önemli özellik anlatımın yanı sıra kurgudur.
- B) Bir insanın dünyaya bakışını değiştirmek istiyorsanız ona okumayı tavsiye edin.
- C) Okumayı öğrettiğiniz gibi yazarak düşünmeyi de öğretin.
- D) Bir kitabı, başka kitaplarla karşılaştırarak okumak iyidir.

16.

İlk okuduğum kitap, okulun kütüphanesinden aldığım Pinokyo’ydu. Büyük boy bir kitaptı. Bütün yaz bende kaldı. Üç ay boyunca kitabın kahramanlarıyla gezdim, dolaştım. Kederlerimi ve sevinçlerimi onlarla paylaştım.

İlk satın aldığım kitap, Balonla Beş Hafta’ydı. Daha önce okuduğum bazı kitaplarda olduğu gibi bu kitabın da tesirinde kalarak balonla uçtuğumu hayal ettim. Kapağında renkli ve kendine özgü bir resim olan bu kitabı, okuduktan kısa bir süre sonra kaybettim.

Bu iki metinde bahsedilen kitapların ortak yönü aşağıdakilerden hangisidir?

- A) Okuyucusunu etkilemeleri
- B) Tavsiye üzerine alınmaları
- C) Okuma alışkanlığı kazandırmaları
- D) İlgi çekici görsellerle desteklenmeleri

17. Aşağıdaki cümlelerin hangisinde vurgu, zaman belirten ifade üzerindedir?

- A) Ben de yarınki geziye seninle geleceğim.
- B) Az önce pencerenin önünden hızlıca geçti.
- C) Samsun’a uçakla bu akşam gidecek.
- D) Üç gündür onu şehrin her yerinde arıyoruz.

18. 1. Kimseye bir şey söylemeden evden çıktı.
2. İhlamur ağacının gölgesine oturduk.
3. Onun geldiğini duyunca çok sevindik.
4. İstenilen dosyaları erkenden hazırladı.

Numaralandırılmış cümlelerden hangisinde geçişli bir fiil vardır?

- A) 1
- B) 2
- C) 3
- D) 4

19. Güneşin sıcaklığından kaçanlar, deniz sularının serinliğine sığıyor.

Bu cümledeki altı çizili sözcük grubu, cümlenin hangi ögesidir?

- A) Özne
B) Belirtisiz nesne
C) Yer tamlayıcısı
D) Zarf tamlayıcısı

20. İstanbul'u en uzak semtlerine (1) bütün tarihî yerlerine kadar gezdik (2) bir yorgunluk (3) bir bıkkınlık (4) bir pişmanlık hissetmedik.

Bu cümledeki kaç numaralı boşluğa noktalı virgül konmalıdır?

- A) 1
B) 2
C) 3
D) 4

TEST BİTTİ.
CEVAPLARINIZI KONTROL EDİNİZ.

SINAV SÜRESİNCE UYULACAK KURALLAR

1. Öğrenciler, sınav kurallarına ve salon görevlilerinin tüm uyarılarına uymak zorundadırlar.
2. Sınav başladıktan sonra öğrencilerin salon görevlileri ve birbirleri ile konuşmaları, kalem, silgi vb. şeyleri istemeleri yasaktır.
3. Sınav evraklarını teslim etmeyenlerin sınavı geçersiz sayılacaktır.

SINAV GÖREVLİLERİNCE SINAV BAŞLAMADAN ÖNCE ÖĞRENCİLERE YAPILACAK SON UYARI

- Soracağınız bir şey var mı? Varsa, şimdi sorunuz.
- Sınav başladıktan sonra sorularınıza cevap verilmeyecektir.
- Başlama zilini bekleyiniz.
- Hepinize başarılar dileriz.

(Sınav görevlisi başlama ve bitiş saatini tahtaya yazacaktır.)

Bu kitapçığın her hakkı saklıdır. Hangi amaçla olursa olsun, kitapçığın tamamının veya bir kısmının Millî Eğitim Bakanlığı Yenilik ve Eğitim Teknolojileri Genel Müdürlüğünün yazılı izni olmadan kopya edilmesi, fotoğraflarının çekilmesi, bilgisayar ortamına alınması, herhangi bir yolla çoğaltılması, yayımlanması veya başka bir amaçla kullanılması yasaktır. Bu yasağa uymayanlar, doğabilecek cezai sorumluluğu ve kitapçığın hazırlanmasındaki mali külfeti peşinen kabullenmiş sayılır.

**10 MAYIS 2014 TARİHİNDE YAPILAN 8. SINIF II. DÖNEM
TÜRKÇE DERSİ ORTAK MAZERET SINAVI
“A” KİTAPÇIĞI CEVAP ANAHTARI**

TÜRKÇE

- 1. B**
- 2. A**
- 3. D**
- 4. C**
- 5. D**
- 6. B**
- 7. D**
- 8. B**
- 9. C**
- 10. A**
- 11. B**
- 12. C**
- 13. D**
- 14. A**
- 15. B**
- 16. A**
- 17. C**
- 18. D**
- 19. A**
- 20. B**



T.C.
MİLLÎ EĞİTİM BAKANLIĞI

A

KİTAPÇIK TÜRÜ

8. SINIF II. DÖNEM
MATEMATİK DERSİ
ORTAK (MAZERET) SINAVI
10 MAYIS 2014 Saat: 10.10

Adı ve Soyadı :
Sınıfı :
Öğrenci Numarası :

ÖĞRENCİLERİN DİKKATİNE!

1. Sınıf öğrenci yoklama listesinde belirtilen sınıfta ve sıra numarasında oturmanız gerektiğinden durumunuzu kontrol ediniz.
2. Bu sınavda cevaplayacağınız soru sayısı 20, sınav süreniz 40 dakikadır.
3. Sınav süresince dışarı çıkılmayacaktır.
4. Sınav sırasında sözlük, hesap makinesi, saat fonksiyonu dışında özellikleri bulunan saat veya çağrı cihazı, cep telefonu, telsiz, radyo ve bilgisayar özelliği bulunan elektronik cihazları yanınızda bulundurmanız hâlinde sınavınız geçersiz sayılacaktır.
5. Soruları ve sorulara verdiğiniz cevapları, yanınızda götürmek amacıyla kaydetmeyiniz; hiçbir şekilde dışarı çıkarmayınız.
6. Cevap kâğıdınızı sınav süresince hiçbir öğrencinin göremeyeceği şekilde önünüzde bulundurunuz.
7. Sınavın değerlendirilmesi aşamasında, bilgisayar ortamında yapılan kopya analizinde, ikili, toplu kopya tespiti veya başka adayın sınav evrakını kullanmanız durumunda sınavınız geçersiz sayılacaktır.

CEVAP KÂĞIDI VE SORU KİTAPÇIĞI İLE İLGİLİ AÇIKLAMALAR

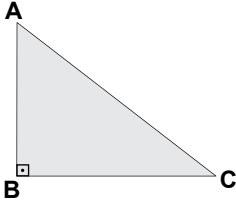
1. Cevap kâğıdınızdaki bilgilerin doğruluğunu kontrol ediniz ve cevap kâğıdınızı silinmeyen bir kalemle imzalayınız.
2. Cevap kâğıdındaki bilgiler size ait değilse veya cevap kâğıdı kullanılmayacak durumdaysa sınav görevlilerinin temin edeceği yedek cevap kâğıdına kimliğinizle ilgili bilgileri açıklamalar doğrultusunda yazınız ve kodlayınız.
3. Cevap kâğıdı üzerindeki kodlamaları kurşun kalemle yapınız.
4. Değiştirmek istediğiniz bir cevabı, yumuşak silgiyle cevap kâğıdını örselemeden temizce siliniz ve yeni cevabınızı kodlayınız.
5. Kitapçık türünü cevap kâğıdınızdaki ilgili alana kodlayınız. Bu kodlamayı yapmadığınız veya yanlış yaptığınız takdirde sınavınızın değerlendirilmesi doğru yapılamayacaktır.
6. Cevaplarınızı, cevap kâğıdındaki ilgili soru numarasını dikkate alarak yuvarlağın dışına taşırmadan kodlayınız.
7. Soru kitapçığının sayfalarını kontrol ediniz, baskı hatası var ise değiştirilmesini sağlayınız.
8. Soruların çözümü için size ayrıca boş kâğıt verilmeyecektir. Soru kitapçığının içindeki boş alanları çözümlerinizi için kullanabilirsiniz.
9. Cevaplamaya istediğiniz sorudan başlayabilirsiniz. Cevabını bilmediğiniz sorular üzerinde fazla zaman kaybetmeden diğer sorulara geçiniz. Zamanınız kalırsa bu sorulara daha sonra dönebilirsiniz.
- 10 Soru kitapçığı üzerinde yapılıp cevap kâğıdına işaretlenmeyen cevaplar değerlendirme işlemine alınmayacaktır.
11. Sınav puanınızın hesaplanmasında sadece doğru cevaplarınız dikkate alınacaktır.
12. Sınav bitiminde, soru kitapçığı ve cevap kâğıdını salon görevlilerine teslim ediniz.

BAŞLAYINIZ DENİLMEYEN SORU KİTAPÇIĞINIZI AÇMAYINIZ.

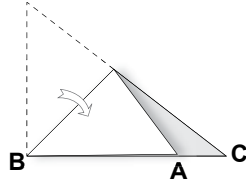
1. Aşağıdakilerden hangisi bir rasyonel sayıdır?

- A) $-2\sqrt{3}$ B) $-\sqrt{4}$ C) $\sqrt{5}$ D) $\sqrt{6}$

2.



I. Şekil



II. Şekil

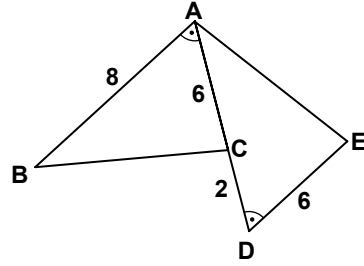
Dik üçgen şeklindeki bir kağıt, BA kenarı BC kenarı üzerine gelecek şekilde katlandığında II. şekildeki gibi A noktası B ve C noktaları arasında kalıyor. Buna göre, ABC üçgeninde iç açı ölçülerinin, **büyükten küçüğe** doğru sıralanışı aşağıdakilerin hangisidir?

- A) $m(\widehat{A}) > m(\widehat{B}) > m(\widehat{C})$
 B) $m(\widehat{A}) > m(\widehat{C}) > m(\widehat{B})$
 C) $m(\widehat{B}) > m(\widehat{A}) > m(\widehat{C})$
 D) $m(\widehat{B}) > m(\widehat{C}) > m(\widehat{A})$

3. Aşağıdaki işlemlerden hangisinin sonucu 2^{30} dur?

- A) $2^{-12} \cdot 2^{-18}$ B) $2^{-38} \cdot 2^8$
 C) $\frac{2^{40}}{2^{-10}}$ D) $\frac{2^{-18}}{2^{-48}}$

4.



Şekilde A, C, D noktaları doğrudur ve $m(\widehat{BAC}) = m(\widehat{ADE})$ 'tir. $|AC| = |DE| = 6$ cm, $|CD| = 2$ cm, $|AB| = 8$ cm, $|BC| = (3x - 2)$ cm ve $|AE| = (2x + 1)$ cm olduğuna göre, $|AE|$ kaç santimetredir?

- A) 4 B) 5 C) 7 D) 8

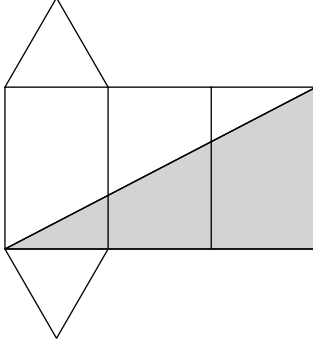
5.

	1. terim	2. terim	3. terim	4. terim
Geometrik dizi →	1	2	4	8
Aritmetik dizi →	2	5	8	11

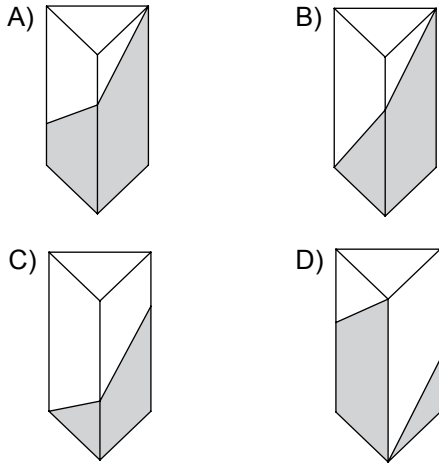
Yukarıda dörder terimi verilen geometrik ve aritmetik dizilerin 7. terimleri arasındaki fark aşağıdakilerden hangisidir?

- A) 12 B) 28 C) 36 D) 44

6.



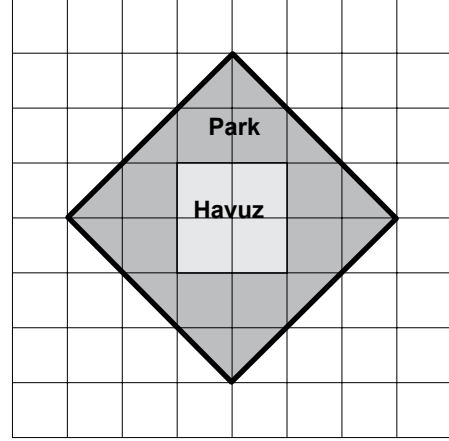
Bir üçgen prizmanın açılımı olan kartonun tek tarafı şekildeki gibi boyanıyor. Bu karton boyalı kısmı dışarıda kalacak şekilde kapatıldığında elde edilen üçgen prizmanın görünümü aşağıdakilerden hangisi olamaz?



7. Aşağıdakilerden hangisi bir özdeşliktir?

- A) $2(d - 4) = -8 + 2d$
 B) $3(y - 4) = 12 - 3y$
 C) $20 + 4c = 5(4 + c)$
 D) $5x + 3 = 5(x + 3)$

8.



Bir parkın ve içindeki havuzun planı şekildeki gibi kareli kâğıda çizilmiştir. Havuzun çevresinin uzunluğu 40 m olduğuna göre, parkın çevresinin uzunluğu kaç metredir?

- A) $32\sqrt{2}$ B) 80 C) $60\sqrt{2}$ D) 120

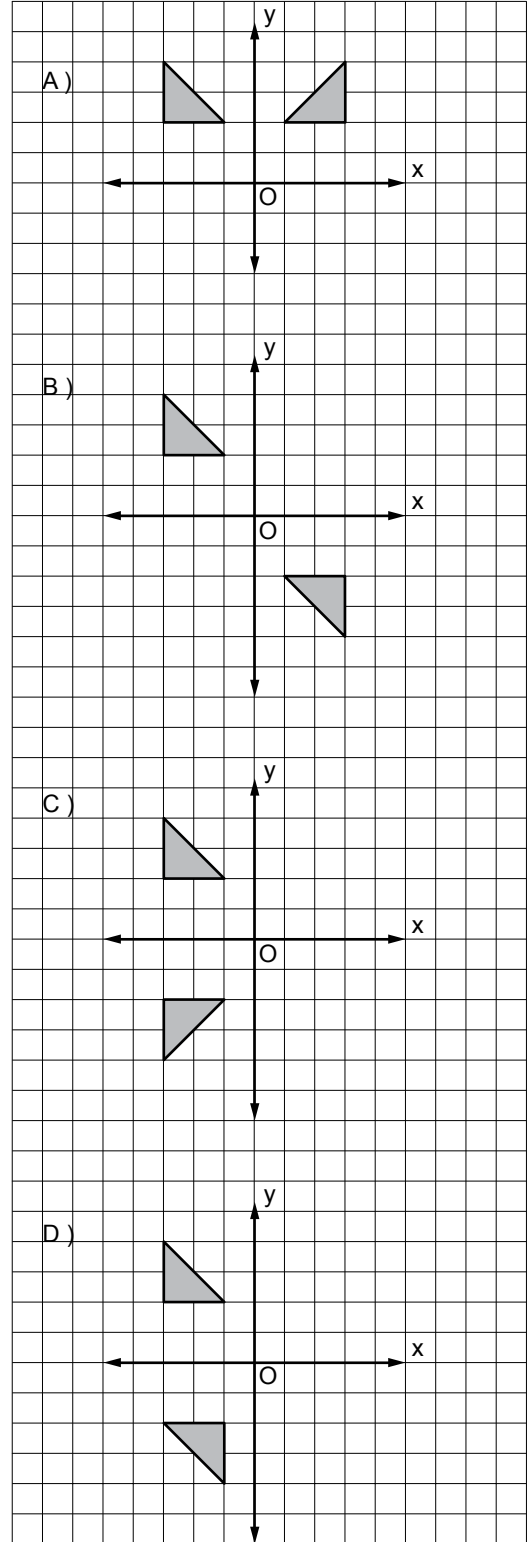
9. Bir torbada renkleri dışında aynı özelliklere sahip 3 kırmızı, 5 mavi ve 2 sarı top vardır. Torbaya geri atılmamak şartıyla, art arda rastgele çekilen iki toptan birincisinin kırmızı, ikincisinin mavi renkte olma olasılığı nedir?

- A) $\frac{3}{8}$ B) $\frac{15}{56}$ C) $\frac{15}{64}$ D) $\frac{1}{6}$

10. Aşağıdaki sayılardan hangisi $\sqrt{80}$ ile toplanırsa toplam $\sqrt{180}$ olur?

- A) $\sqrt{20}$ B) $\sqrt{40}$
C) $\sqrt{80}$ D) $\sqrt{100}$

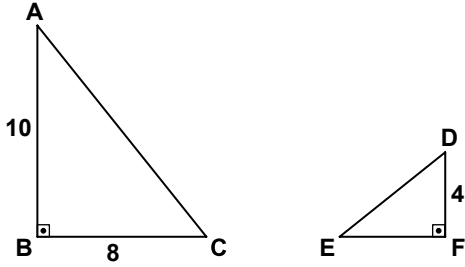
11. Aşağıdakilerden hangisindeki üçgenler x eksenine göre birbirinin yansımasıdır?



12. Bir dik üçgenin hipotenüsü 50 cm'dir. Bu üçgenin dik kenarlarının orta noktalarını birleştiren doğru parçasının uzunluğu kaç santimetredir?

A) 12,5 B) 15 C) 22,5 D) 25

13.



Yukarıda verilen dik üçgenlerde, $|AB| = 10$ cm, $|BC| = 8$ cm ve $|DF| = 4$ cm'dir. $\tan \hat{A} = \cot \hat{D}$ olduğuna göre, $|EF|$ kaç santimetredir?

A) 5 B) 4,8 C) 3,2 D) 3

14. 3 erkek ve 4 kız öğrenci arasından matematik yarışması için 1 erkek ve 2 kız öğrencinin bulunduğu 3 kişilik bir grup kaç farklı şekilde oluşturulabilir?

A) 6 B) 12 C) 18 D) 36

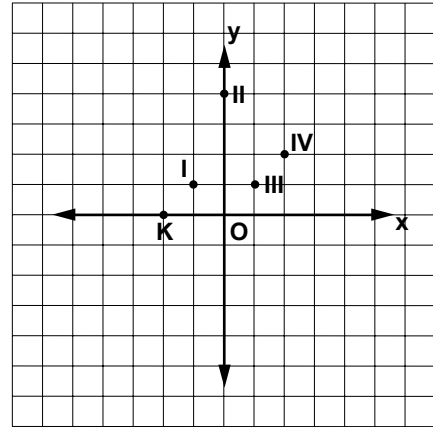
15. Çapının uzunluğu yüksekliğine eşit olan dik dairesel silindir, tabanına dik ya da tabanına paralel bir düzlemle kesildiğinde arakesit aşağıdakilerden hangisi olamaz?

A) Daire
B) Karesel bölge
C) Üçgensel bölge
D) Dikdörtgensel bölge

16. $\frac{4x-8}{8x-16(x-1)}$ cebirsel ifadesi aşağıdakilerden hangisine eşittir?

A) -2 B) $-\frac{1}{2}$ C) 1 D) 4

17.



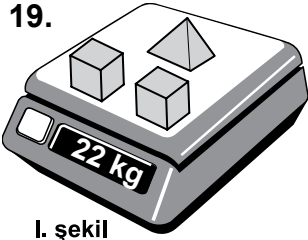
Verilen koordinat sisteminde $K(-2, 0)$ noktasından geçen bir doğrunun eğimi $\frac{1}{2}$ 'dir. Buna göre, bu doğru aşağıdaki noktaların hangisinden geçer?

A) I B) II C) III D) IV

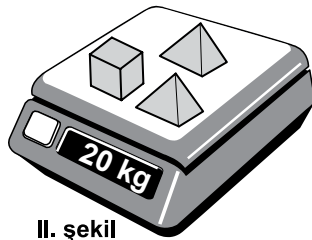
18. Bir yardım derneğinin toplantısına katılan davetlilerin $\frac{2}{3}$ 'si otuzar lira, geriye kalanlar ise elliser lira bağış yapmıştır. Yapılan bağışların toplamı 4400 lira olduğuna göre, kaç kişi bağış yapmıştır?

A) 100 B) 120 C) 180 D) 220

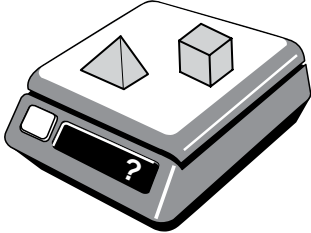
19.



I. şekil



II. şekil



III. şekil

Yukarıdaki şekillerde özdeş küpler ve özdeş piramitlerin kütleleri ölçülmektedir. I ve II. şekildeki ölçümlere göre, III. şekildeki ölçüm kaç kilogramdır?

A) 12 B) 14 C) 16 D) 18

20. Koordinat sisteminde denklemleri $x = 3$ ve $-x + y = 1$ olan doğrular ile x ve y eksenlerinin sınırladığı bölgenin alanı kaç birimkaredir?

A) $\frac{15}{2}$ B) $\frac{11}{2}$ C) $\frac{5}{2}$ D) $\frac{3}{2}$

TEST BİTTİ.
CEVAPLARINIZI KONTROL EDİNİZ.

SINAV SÜRESİNCE UYULACAK KURALLAR

1. Öğrenciler, sınav kurallarına ve salon görevlilerinin tüm uyarılarına uymak zorundadırlar.
2. Sınav başladıktan sonra öğrencilerin salon görevlileri ve birbirleri ile konuşmaları, kalem, silgi vb. şeyleri istemeleri yasaktır.
3. Sınav evraklarını teslim etmeyenlerin sınavı geçersiz sayılacaktır.

SINAV GÖREVLİLERİNCE SINAV BAŞLAMADAN ÖNCE ÖĞRENCİLERE YAPILACAK SON UYARI

- Soracağınız bir şey var mı? Varsa, şimdi sorunuz.
- Sınav başladıktan sonra sorularınıza cevap verilmeyecektir.
- Başlama zilini bekleyiniz.
- Hepinize başarılar dileriz.

(Sınav görevlisi başlama ve bitiş saatini tahtaya yazacaktır.)

Bu kitapçığın her hakkı saklıdır. Hangi amaçla olursa olsun, kitapçığın tamamının veya bir kısmının Millî Eğitim Bakanlığı Yenilik ve Eğitim Teknolojileri Genel Müdürlüğünün yazılı izni olmadan kopya edilmesi, fotoğraflarının çekilmesi, bilgisayar ortamına alınması, herhangi bir yolla çoğaltılması, yayımlanması veya başka bir amaçla kullanılması yasaktır. Bu yasağa uymayanlar, doğabilecek cezai sorumluluğu ve kitapçığın hazırlanmasındaki mali külfeti peşinen kabullenmiş sayılır.

**10 MAYIS 2014 TARİHİNDE YAPILAN 8. SINIF II. DÖNEM
MATEMATİK DERSİ ORTAK MAZERET SINAVI
“A” KİTAPÇIĞI CEVAP ANAHTARI**

MATEMATİK

1. B
2. C
3. D
4. C
5. D
6. B
7. A
8. C
9. D
10. A
11. C
12. D
13. A
14. C
15. C
16. B
17. D
18. B
19. B
20. A



T.C.
MİLLÎ EĞİTİM BAKANLIĞI

A
KİTAPÇIK TÜRÜ

8. SINIF II. DÖNEM
DİN KÜLTÜRÜ
VE AHLAK BİLGİSİ DERSİ
ORTAK (MAZERET) SINAVI
10 MAYIS 2014 Saat: 11.20

Adı ve Soyadı :

Sınıfı :

Öğrenci Numarası :

ÖĞRENCİLERİN DİKKATİNE!

1. Sınıf öğrenci yoklama listesinde belirtilen sınıfta ve sıra numarasında oturmanız gerektiğinden durumunuzu kontrol ediniz.
2. Bu sınavda cevaplayacağınız soru sayısı 20, sınav süreniz 40 dakikadır.
3. Sınav süresince dışarı çıkılmayacaktır.
4. Sınav sırasında sözlük, hesap makinesi, saat fonksiyonu dışında özellikleri bulunan saat veya çağrı cihazı, cep telefonu, telsiz, radyo ve bilgisayar özelliği bulunan elektronik cihazları yanınızda bulundurmanız hâlinde sınavınız geçersiz sayılacaktır.
5. Soruları ve sorulara verdiğiniz cevapları, yanınızda götürmek amacıyla kaydetmeyiniz; hiçbir şekilde dışarı çıkarmayınız.
6. Cevap kâğıdınızı sınav süresince hiçbir öğrencinin göremeyeceği şekilde önünüzde bulundurunuz.
7. Sınavın değerlendirilmesi aşamasında, bilgisayar ortamında yapılan kopya analizinde, ikili, toplu kopya tespiti veya başka adayın sınav evrakını kullanmanız durumunda sınavınız geçersiz sayılacaktır.

CEVAP KÂĞIDI VE SORU KİTAPÇIĞI İLE İLGİLİ AÇIKLAMALAR

1. Cevap kâğıdınızdaki bilgilerin doğruluğunu kontrol ediniz ve cevap kâğıdınızı silinmeyen bir kalemle imzalayınız.
2. Cevap kâğıdındaki bilgiler size ait değilse veya cevap kâğıdı kullanılmayacak durumdaysa sınav görevlilerinin temin edeceği yedek cevap kâğıdına kimliğinizle ilgili bilgileri açıklamalar doğrultusunda yazınız ve kodlayınız.
3. Cevap kâğıdı üzerindeki kodlamaları kurşun kalemle yapınız.
4. Değiştirmek istediğiniz bir cevabı, yumuşak silgiyle cevap kâğıdını örselemeden temizce siliniz ve yeni cevabınızı kodlayınız.
5. Kitapçık türünü cevap kâğıdınızdaki ilgili alana kodlayınız. Bu kodlamayı yapmadığınız veya yanlış yaptığınız takdirde sınavınızın değerlendirilmesi doğru yapılamayacaktır.
6. Cevaplarınızı, cevap kâğıdındaki ilgili soru numarasını dikkate alarak yuvarlağın dışına taşırmadan kodlayınız.
7. Soru kitapçığının sayfalarını kontrol ediniz, baskı hatası var ise değiştirilmesini sağlayınız.
8. Soruların çözümü için size ayrıca boş kâğıt verilmeyecektir. Soru kitapçığının içindeki boş alanları çözümleriniz için kullanabilirsiniz.
9. Cevaplamaya istediğiniz sorudan başlayabilirsiniz. Cevabını bilmediğiniz sorular üzerinde fazla zaman kaybetmeden diğer sorulara geçiniz. Zamanınız kalırsa bu sorulara daha sonra dönebilirsiniz.
- 10 Soru kitapçığı üzerinde yapıлып cevap kâğıdına işaretlenmeyen cevaplar değerlendirme işlemine alınmayacaktır.
11. Sınav puanınızın hesaplanmasında sadece doğru cevaplarınız dikkate alınacaktır.
12. Sınav bitiminde, soru kitapçığı ve cevap kâğıdını salon görevlilerine teslim ediniz.

BAŞLAYINIZ DENİLMEYEN SORU KİTAPÇIĞINIZI AÇMAYINIZ.

1. “Biz herşeyi bir ölçüye göre yarattık.”
(Kamer suresi, 49. ayet)

Bu ayette “ölçü” kelimesi hangi anlamda kullanılmıştır?

- A) Kader
B) Ecel
C) Rızık
D) Tevekkül

2. “Taassup” hakkında aşağıda verilen bilgilerden hangisi yanlıştır?

- A) Bilgisizce taklittir.
B) Körü körüne bağlılıktır.
C) Ön yargılı davranmaktır.
D) Her görüşe açık olmaktır.

3. Öğretmen, öğrencilerinden zararlı alışkanlıkları önlemeyle ilgili afişler hazırlamalarını istemiştir.

Aşağıdaki afişlerden hangisi bu amaçla kullanılabilir?

- A) Ara sıra kullanmakla bir şey olmaz!
- B) Bağımlı olma, özgür ol!
- C) Bana bir şey olmaz!
- D) Kendimi kontrol edebilirim, iradem güçlüdür!

4. Aşağıdakilerden hangisi hac ibadetini umre ibadetinden ayıran özelliklerden biridir?

- A) İhrama girilmesi
B) Kâbe'nin tavaf edilmesi
C) Yılın belli günlerinde yapılması
D) Safa ile Merve arasında sa'y yapılması

5. “Güçlü kimse güreşte rakibini yenen değil; öfkelendiği zaman kendisine hâkim olabilen kimsedir.” (Hadis-i Şerif)

Bu hadisi ilke edinen bir kişide aşağıdaki özelliklerden hangisinin gelişmesi beklenir?

- A) Cesaretli olması
B) Güvenilir olması
C) Saygılı olması
D) İradeli olması

6. Hz. Muhammed her fırsatta Müslümanları öğrenmeye teşvik etmiş, bu amaçla Medine’de okuma - yazma seferberliği başlatmıştır. O’nun Müslümanları öğrenmeye yönlendiren pek çok hadisi bulunmaktadır.

Aşağıdaki hadislerden hangisi Hz. Muhammed’in bu tutumuna örnek oluşturmaz?

- A) “İlim müminin yitik malıdır. Nerede bulursa alsın.”
B) “Her kim ilim elde etmek için yola çıkarsa Allah ona cennetin yolunu kolaylaştırır.”
C) “İlim erkek ve kadın her Müslümana farzdır.”
D) “İnsanların değerini bilemediği iki şey vardır: Boş vakit ve sağlık.”

7. Farklı coğrafyalarda ortaya çıkmış birçok dinde ortak ilkelere rastlamak mümkündür. Örneğin, yalan söylemek ve hırsızlık yapmak tüm dinlerde yasaklanmıştır.

Bu paragrafta dile getirilen ana düşünce aşağıdakilerden hangisidir?

- A) İnsanlar kötü davranışlardan uzak durma eğilimindedir.
B) Dinler ortaya çıktığı coğrafyaya göre şekillenir.
C) Farklı dinler evrensel değerler üzerinde birleşirler.
D) İyi ve kötü davranışlar zamana bağlı olarak değişir.

8.



Kötü alışkanlıklar hakkında yukarıdaki öğrencilerden hangilerinin söyledikleri doğrudur?

- A) Gamze - Berk
B) Ahmet - Seda
C) Seda - Berk
D) Gamze - Ahmet

9. "Hastalık gelmeden önce sağlığın, ihtiyarlık gelmeden önce gençliğin ve ölüm gelmeden önce hayatın değerini bilin!"

(Hadis-i Şerif)

Peygamberimizin bu hadisinden çıkarılabilecek sonuç aşağıdakilerden hangisidir?

- A) Ölümden korkmamalıyız.
B) İnsanlara saygı duymalıyız.
C) Yaşamımızın kıymetini bilmeliyiz.
D) Her türlü hastalığa hazırlıklı olmalıyız.

10. "Kim zerre kadar hayır yapmışsa onu görür. Kim de zerre kadar kötülük yapmışsa onu görür."

(Zilzâl suresi, 7 ve 8. ayetler)

Bu ayetlerde insanla ilgili olarak aşağıdakilerden hangisi vurgulanmaktadır?

- A) İnanan bir varlık olduğu
B) Sorumlu bir varlık olduğu
C) En güzel şekilde yaratıldığı
D) Kaderinin önceden belirlendiği

11. Aşağıdakilerden hangisi Kur'an'ın akla ve düşünmeye verdiği öneme kanıt oluşturmaz?

- A) İnsana merhametli davranmayı emretmesi
- B) Akli kullanmayı engelleyen zararlı maddeleri yasaklaması
- C) Ayetler ve olaylar üzerinde düşünmeyi tavsiye etmesi
- D) İnsanın sorumlu olabilmesi için akli şart koşması

12. Aşağıdaki eşleştirmelerden hangisi yanlış verilmiştir?

	HADİS	HEDEF DAVRANIŞ
A)	"Bizi aldatan bizden değildir."	Güvenilir olmak
B)	"İki günü birbirine eşit olan aldanmıştır."	Kendini geliştirmek
C)	"Merhamet edenlere Allah da merhamet eder."	Affedici olmak
D)	"En hayırlınız insanlara faydalı olanınızdır."	Hakkı gözetmek

13. "Hakkında bilgi sahibi olmadığın şeyin peşine düşme..."

(İsra suresi, 36. ayet)

Bu ayetin vermek istediği mesaj aşağıdakilerden hangisidir?

- A) Hoşgörü sahibi olmak
- B) Duyuları etkin kullanmak
- C) Zamanı iyi değerlendirmek
- D) Doğru bilgiye önem vermek

14. Kurban ibadeti hakkında aşağıda verilen bilgilerden hangisi yanlıştır?

- A) Allah'ın verdiği nimetlere şükretmenin bir göstergesidir.
- B) İnsanlar arasındaki makam ve mevki farkını ortadan kaldırır.
- C) İnsanın sevdiği şeyi Allah için feda etmesinin göstergesidir.
- D) Kişide, sahip olduğu şeyleri paylaşma bilincini geliştirir.

15. Dinimizin kesin olarak yasakladığı davranışlardan birisi de kumardır. Çünkü, kumar kişiye haksız kazanç sağlar. Bu, başkalarının mallarını meşru olmayan yollarla almak ve yemek anlamına gelir.

Aşağıdaki hadis ve ayetlerden hangisi bu durumu ifade eder?

- A) “En değerli kazanç, kişinin kendi emeğiyle kazandığıdır.” (Hadis-i Şerif)
 B) “Bir işi bitirdiğin zaman, hemen başka bir işe koyul.” (İnşirah suresi, 7. ayet)
 C) “Fayda vermeyen ilimden Allah’a sığınırım.” (Hadis-i Şerif)
 D) “Çirkin bir iş yaptıkları zaman, “Biz atalarımızdan böyle gördük.” derler.” (A'râf suresi, 28. ayet)

16. Peygamberimiz, “Sağ elin verdiği sol el görmemeli!” diyerek aşağıdakilerden hangisini gerçekleştirmek istemiştir?

- A) Malın bereketini arttırmayı
 B) Gösterişten uzak durmayı
 C) Cömertliği özendirmeyi
 D) Kıskançlığı önlemeyi

17. Hz. Muhammed, hiçbir zaman emanete ihanet etmemiş, en zor zamanlarda bile emanetleri koruyarak sahiplerine geri vermiştir. Örneğin, Mekke'den Medine'ye hicret ederken, yaşamı tehlikede olduğu hâlde, emanetleri sahiplerine vermesi için Hz. Ali'yi görevlendirmiştir.

Bu metnin başlığı aşağıdakilerden hangisi olmalıdır?

- A) Hz. Muhammed'in güvenilirliği
 B) Hz. Muhammed'in merhameti
 C) Hz. Muhammed'in adaleti
 D) Hz. Muhammed'in sabrı

18. • Hindistan'da ortaya çıkmıştır.
 • Kurucusunun asıl adı Sidharta'dır.
 • Mutlu olmak için “Nirvana”ya ulaşılması gerekir.
 • Bu dinin kutsal metinlerine “üç sepet” anlamına gelen “Tripitaka” adı verilir.

Hakkında bilgi verilen din aşağıdakilerden hangisidir?

- A) Budizm
 B) Brahmanizm
 C) Hinduizm
 D) Yahudilik

19. *“(Ey Peygamber!) Allah’ın rahmeti sayesinde onlara yumuşak davrandın; eğer kaba ve katı yürekli olsaydın, insanlar senin etrafından dağılıp giderlerdi...”*

(Âl-i İmrân suresi, 159. ayet)

Bu ayette, Hz. Muhammed’in aşağıdaki hangi özelliğinden bahsedilmiştir?

- A) Cesaretinden
- B) Merhametinden
- C) Yöneticiliğinden
- D) Yardımseverliğinden

20. *“...Hiç bilenlerle bilmeyenler bir olur mu?”*

(Zümer suresi, 9. ayet)

Bu ayetin konusu aşağıdakilerden hangisidir?

- A) Bilgiye ulaşma yolları
- B) Bilginin kaynakları
- C) Bilginin tutarlılığı
- D) Bilginin değeri

**TEST BİTTİ.
CEVAPLARINIZI KONTROL EDİNİZ.**

SINAV SÜRESİNCE UYULACAK KURALLAR

1. Öğrenciler, sınav kurallarına ve salon görevlilerinin tüm uyarılarına uymak zorundadırlar.
2. Sınav başladıktan sonra öğrencilerin salon görevlileri ve birbirleri ile konuşmaları, kalem, silgi vb. şeyleri istemeleri yasaktır.
3. Sınav evraklarını teslim etmeyenlerin sınavı geçersiz sayılacaktır.

SINAV GÖREVLİLERİNCE SINAV BAŞLAMADAN ÖNCE ÖĞRENCİLERE YAPILACAK SON UYARI

- Soracağınız bir şey var mı? Varsa, şimdi sorunuz.
- Sınav başladıktan sonra sorularınıza cevap verilmeyecektir.
- Başlama zilini bekleyiniz.
- Hepinize başarılar dileriz.

(Sınav görevlisi başlama ve bitiş saatini tahtaya yazacaktır.)

Bu kitapçığın her hakkı saklıdır. Hangi amaçla olursa olsun, kitapçığın tamamının veya bir kısmının Millî Eğitim Bakanlığı Yenilik ve Eğitim Teknolojileri Genel Müdürlüğünün yazılı izni olmadan kopya edilmesi, fotoğraflarının çekilmesi, bilgisayar ortamına alınması, herhangi bir yolla çoğaltılması, yayımlanması veya başka bir amaçla kullanılması yasaktır. Bu yasağa uymayanlar, doğabilecek cezai sorumluluğu ve kitapçığın hazırlanmasındaki mali külfeti peşinen kabullenmiş sayılır.

**10 MAYIS 2014 TARİHİNDE YAPILAN 8. SINIF II. DÖNEM
DİN KÜLTÜRÜ VE AHLAK BİLGİSİ DERSİ ORTAK MAZERET SINAVI
“A” KİTAPÇIĞI CEVAP ANAHTARI**

DİN KÜLTÜRÜ VE AHLAK BİLGİSİ

1. A
2. D
3. B
4. C
5. D
6. D
7. C
8. A
9. C
10. B
11. A
12. D
13. D
14. B
15. A
16. B
17. A
18. A
19. B
20. D



T.C.
MİLLÎ EĞİTİM BAKANLIĞI

A

KİTAPÇIK TÜRÜ

8. SINIF II. DÖNEM

FEN VE TEKNOLOJİ DERSİ

ORTAK (MAZERET) SINAVI

11 MAYIS 2014 Saat: 09.00

Adı ve Soyadı :
Sınıfı :
Öğrenci Numarası :

ÖĞRENCİLERİN DİKKATİNE!

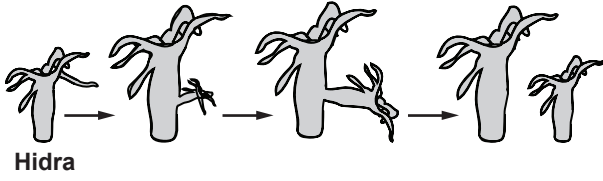
1. Sınıf öğrenci yoklama listesinde belirtilen sınıfta ve sıra numarasında oturmanız gerektiğinden durumunuzu kontrol ediniz.
2. Bu sınavda cevaplayacağınız soru sayısı 20, sınav süreniz 40 dakikadır.
3. Sınav süresince dışarı çıkılmayacaktır.
4. Sınav sırasında sözlük, hesap makinesi, saat fonksiyonu dışında özellikleri bulunan saat veya çağrı cihazı, cep telefonu, telsiz, radyo ve bilgisayar özelliği bulunan elektronik cihazları yanınızda bulundurmanız hâlinde sınavınız geçersiz sayılacaktır.
5. Soruları ve sorulara verdiğiniz cevapları, yanınızda götürmek amacıyla kaydetmeyiniz; hiçbir şekilde dışarı çıkarmayınız.
6. Cevap kâğıdınızı sınav süresince hiçbir öğrencinin göremeyeceği şekilde önünüzde bulundurunuz.
7. Sınavın değerlendirilmesi aşamasında, bilgisayar ortamında yapılan kopya analizinde, ikili, toplu kopya tespiti veya başka adayın sınav evrakını kullanmanız durumunda sınavınız geçersiz sayılacaktır.

CEVAP KÂĞIDI VE SORU KİTAPÇIĞI İLE İLGİLİ AÇIKLAMALAR

1. Cevap kâğıdınızdaki bilgilerin doğruluğunu kontrol ediniz ve cevap kâğıdınızı silinmeyen bir kalemle imzalayınız.
2. Cevap kâğıdındaki bilgiler size ait değilse veya cevap kâğıdı kullanılmayacak durumdaysa sınav görevlilerinin temin edeceği yedek cevap kâğıdına kimliğinizle ilgili bilgileri açıklamalar doğrultusunda yazınız ve kodlayınız.
3. Cevap kâğıdı üzerindeki kodlamaları kurşun kalemle yapınız.
4. Değiştirmek istediğiniz bir cevabı, yumuşak silgiyle cevap kâğıdını örselemeden temizce siliniz ve yeni cevabınızı kodlayınız.
5. Kitapçık türünü cevap kâğıdınızdaki ilgili alana kodlayınız. Bu kodlamayı yapmadığınız veya yanlış yaptığınız takdirde sınavınızın değerlendirilmesi doğru yapılamayacaktır.
6. Cevaplarınızı, cevap kâğıdındaki ilgili soru numarasını dikkate alarak yuvarlağın dışına taşırmadan kodlayınız.
7. Soru kitapçığının sayfalarını kontrol ediniz, baskı hatası var ise değiştirilmesini sağlayınız.
8. Soruların çözümü için size ayrıca boş kâğıt verilmeyecektir. Soru kitapçığının içindeki boş alanları çözümleriniz için kullanabilirsiniz.
9. Cevaplamaya istediğiniz sorudan başlayabilirsiniz. Cevabını bilmediğiniz sorular üzerinde fazla zaman kaybetmeden diğer sorulara geçiniz. Zamanınız kalırsa bu sorulara daha sonra dönebilirsiniz.
- 10 Soru kitapçığı üzerinde yapıлып cevap kâğıdına işaretlenmeyen cevaplar değerlendirme işlemine alınmayacaktır.
11. Sınav puanınızın hesaplanmasında sadece doğru cevaplarınız dikkate alınacaktır.
12. Sınav bitiminde, soru kitapçığı ve cevap kâğıdını salon görevlilerine teslim ediniz.

BAŞLAYINIZ DENİLMEYEN SORU KİTAPÇIĞINIZI AÇMAYINIZ.

1. Şekilde bir hidranın üremesi gösterilmiştir.



Bu üreme şekliyle ilgili olarak aşağıdakilerden hangisi doğrudur?

- A) Yavru birey, yenilenme (rejenerasyon) sonucu oluşmuştur.
 B) Bireyler oluşurken mitoz bölünme gerçekleşmiştir.
 C) Bu bir vejetatif üreme şeklidir.
 D) Bu bir eşeyli üreme şeklidir.

2.

1) Tüketiciler	2) Güneş Işığı	3) Otçul Canlılar
4) Fotosentez	5) Üreticiler	6) Solunum
7) Ayrıştırıcılar	8) Etçil Canlılar	9) Alg


Aşağıda verilen ifadelerdeki boşluklar, tabloda numaralandırılmış bazı terimlerle doldurulacaktır.

- Tabloda verilenlerden oluşturulacak besin zincirlerinin ilk halkasında yer alır.
- üreticilerin sonucu ürettikleri besin ile beslenir.

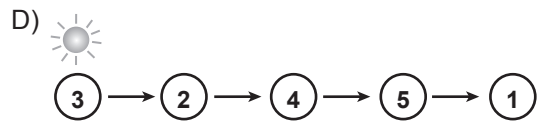
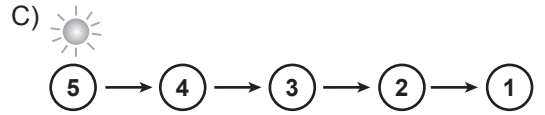
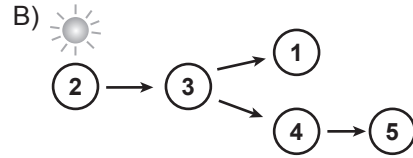
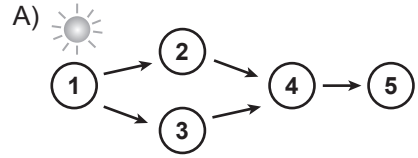
Verilen bu bilgilerin doğru olması için tablodan, boşluklara sırasıyla yazılması gereken terimler aşağıdakilerin hangisinde **birlikte** verilmiştir?

- A) 5, 3, 4
 B) 2, 8, 6
 C) 1, 7, 6
 D) 9, 8, 3

3. Ahmet, şekilde verilen yaşama ortamındaki canlıları gelişi güzel numaralandırıyor. Daha sonra, arkadaşlarından bu canlılarla besin zinciri şeması oluşturmalarını istiyor.

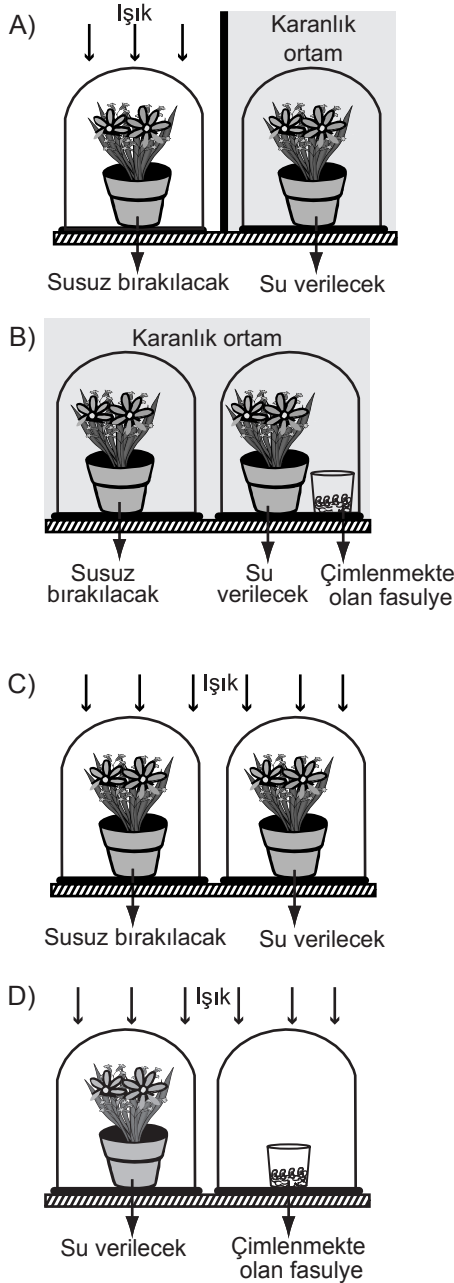


Buna göre, arkadaşlarının yaptığı aşağıdaki şemalardan hangisi bir besin zinciri oluşturur?



4. Bitkiler, fotosentezi gerçekleştirmek için bazı maddeleri kullanır. Aşağıdaki düzeneklerden hangisi, fotosentezde suyun gerekliliğini, kontrollü deneyle gözlemlemek için uygundur?

(Düzeneklerdeki cam fanuslar, saksı bitkileri ve çimlenmekte olan fasulyeler özdeşdir. Deney süresince fanuslardaki oksijen miktarı ölçülüyor.)



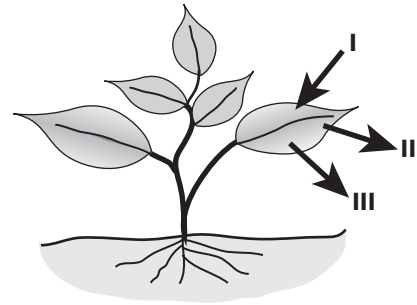
5. Öğrenciler, sınıftaki bir deneyde yaptıkları uygulamaları aşağıdaki gibi yazmışlardır.

Özdeş iki deney tüpüne, eşit miktarda kireç suyu koyduk. Birinin ağzını hemen tıpayla kapattık. Diğer tüpün içine üfleyip hemen tıpayla kapattık. Sonra her ikisini de çalkaladık. (Kireç suyu, karbon dioksitli ortamda bulanır.)

Buna göre, bu deney aşağıdakilerden hangisini gözlemlemek için yapılmıştır?

- A) Karbon dioksitin tüm canlılar için önemini tespiti
B) Solunum için kullanılan gazın varlığının tespiti
C) Oksijenli solunumda hangi maddenin parçalandığının tespiti
D) Oksijenli solunum sonucu açığa çıkan gazın tespiti

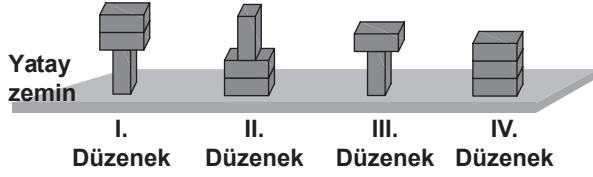
6. Bir araştırmacı, bitkinin karanlık ortamda solunum için dışarıdan alıp kullandığı ve bu olay sonucunda oluşan maddeleri, şekildedeki gibi numaralandırarak oklarla gösteriyor.



Buna göre I, II ve III ile gösterilen maddelerin aşağıdakilerin hangisinde doğru olarak verilmiştir?

- | | I | II | III |
|----|---------|----------------|----------------|
| A) | Oksijen | Karbon dioksit | Su |
| B) | Besin | Oksijen | Su |
| C) | Oksijen | Glikoz | Karbon dioksit |
| D) | Su | Oksijen | Karbon dioksit |

7. Özdeş tuğlalar şekildeki gibi yatay zemin üzerine yerleştiriliyor.



Buna göre tuğlaların zemine uyguladığı basıncın, tuğlaların ağırlığına ve zemine temas eden yüzey alanına bağlı olduğu ispatlanmak istenirse, hangi iki düzenek karşılaştırılmalıdır?

	Ağırlık	Yüzey alanı
A)	I. ve III.	I. ve II.
B)	II. ve III.	I. ve IV.
C)	I. ve II.	I. ve III.
D)	I. ve III.	II. ve IV.

8. Ali, yüzeyi deri ile gerilmiş şekildeki davula tokmakla vurarak çıkan sesi dinliyor.



Buna göre Ali, aşağıdakilerden hangisini yaparsa daha büyük frekanslı bir ses duyabilir?

- A) Davula daha zayıf vurursa
B) Davula daha şiddetli vurursa
C) Davulun derisinin gerginliğini azaltırsa
D) Davulun derisinin gerginliğini arttırsa

9. Öğretmen sınıfta ses enerjisi ile ilgili aşağıdaki örnekleri verdi.

- I- Jet uçaklarının geçişi sırasında çıkardıkları sesin pencere camlarını titreştirmesi
II- Bazı sanatçıların çıkardıkları ses ile bardağı kırması
III- Ellerimizi birbirine vurduğumuzda ses çıkması

Buna göre, öğretmenin verdiği örneklerin hangilerinde ses enerjisi, başka bir enerjiye dönüşmüştür?

- A) Yalnız I
B) I ve II
C) II ve III
D) I, II ve III

10. Bir bölümü görülen periyodik tabloda, bazı elementlerin sembolleri verilmiştir.

1A	2A	3A	4A	5A	6A	7A	8A
					O	F	
						Cl	

Periyodik tablo

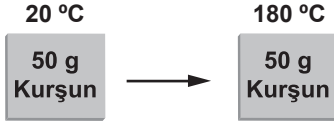
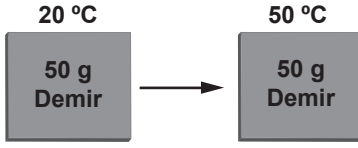
Bu elementlerle ilgili olarak;

- I- Proton sayısı en küçük olan O, en büyük olan Cl'dir.
II- F ve Cl atomlarının son katmanındaki elektron sayıları aynıdır.
III- O ve F atomlarının elektron dizilimleri aynıdır.

ifadelerinden hangileri doğrudur?

- A) Yalnız I
B) I ve II
C) II ve III
D) I, II ve III

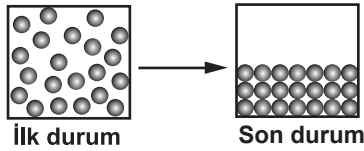
15. Demir ve kurşun levhalar, özdeş ısıtıcılarla eşit süre ısıtılıyor. Isıtma sonunda, bu maddelerin son sıcaklığı ölçüldüğünde şekildeki gibi farklı olduğu görülüyor.



Bu sonuç, maddelerin hangi özelliğinin farklı olmasından kaynaklanır?

- A) Hacimlerinin
B) Öz ısılarının
C) Yoğunluklarının
D) Erime ısılarının

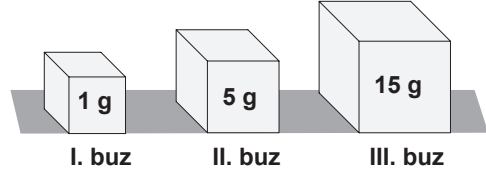
16. Saf bir maddeye uygulanan işlem sonucunda, madde değişime uğruyor ve bu değişim şekildeki gibi tanecik modeli ile gösteriliyor.



Buna göre, maddeye uygulanan işlem aşağıdakilerden hangisidir?

- A) Soğutma
B) Yarısını boşaltma
C) Isıtma
D) Kabı titreştirme

17. Şekilde, erime sıcaklığında bulunan buz parçaları verilmiştir.



Bu buz parçaları özdeş ısıtıcılarla ısıtılıyor. Her bir buz parçasının erimesi tamamlandıca, ısıtma işlemi sonlandırılıyor.

Buna göre, buz parçaları ile ilgili aşağıdakilerden hangisi doğrudur?

- A) Buz parçalarının üçü de aynı sürede erir.
B) Erime süresince, buz parçalarının sıcaklığı artar.
C) Erime süresince, III. buz parçasına verilen ısı miktarı daha fazladır.
D) I. buz parçasının sıcaklığı, eridiği sürece daha fazla artar.

18. Ağızı açık bir kaptaki, kaynama sıcaklığında bulunan belirli miktardaki saf bir sıvı ısıtılıyor.

Bu sıvı buharlaşırken aşağıdaki özelliklerinden hangisi değişmez?

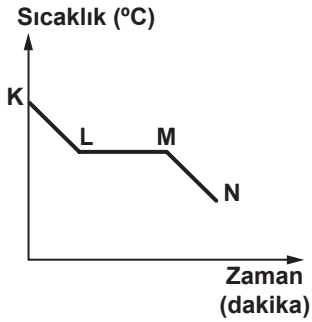
- A) Kütle
B) Hacmi
C) Tanecik sayısı
D) Buharlaşma ısı

19. Hasta olan Ayşe'nin ateşi yükselince annesi, ateşinin düşmesine yardımcı olmak için alnına ıslak bez koydu. Bu uygulamayı Ayşe'nin ateşi düşüncüye kadar tekrarladı.

Buna göre, aşağıdakilerden hangisi annenin yaptığı uygulamanın sonucu ile benzerlik gösterir?

- A) Birbirine sürtülen ellerin ısınması
- B) Kolonya dökülen elin serinlemesi
- C) Sıcak ortamda yiyeceklerin bozulması
- D) İçinde şeker çözünen suyun soğuması

20. Soğuk ortama konulan saf bir maddenin sıcaklığının zamanla değişimini gösteren grafik verilmiştir.



Grafiğe göre, bu madde ile ilgili aşağıdakilerden hangisi doğrudur?

- A) K - L aralığında madde donar.
- B) K - N aralığında madde ısı alır.
- C) L - M aralığında madde hâl değiştirir.
- D) M - N aralığında maddenin sıcaklığı sabittir.

TEST BİTTİ.

CEVAPLARINIZI KONTROL EDİNİZ.

SINAV SÜRESİNCE UYULACAK KURALLAR

1. Öğrenciler, sınav kurallarına ve salon görevlilerinin tüm uyarılarına uymak zorundadırlar.
2. Sınav başladıktan sonra öğrencilerin salon görevlileri ve birbirleri ile konuşmaları, kalem, silgi vb. şeyleri istemeleri yasaktır.
3. Sınav evraklarını teslim etmeyenlerin sınavı geçersiz sayılacaktır.

SINAV GÖREVLİLERİNCE SINAV BAŞLAMADAN ÖNCE ÖĞRENCİLERE YAPILACAK SON UYARI

- Soracağınız bir şey var mı? Varsa, şimdi sorunuz.
- Sınav başladıktan sonra sorularınıza cevap verilmeyecektir.
- Başlama zilini bekleyiniz.
- Hepinize başarılar dileriz.

(Sınav görevlisi başlama ve bitiş saatini tahtaya yazacaktır.)

Bu kitapçığın her hakkı saklıdır. Hangi amaçla olursa olsun, kitapçığın tamamının veya bir kısmının Millî Eğitim Bakanlığı Yenilik ve Eğitim Teknolojileri Genel Müdürlüğünün yazılı izni olmadan kopya edilmesi, fotoğraflarının çekilmesi, bilgisayar ortamına alınması, herhangi bir yolla çoğaltılması, yayımlanması veya başka bir amaçla kullanılması yasaktır. Bu yasağa uymayanlar, doğabilecek cezai sorumluluğu ve kitapçığın hazırlanmasındaki mali külfeti peşinen kabullenmiş sayılır.

**11 MAYIS 2014 TARİHİNDE YAPILAN 8. SINIF II. DÖNEM
FEN VE TEKNOLOJİ DERSİ ORTAK MAZERET SINAVI
“A” KİTAPÇIĞI CEVAP ANAHTARI**

FEN VE TEKNOLOJİ

1. B
2. A
3. D
4. C
5. D
6. A
7. A
8. D
9. B
10. B
11. C
12. D
13. A
14. D
15. B
16. A
17. C
18. D
19. B
20. C

T.C.
MİLLÎ EĞİTİM BAKANLIĞI

8. SINIF II. DÖNEM

A
KİTAPÇIK TÜRÜ

T.C. İNKILAP TARİHİ VE ATATÜRKÇÜLÜK DERSİ

ORTAK (MAZERET) SINAVI

11 MAYIS 2014 Saat: 10.10

Adı ve Soyadı :
Sınıfı :
Öğrenci Numarası :

ÖĞRENCİLERİN DİKKATİNE!

1. Sınıf öğrenci yoklama listesinde belirtilen sınıfta ve sıra numarasında oturmanız gerektiğinden durumunuzu kontrol ediniz.
2. Bu sınavda cevaplayacağınız soru sayısı 20, sınav süreniz 40 dakikadır.
3. Sınav süresince dışarı çıkılmayacaktır.
4. Sınav sırasında sözlük, hesap makinesi, saat fonksiyonu dışında özellikleri bulunan saat veya çağrı cihazı, cep telefonu, telsiz, radyo ve bilgisayar özelliği bulunan elektronik cihazları yanınızda bulundurmanız hâlinde sınavınız geçersiz sayılacaktır.
5. Soruları ve sorulara verdiğiniz cevapları, yanınızda götürmek amacıyla kaydetmeyiniz; hiçbir şekilde dışarı çıkarmayınız.
6. Cevap kâğıdınızı sınav süresince hiçbir öğrencinin göremeyeceği şekilde önünüzde bulundurunuz.
7. Sınavın değerlendirilmesi aşamasında, bilgisayar ortamında yapılan kopya analizinde, ikili, toplu kopya tespiti veya başka adayın sınav evrakını kullanmanız durumunda sınavınız geçersiz sayılacaktır.

CEVAP KÂĞIDI VE SORU KİTAPÇIĞI İLE İLGİLİ AÇIKLAMALAR

1. Cevap kâğıdınızdaki bilgilerin doğruluğunu kontrol ediniz ve cevap kâğıdınızı silinmeyen bir kalemle imzalayınız.
2. Cevap kâğıdındaki bilgiler size ait değilse veya cevap kâğıdı kullanılmayacak durumdaysa sınav görevlilerinin temin edeceği yedek cevap kâğıdına kimliğinizle ilgili bilgileri açıklamalar doğrultusunda yazınız ve kodlayınız.
3. Cevap kâğıdı üzerindeki kodlamaları kurşun kalemle yapınız.
4. Değiştirmek istediğiniz bir cevabı, yumuşak silgiyle cevap kâğıdını örselemeden temizce siliniz ve yeni cevabınızı kodlayınız.
5. Kitapçık türünü cevap kâğıdınızdaki ilgili alana kodlayınız. Bu kodlamayı yapmadığınız veya yanlış yaptığınız takdirde sınavınızın değerlendirilmesi doğru yapılamayacaktır.
6. Cevaplarınızı, cevap kâğıdındaki ilgili soru numarasını dikkate alarak yuvarlağın dışına taşırmadan kodlayınız.
7. Soru kitapçığının sayfalarını kontrol ediniz, baskı hatası var ise değiştirilmesini sağlayınız.
8. Soruların çözümü için size ayrıca boş kâğıt verilmeyecektir. Soru kitapçığının içindeki boş alanları çözümleriniz için kullanabilirsiniz.
9. Cevaplamaya istediğiniz sorudan başlayabilirsiniz. Cevabını bilmediğiniz sorular üzerinde fazla zaman kaybetmeden diğer sorulara geçiniz. Zamanınız kalırsa bu sorulara daha sonra dönebilirsiniz.
- 10 Soru kitapçığı üzerinde yapıлып cevap kâğıdına işaretlenmeyen cevaplar değerlendirme işlemine alınmayacaktır.
11. Sınav puanınızın hesaplanmasında sadece doğru cevaplarınız dikkate alınacaktır.
12. Sınav bitiminde, soru kitapçığı ve cevap kâğıdını salon görevlilerine teslim ediniz.

BAŞLAYINIZ DENİLMEYEN SORU KİTAPÇIĞINIZI AÇMAYINIZ.

1. Sömürge arayışı içindeki İtalya, 1911 yılında Osmanlı toprağı olan Trablusgarp'a saldırdı. Osmanlı'nın o tarihlerde Trablusgarp'a ordu ve donanma gönderebilecek durumu olmadığı için Mustafa Kemal ve bir grup genç Osmanlı subayı, gizlice Trablusgarp'a gittiler. Bu subaylar orada yerli halkı örgütleyerek Trablusgarp'ı savundular. Ayrıca Derne ve Tobruk'ta da İtalyanlara karşı başarılı müca-deleler verdiler.

Yalnız bu bilgilere dayanarak, aşağıdakiler-den hangisine ulaşamaz?

- A) İtalyanların saldırgan bir tutum izlediğine
- B) Mustafa Kemal ve arkadaşlarının teşkilatçı olduğuna
- C) Osmanlı'nın askeri gücünün yetersizliğine
- D) Derne ve Tobruk'taki savaşlardan sonra İtalyanların sömürgecilikten vazgeçtiğine

2. Mustafa Kemal, Sofya askerî ataşeliğı sırasında;

- bölgede kalan Türkleri ziyaret ederek onlarla yakın ilişkiler kurmuş,
- Türklerin sosyal ve siyasi haklarının yükseltilmesi için çalışmalar yapmıştır.

Mustafa Kemal'in, bu faaliyetleri gerçekleştirmesinde;

I- millet sevgisi

II- görev bilinci

III- yaratıcı düşüncesi

özelliklerinden hangileri etkili olmuştur?

- A) Yalnız I
- B) I ve II
- C) I ve III
- D) II ve III

3. "Ulusun içerideki birliğinin hem belli hem denenmiş olması, gelecek için en büyük güvençtir."

ATATÜRK

Atatürk bu sözünü, aşağıdakilerden hangisinin uygulama sonuçlarına dayanarak söylemiş olabilir?

- A) 1921 Anayasası'nın
- B) Takrir-i Sükun Yasası'nın
- C) Hıyanet-i Vataniye Kanunu'nun
- D) Tekâlif-i Milliye Emirleri'nin

4. "Azınlıkların hakları, komşu ülkelerdeki Müslümanların da aynı haklardan yararlanmaları şartıyla kabul edilecek ve sağlanacaktır."

Misakımillî kararlarından olan bu madde ile aşağıdakilerden hangisi amaçlanmış olabilir?

- A) Ülkemizde yaşayan azınlıklara istedikleri hakları vermek
- B) Millî ve ekonomik kalkınmamızı engelleyen ayrıcalıkları kaldırmak
- C) Vatanın sınırlarını çizerek bütünlüğünü sağlamak
- D) Sınırlarımız dışındaki Müslümanların haklarını korumak

5. **MADDE 1:** Ülkeyi, yabancı devlet güçlerinden kurtarmak ve saldırıları önlemek amacıyla yönelik kurulan Büyük Millet Meclisine (BMM) karşı düşünce ve uygulamalarıyla veya yazdıkları yazılarla muhalefet ve bozgunculuk edenler vatan haini sayılırlar.

MADDE 4: Olağanüstü ve aceleyi gerektiren durumlarda zanlının yakalandığı yerdeki ceza mahkemesi de yargılama yapmaya ve karar vermeye yetkilidir.

Hıyanet-i Vataniye Kanunu'nun bu maddeleriyle aşağıdakilerden hangisi amaçlanmıştır olamaz?

- A) Yargılamayı hızlandırmak
- B) İşgallerin haksızlığını dünyaya duyurmak
- C) Millî Mücadele'ye karşı çıkanları yargılamak
- D) BMM'ye karşı olumsuz hareketleri önlemek

6. Mustafa Kemal, Kurtuluş Savaşı sırasında Mecliste yaptığı bir konuşmada; "Komutan ne kadar değerli olursa olsun, komuta ettiği birlikler askerlik mesleğinin niteliklerinden yoksunsa, hiçbir varlık gösteremez." demiştir.

Millî Mücadele Dönemi'nde, TBMM'nin yaptığı aşağıdaki çalışmalardan hangilerinin, Atatürk'ün bu sözüne dayanılarak gerçekleştirildiği söylenebilir?

- A) Düzenli ordunun kurulması –Temsil Heyetinin oluşturulması
- B) Kuvayımilliyenin kaldırılması – Düzenli ordunun kurulması
- C) Hıyanet-i Vataniye Kanunu'nun kabulü – İstiklal Mahkemelerinin kurulması
- D) Temsil Heyetinin oluşturulması – Teşkilât-ı Esasiye Kanunu'nun kabulü

7. Ermenilerle yapılan Gümrü Antlaşması, Büyük Millet Meclisinin (BMM) imzaladığı ilk antlaşmadır. Bu antlaşmayla Kars ve çevresi kurtarılmış; hatta Ermeniler, Sevr Antlaşması'nın geçersiz olduğunu kabul etmişlerdir.

Bu bilgilere göre Gümrü Antlaşması'yla ilgili, aşağıdakilerden hangisi söylenemez?

- A) Doğu sınırlarımızı kesin olarak çizmiştir.
- B) BMM'nin uluslararası alandaki ilk siyasi başarısıdır.
- C) Ermenileri, Doğu Anadolu Bölgesi'ndeki isteklerinden vazgeçirmiştir.
- D) Ermenilerin BMM'yi resmen tanımalarını sağlamıştır.

8. Millî varlığa düşman cemiyetlerden bazıları, ülkenin kurtuluşunun Osmanlı Hükûmetinin vereceği kararları uygulayarak gerçekleşeceğini, bir kısmı da yabancı ve güçlü bir devletin himayesine girmekle sağlanabileceğini savunuyorlardı.

Yalnızca bu bilgiden, millî varlığa düşman cemiyetlerin;

- I- Manda ve himayeyi savundukları
 - II- Millî Mücadele'ye karşı oldukları
 - III- İstanbul Hükûmetine ve padişaha bağlı kaldıkları
 - IV- İtilaf Devletleri tarafından desteklendikleri
- özelliklerinden hangileri çıkarılabilir?**

- A) I ve III
- B) I, II ve III
- C) I, II ve IV
- D) I, III ve IV

9. İtilaf Devletleri'nin, Londra Konferansı'nda TBMM Hükûmetine sunduğu tekliflere göre;

- Yunanlılarca işgal edilen İzmir ili Türklere geri verilecek, ancak şehirde Yunan kuvveti bulunacak,
- Milletler Cemiyeti, İzmir'i yönetmesi için Hristiyan bir vali tayin edecekti.

İtilaf Devletleri'nin bu teklifleri, TBMM Hükûmeti tarafından kabul edilmemiştir.

TBMM Hükûmeti bu teklifleri, aşağıdakilerden hangisine aykırı bulunduğu için kabul etmemiştir?

- A) Eşitliğe
B) Çağdaşlığa
C) Bağımsızlığa
D) Demokrasiye

10. İtilaf Devletleri ile TBMM Hükûmeti arasında imzalanan Mudanya Ateşkes Antlaşması'na göre;

- Türklere Yunanlılar arasındaki çatışmaya son verilecek,
- İstanbul ve Boğazlar, Türk mülki idaresine teslim olunacaktır.

Bu kararlara göre Ateşkes hakkında;

I- Kurtuluş Savaşı'nın askerî safhasını tamamlamıştır.

II- esas barışın şartlarını belirlemiştir.

III- İtilaf Devletleri'nin, TBMM Hükûmetinin varlığını tanımasını sağlamıştır.

Yorumlarından hangileri yapılabilir?

- A) I ve II
B) I ve III
C) II ve III
D) I, II ve III

11. I- "Millet, millî hâkimiyeti ve Türk milliyetçiliğini esas kabul etmiştir."

II- "Türkiye Cumhuriyeti halkı düşüncesiyle, anlayışıyla medeni olduğunu ispat etmek ve göstermek zorundadır."

III- "Teşkilatımızda millî güçlerin etken ve millî iradenin egemen olması esas kabul edilmiştir."

IV- "Dünyada herşey için; medeniyet için, hayat için, başarı için, en gerçek yol gösterici ilimdir, fendir."

Mustafa Kemal Atatürk'ün yukarıdaki görüşlerinden hangileri kişisel egemenliğe karşı olduğunun kanıtı olabilir?

- A) I ve II
B) I ve III
C) III ve IV
D) I, II ve IV

12. Öğretimin birleştirilmesini sağlamak için dönemin Millî Eğitim Bakanı Vasıf Çınar Bey; "Bir devletin irfan ve genel maarif siyasetinde, milletin fikir ve his itibarıyla birliğini sağlamak için öğretimin birleştirilmesi en doğru, en ilmî ve en asri, her yerde faydaları ve iyiliği görülmüş bir umdedir (ilkedir)." ifadelerinin bulunduğu bir kanun teklifini Meclise sunmuştur.

Bu teklife göre kanunun kabulünün gerekçesi, aşağıdakilerden hangisidir?

- A) İnanç birliğini kurmak
B) Karma eğitimi sağlamak
C) Okuma yazma oranını artırmak
D) Düşünce ve duygu birliğini gerçekleştirmek

13. Yıl 1925'tir. Askerlik çağı gelmiş olan gençlerin askere alma işlemleri yapılacaktır. Askerlik şubesine gelen gençler, işlemleri yapılmak üzere sırayla çağrılmaya başlanır. "Ahmet oğlu Ali!" diye bir çağrı yapılırca iki genç birden görevlinin karşısına çıkarlar. Görevli kişi;
– *Evladım, ben bir kişi çağırdım. Niçin iki kişi birden geldiniz?*
Gençlerden biri;
– *Efendim, çağırdığınız kişi benim, der.*
Öbür genç de;
– *Efendim, ben de Ahmet oğlu Ali'yim, diyerek cevap verir.*

Paragrafta anlatılan durum, aşağıdaki kanunlardan hangisinin çıkarılma gerekçelerinden biri olabilir?

- A) Soyadı Kanunu'nun
B) Kabotaj Kanunu'nun
C) Türk Medenî Kanunu'nun
D) Tevhid-i Tedrisat Kanunu'nun

14.



Diyagramdaki (?) yerine, aşağıdaki kavramlardan hangisi getirilmelidir?

- A) Uzlaşma
B) Millîleşme
C) Çağdaşlaşma
D) Sosyalleşme

15. Cumhuriyet Dönemi'nde kabul edilip yürürlüğe konulan Kabotaj Kanunu'yla, Türkiye kıyılarında deniz taşımacılığı ile limanlar arasında gemi işletme ve ticaret yapma hakkı, Türk vatandaşlarına ve Türk bayrağı taşıyan gemilere tanındı.

Buna göre Kabotaj Kanunu'yla Türkiye Cumhuriyeti Devleti, aşağıdakilerden hangisini benimsemiş olamaz?

- A) Millet egemenliğini
B) Millî ekonomi politikasını
C) Egemen devlet anlayışını
D) Bağımsız devlet siyasetini

16. "Bir millet kültür ordusuna sahip olmadıkça, savaş meydanlarında ne kadar parlak zaferler elde ederse etsin, o zaferlerin sürekli sonuçlar vermesi, ancak kültür ordusunun varlığına bağlıdır."

ATATÜRK

Atatürk bu sözüyle, yönetim anlayışında önem verdiği millî güç unsurlarından hangisini vurgulamıştır?

- A) Askeri gücü
B) Siyasi gücü
C) Ekonomik gücü
D) Sosyokültürel gücü

17. Nutuk; gelecek nesillere Kurtuluş Savaşı'nı ve sonrasındaki gelişmeleri anlatmak için, 1919'da Mustafa Kemal'in Samsun'a çıkışı ile başlayıp 1927'ye kadar gerçekleşen olayları anlatan ve tarihe kaynaklık eden bir eserdir.

Verilen bu bilgiden Nutuk ile ilgili, aşağıdakilerden hangisine ulaşamaz?

- A) Yazarına
B) Amacına
C) İçeriğine
D) Tarihsel değerine

18. "Atatürkçülüğün özü, kültürel değerler ve geleneklerine bağlı ama bir o kadar da her türlü yeniliğe son derece açık bireyler yetiştirmektir." diyen bir öğrenci, bu fikrini, aşağıdaki Atatürkçülük ilkelerinden hangilerine dayanarak söylemiş olabilir?

- A) Laiklik – Devletçilik
B) Halkçılık – İnkılapçılık
C) Halkçılık – Cumhuriyetçilik
D) Milliyetçilik – İnkılapçılık

19.

Ben Türkiye Cumhuriyeti vatandaşım. Ülkemde devletin vatandaşa, vatandaşın da devlete karşı hak ve görevleri en çağdaş şekilde düzenlenmiştir. Bireylerin hiçbirine ayrıcalık tanınmaz, herkes kanunlar önünde eşittir.



Bekir Bey

Bekir Bey'in yukarıdaki konuşması ülkemizde, aşağıdaki Atatürk ilkelerinden hangisinin uygulandığına kanıttır?

- A) Cumhuriyetçiliğin
B) Milliyetçiliğin
C) Halkçılığın
D) Laikliğin

20. Mustafa Kemal'in gerçekleştirdiği inkılapların temelinde Atatürk ilkeleri yer alır. Mustafa Kemal bu ilkelere dayanarak ülkede siyasi, sosyal, ekonomik ve kültürel alanlarda inkılaplar yapmıştır.

Bu bilgide Atatürk ilkelerinin hangi ortak özelliği vurgulanmıştır?

- A) Evrensellik
B) Barışçılık
C) Uygulanabilirlik
D) Bilimsellik

TEST BİTTİ.
CEVAPLARINIZI KONTROL EDİNİZ.

SINAV SÜRESİNCE UYULACAK KURALLAR

1. Öğrenciler, sınav kurallarına ve salon görevlilerinin tüm uyarılarına uymak zorundadırlar.
2. Sınav başladıktan sonra öğrencilerin salon görevlileri ve birbirleri ile konuşmaları, kalem, silgi vb. şeyleri istemeleri yasaktır.
3. Sınav evraklarını teslim etmeyenlerin sınavı geçersiz sayılacaktır.

SINAV GÖREVLİLERİNCE SINAV BAŞLAMADAN ÖNCE ÖĞRENCİLERE YAPILACAK SON UYARI

- Soracağınız bir şey var mı? Varsa, şimdi sorunuz.
- Sınav başladıktan sonra sorularınıza cevap verilmeyecektir.
- Başlama zilini bekleyiniz.
- Hepinize başarılar dileriz.

(Sınav görevlisi başlama ve bitiş saatini tahtaya yazacaktır.)

Bu kitapçığın her hakkı saklıdır. Hangi amaçla olursa olsun, kitapçığın tamamının veya bir kısmının Millî Eğitim Bakanlığı Yenilik ve Eğitim Teknolojileri Genel Müdürlüğünün yazılı izni olmadan kopya edilmesi, fotoğraflarının çekilmesi, bilgisayar ortamına alınması, herhangi bir yolla çoğaltılması, yayımlanması veya başka bir amaçla kullanılması yasaktır. Bu yasağa uymayanlar, doğabilecek cezai sorumluluğu ve kitapçığın hazırlanmasındaki mali külfeti peşinen kabullenmiş sayılır.

**11 MAYIS 2014 TARİHİNDE YAPILAN 8. SINIF II. DÖNEM
T.C. İNKILAP TARİHİ VE ATATÜRKÇÜLÜK DERSİ ORTAK MAZERET SINAVI
“A” KİTAPÇIĞI CEVAP ANAHTARI**

T.C. İNKILAP TARİHİ VE ATATÜRKÇÜLÜK

1. D
2. B
3. D
4. D
5. B
6. B
7. A
8. B
9. C
10. B
11. B
12. D
13. A
14. C
15. A
16. D
17. A
18. D
19. C
20. C



T.C.
MİLLÎ EĞİTİM BAKANLIĞI

A

KİTAPÇIK TÜRÜ

8. SINIF II. DÖNEM
İNGİLİZCE DERSİ
ORTAK (MAZERET) SINAVI
11 MAYIS 2014 Saat: 11.20

Adı ve Soyadı :
Sınıfı :
Öğrenci Numarası :

ÖĞRENCİLERİN DİKKATİNE!

1. Sınıf öğrenci yoklama listesinde belirtilen sınıfta ve sıra numarasında oturmanız gerektiğinden durumunuzu kontrol ediniz.
2. Bu sınavda cevaplayacağınız soru sayısı 20, sınav süreniz 40 dakikadır.
3. Sınav süresince dışarı çıkılmayacaktır.
4. Sınav sırasında sözlük, hesap makinesi, saat fonksiyonu dışında özellikleri bulunan saat veya çağrı cihazı, cep telefonu, telsiz, radyo ve bilgisayar özelliği bulunan elektronik cihazları yanınızda bulundurmanız hâlinde sınavınız geçersiz sayılacaktır.
5. Soruları ve sorulara verdiğiniz cevapları, yanınızda götürmek amacıyla kaydetmeyiniz; hiçbir şekilde dışarı çıkarmayınız.
6. Cevap kâğıdınızı sınav süresince hiçbir öğrencinin göremeyeceği şekilde önünüzde bulundurunuz.
7. Sınavın değerlendirilmesi aşamasında, bilgisayar ortamında yapılan kopya analizinde, ikili, toplu kopya tespiti veya başka adayın sınav evrakını kullanmanız durumunda sınavınız geçersiz sayılacaktır.

CEVAP KÂĞIDI VE SORU KİTAPÇIĞI İLE İLGİLİ AÇIKLAMALAR

1. Cevap kâğıdınızdaki bilgilerin doğruluğunu kontrol ediniz ve cevap kâğıdınızı silinmeyen bir kalemle imzalayınız.
2. Cevap kâğıdındaki bilgiler size ait değilse veya cevap kâğıdı kullanılmayacak durumdaysa sınav görevlilerinin temin edeceği yedek cevap kâğıdına kimliğinizle ilgili bilgileri açıklamalar doğrultusunda yazınız ve kodlayınız.
3. Cevap kâğıdı üzerindeki kodlamaları kurşun kalemle yapınız.
4. Değiştirmek istediğiniz bir cevabı, yumuşak silgiyle cevap kâğıdını örselemeden temizce siliniz ve yeni cevabınızı kodlayınız.
5. Kitapçık türünü cevap kâğıdınızdaki ilgili alana kodlayınız. Bu kodlamayı yapmadığınız veya yanlış yaptığınız takdirde sınavınızın değerlendirilmesi doğru yapılamayacaktır.
6. Cevaplarınızı, cevap kâğıdındaki ilgili soru numarasını dikkate alarak yuvarlağın dışına taşırmadan kodlayınız.
7. Soru kitapçığının sayfalarını kontrol ediniz, baskı hatası var ise değiştirilmesini sağlayınız.
8. Soruların çözümü için size ayrıca boş kâğıt verilmeyecektir. Soru kitapçığının içindeki boş alanları çözümleriniz için kullanabilirsiniz.
9. Cevaplamaya istediğiniz sorudan başlayabilirsiniz. Cevabını bilmediğiniz sorular üzerinde fazla zaman kaybetmeden diğer sorulara geçiniz. Zamanınız kalırsa bu sorulara daha sonra dönebilirsiniz.
- 10 Soru kitapçığı üzerinde yapıлып cevap kâğıdına işaretlenmeyen cevaplar değerlendirme işlemine alınmayacaktır.
11. Sınav puanınızın hesaplanmasında sadece doğru cevaplarınız dikkate alınacaktır.
12. Sınav bitiminde, soru kitapçığı ve cevap kâğıdını salon görevlilerine teslim ediniz.

BAŞLAYINIZ DENİLMEYEN SORU KİTAPÇIĞINIZI AÇMAYINIZ.

1- 8. sorularda boş bırakılan yere uygun gelen seçeneği işaretleyiniz.

1. If you want to be a successful student, and use your time carefully.

- A) feel stressed B) miss classes
C) make a plan D) never rest

2. After the Independence War, Turkish people were very poor. So He built new factories and brought modern agriculture.

- A) Atatürk fought against poverty.
B) Atatürk introduced Latin alphabet.
C) Atatürk adopted the Law of Surname.
D) Atatürk gave the women the right to vote.

3. Öznur : My sister Özlem never tidies up our bedroom and I don't like it. What should I do?

Rose : In my view, and give her a chance.

- A) you will be very happy
B) you should talk to her about it
C) you are both sensitive and tidy
D) you can have a good time with her

4. Selen : I've made a chocolate cake. Would you like some?

John : I don't like chocolate.

- A) You're welcome. B) I agree.
C) Of course. D) No, thank you.

5. Tuğçe : I'm in a hurry.

Lisa : Sure! Where do you want to go?

- A) Would you like to drink coffee?
B) Would you like to buy a car?
C) Can you give me a lift?
D) Can we watch a film?

6. Cem : What are your future plans?

Tom :

- A) I did some courses in English.
B) I'd like to work as an engineer.
C) I've finished a degree in Maths.
D) I'm going for an interview tomorrow.

7. **Boss** : If you work for us, you'll have job security.

Ahmet : What do you mean? I don't understand you.

Boss : Well,

- A) you'll get a higher position in the company.
- B) you'll work at different hours in a day.
- C) you'll get much money for your work.
- D) you'll have rights to keep your job.

8. **Selçuk** : What about going to the theatre?
Mary :

- A) It sounds great.
- B) I'm afraid I'm full.
- C) Here are the bills.
- D) You can't help me.

9. Aşağıda verilen bilgilere göre, boş bırakılan yere uygun gelen seçeneği işaretleyiniz.



A GOOD LANGUAGE LEARNER...

- ▶ can get the meanings of words from the context.
- ▶ should be extrovert and creative.
- ▶ doesn't worry about mistakes.
- ▶ doesn't miss any chance to speak English.

A good language learner

- A) can never be extrovert.
- B) doesn't communicate in English.
- C) doesn't always need a dictionary.
- D) should correct the mistakes immediately.

10. Aşağıda verilen resimlere göre doğru ifadeyi işaretleyiniz.



- A) I haven't put the flowers on the table.
- B) I have already done the tidying-up.
- C) I haven't turned off the TV yet.
- D) I have already moved the sofa.

11. Aşağıda verilen tabloda hangi sıfatlar yanlıs grupta yer almaktadır?

STRENGTHS	WEAKNESSES
responsible	bad-tempered
polite	creative
selfish	indecisive
reliable	moody

- A) reliable - bad-tempered
 B) responsible - indecisive
 C) selfish - creative
 D) polite - moody

12. Aşağıdaki tabloya göre doğru ifadeyi işaretleyiniz.

	likes working in a group	prefers a modest life	makes friends easily	keeps a secret
Dila	X	✓	X	✓
Betül	✓	X	✓	X





Yes = ✓

No = X

- A) Betül likes working in a group.
 B) Betül prefers a modest life.
 C) Dila doesn't keep a secret.
 D) Dila makes friends easily.

13. I had a very good time in Ankara last week. First, I visited Anıtkabir and I went to a shopping centre on Monday evening. On Tuesday, I had lunch with my friends. We took a lot of photos there. On Wednesday, I went to the theatre and I turned back to izmir.

Verilen metne göre Cemre aşağıdakilerden hangisini yapmamıştır?



14. Aşağıda karışık olarak verilen cümlelerin anlamlı biçimde sıralandığı seçeneği işaretleyiniz.

- I- One day, an old lady came and gave an apple to Snow White.
 II- The dwarfs couldn't save her but then a prince came and saved her.
 III- Finally, they got married and lived happily ever after.
 IV- She ate the apple and fell on the ground.

- A) I - III - IV - II
 B) I - IV - II - III
 C) II - I - IV - III
 D) IV - I - III - II

15. 16. ve 17. soruları aşağıda verilen metne göre cevaplayınız.

Hi, I'm Meltem. I've just done a degree in Modern Languages. I'd like to work as a teacher because I love children a lot. I've applied for a few jobs but I'm still unemployed.



Hello, I'm Tim. I'm doing a degree in Business Studies. After that, I'd like to start my own business. I think I won't make much money at first but it is worth trying.



Hi, I'm Jill. I've done my master's degree in Biology. I'm going to apply for a job at a hospital. I've already written my CV.



Hello, everyone. I'm Özgür. I finished high school two months ago. I've worked as a waiter since then. I'm interested in cooking. I'd like to run my own restaurant one day. I hope I'll be a famous chef and make a lot of money in food industry.



15. Who would like to work as a teacher?

- A) Özgür
B) Tim
C) Jill
D) Meltem

16. What do Tim and Özgür want to do? They want to

- A) run their own businesses
B) make a lot of money
C) apply for a new job
D) be famous one day

17. Metne göre doğru seçeneği işaretleyiniz.

- A) Tim loves children a lot.
B) Jill has already written her CV.
C) Meltem is interested in cooking.
D) Özgür has done a degree in Biology.

18. 19. ve 20. soruları aşağıda verilen metne göre cevaplayınız.

Ahmet Yıldız is a successful writer. He went to a primary school in Antalya in 1962. When he finished high school in 1973, he went to İstanbul and studied Law. After he got his degree, he moved to Antalya and worked as a lawyer for a few years. Then, in 1979 he won a scholarship at Oxford University and went to England. A publishing house accepted his first book and published it in 1980. It was a big success. He has written over 200 books so far. His novels have sold 100 million copies around the world in 33 different languages. He has won many awards so far. His last book has been on the bestseller list for 98 weeks. He won "The Best Writer of the Year Award" in 1989, 1997 and 2005.

18. When did Ahmet Yıldız publish his first book?

- A) In 1962 B) In 1979
C) In 1980 D) In 1973

19. What did Ahmet Yıldız do first when he got his degree?

- A) He translated his books into 33 different languages.
B) He moved to Antalya and worked as a lawyer.
C) He won "The Best Writer of the Year Award".
D) He went to Oxford University to study Law.

20. Metne göre doğru seçeneği işaretleyiniz.

- A) Ahmet Yıldız has never published his books.
B) Ahmet Yıldız wrote his first novel in Antalya.
C) Ahmet Yıldız had some problems at school.
D) Ahmet Yıldız has had a successful career.

TEST BİTTİ.

CEVAPLARINIZI KONTROL EDİNİZ.

SINAV SÜRESİNCE UYULACAK KURALLAR

1. Öğrenciler, sınav kurallarına ve salon görevlilerinin tüm uyarılarına uymak zorundadırlar.
2. Sınav başladıktan sonra öğrencilerin salon görevlileri ve birbirleri ile konuşmaları, kalem, silgi vb. şeyleri istemeleri yasaktır.
3. Sınav evraklarını teslim etmeyenlerin sınavı geçersiz sayılacaktır.

SINAV GÖREVLİLERİNCE SINAV BAŞLAMADAN ÖNCE ÖĞRENCİLERE YAPILACAK SON UYARI

- Soracağınız bir şey var mı? Varsa, şimdi sorunuz.
- Sınav başladıktan sonra sorularınıza cevap verilmeyecektir.
- Başlama zilini bekleyiniz.
- Hepinize başarılar dileriz.

(Sınav görevlisi başlama ve bitiş saatini tahtaya yazacaktır.)

Bu kitapçığın her hakkı saklıdır. Hangi amaçla olursa olsun, kitapçığın tamamının veya bir kısmının Millî Eğitim Bakanlığı Yenilik ve Eğitim Teknolojileri Genel Müdürlüğünün yazılı izni olmadan kopya edilmesi, fotoğraflarının çekilmesi, bilgisayar ortamına alınması, herhangi bir yolla çoğaltılması, yayımlanması veya başka bir amaçla kullanılması yasaktır. Bu yasağa uymayanlar, doğabilecek cezai sorumluluğu ve kitapçığın hazırlanmasındaki mali külfeti peşinen kabullenmiş sayılır.

**11 MAYIS 2014 TARİHİNDE YAPILAN 8. SINIF II. DÖNEM
İNGİLİZCE DERSİ ORTAK MAZERET SINAVI
“A” KİTAPÇIĞI CEVAP ANAHTARI**

İNGİLİZCE

1. C
2. A
3. B
4. D
5. C
6. B
7. D
8. A
9. C
10. B
11. C
12. A
13. D
14. B
15. D
16. A
17. B
18. C
19. B
20. D