



A
KİTAPÇIK TÜRÜ

T.C.
MİLLÎ EĞİTİM BAKANLIĞI
ÖLÇME, DEĞERLENDİRME VE SINAV HİZMETLERİ GENEL MÜDÜRLÜĞÜ

8. SINIF 1. DÖNEM
TÜRKÇE DERSİ
MERKEZİ ORTAK SINAVI
25 KASIM 2015 Saat: 09.00

Adı ve Soyadı :
Sınıfı :
Öğrenci Numarası :

SORU SAYISI : 20
SINAV SÜRESİ : 40 Dakika

ÖĞRENCİLERİN DİKKATİNE!

1. Sınıf öğrenci yoklama listesinde belirtilen sınıfta ve sıra numarasında oturunuz.
2. Cevap kâğıdındaki kimlik bilgilerinin doğruluğunu kontrol ediniz.
3. Kitapçık türünü cevap kâğıdındaki ilgili alana kodlayınız.
4. Cevap kâğıdı üzerindeki kodlamaları kurşun kalemle yapınız.

SINAV BAŞLAMADAN ÖNCE
KİTAPÇIĞIN ARKA KAPAĞINDAKİ UYARILARI MUTLAKA OKUYUNUZ.

TÜRKÇE

1. Bu testte 20 soru vardır.
2. Cevaplarınızı, cevap kağıdına işaretleyiniz.

1. Aşağıdaki cümlelerde altı çizili kelimelerden hangisi karşısında verilen anlamda uygun kullanılmamıştır?

	Cümle	Anlam
A)	Elimde eğitim konusuna <u>dokunan</u> bir yazı var.	İlişkin, ilgili olmak, değinmek
B)	Ben bir dostta önce güven ve saygı <u>ararım</u> .	Önem verip istemek
C)	Havanın kararmasıyla caddedeki kalabalık <u>dağılmaya</u> başladı.	Birliği, beraberliği bozulmak
D)	Teklifimi kabul etmeyeceğini daha o gün <u>anlamıştım</u> .	Birinin duygularını, istek ve düşüncelerini sezebilmek

2. Sanatçılığın pek çok zor tarafı var. Fakat son günlerde zihnimi kurcalayan bir başka noktası da kendini tekrar etmek gibi bir yanının olması.

Altı çizili deyim bu metne kattığı anlam aşağıdakilerden hangisidir?

- A) Canını sıkmak
- B) Sürekli düşündürmek
- C) Çok üzülme
- D) Kararsız bırakmak

3. Yayınevimizin - - - - kitapları arasında geçmişimizdeki derin bir yaraya parmak basan bu eser var.

Bu cümlede boş bırakılan yere aşağıdakilerden hangisi getirilirse cümle farklı bir anlam kazanır?

- A) öne çıkan
- B) kalbe dokunan
- C) göze çarpan
- D) dikkat çeken

4. (I) Sıcak temmuz güneşi, Ömer Dayı'nın alnındaki terleri çoğaltıyordu. (II) Ömer Dayı, sabahın beri tarlasında buğday yoluyordu. (III) Elindeki orağa güneş vurdukça ışığı gözlerini kamaştırıyordu. (IV) Arada sırada öfkelenerek doğruluyor, bıkkın bir şekilde geriniyor ve belini kütürdetiyordu.

Bu metinde numaralanmış cümlelerden hangisi öznel bir nitelik taşıyor?

- A) I.
- B) II.
- C) III.
- D) IV.

5. (I) Şile'den taşınma hazırlığı devam ederken bugün bazı kitapları, dergileri evde yer yok diye başkalarına gönderdim. (II) İlk öğretmenlik yılımdan hatta lise yıllarımdan bugüne kadar biriktirdiğim gazete sayfalarını, okul evraklarını, ders defterlerimi imha ettim. (III) Resmen hafızamın bir kısmını oluşturan kayıtları yok ettim. (IV) Nasıl bir duyguda bunları yaptığımı bilmiyorum.

Bu metinde numaralanmış cümlelerin hangisinde sebep-sonuç ilişkisi vardır?

- A) I.
- B) II.
- C) III.
- D) IV.

6. Cebeci İstasyonu'nda bir tren
Nefes nefese soluyordu.
Gerilmiş bir keman teli gibiydik.
Ankara Kalesi'nde bir eski çalar saat
Bilmem kaç vuruşuyordu.

Bu dizelerde aşağıdaki söz sanatlarından hangisi yoktur?

- A) Konuşturma
B) Benzetme
C) Mecaz
D) Kişileştirme

7. Yazar, "Çanakkale Mahşeri" adlı kitabıyla
romancı olarak tarihe bakışta yeni bir çığır açtı.
Kurmaca kahraman ve olaylar yerine sadece
tarihî gerçeklerden yola çıkarak bir eser
ortaya koydu. Bu eser ülke çapında büyük ilgi
gördü, defalarca baskısı yapıldı.

Bu metin aşağıdaki yazı türlerinden hangisine örnek gösterilir?

- A) Günlük
B) Anı
C) Biyografi
D) Eleştiri

8. Çocuğunuzun istediği oyuncuğın ya da almak
istediğiniz bavulun Çin malı olmama olasılığı
çok düşük. Çünkü Çin'den Anadolu'ya uzanan
tarihî İpek Yolu'nda, ipek ve baharatın yerini
artık çok ucuz olması nedeniyle oyuncaklar,
elektronik cihazlar, müzik aletleri ve spor mal-
zemeleri aldı. Türkiye'ye ithal edilen her 100
oyuncak ve bavulun 92'si Çin'den geliyor.

Bu metinde aşağıdaki sorulardan hangisinin cevabı yoktur?

- A) Çin'den çok ürün alınmasının sebebi nedir?
B) Çin'den ithal edilen ürünler kaliteli midir?
C) İpek Yolu ticaret ürünlerinde değişiklik
olmuş mudur?
D) Çin'den en çok hangi ürünler ithal edilmek-
tedir?

9. Geçmiş yüzyıllar öncesine dayanan ve toplam
kırk sekiz taşla oynanan zekâ oyunu "mangala"
yenilenmiş yüzüyle meraklılarına sesleniyor.
Araştırmalar, mangalanın Orta Asya'dan beri
yaygın olarak oynandığı, Osmanlı zamanında
da varlığını sürdürdüğü ve sosyal ortamlarda
önemli bir vakit geçirme aracı olduğunu ortaya
koyuyor. Mangala, 2009'da Kültür Bakanlığı
tarafından zekâ ve strateji oyunu olarak tescil
edildi.

Bu metinde "mangala" oyunuyla ilgili aşağıdakilerden hangisine değinilmemiştir?

- A) Eskiden toplumsal hayatın bir parçası olduğuna
B) Yenilenerek meraklılarına sunulduğuna
C) Özellikle gençler tarafından rağbet gördüğüne
D) Tarihinin çok eskilere dayandığına

10. Ticarete kâr ve zarar hanesi diye bir terim kullanılır. Bunu bir an için dilimize de uyarlamaya çalışalım. Dilimizde ne gibi kazançlarımız, ne gibi kayıplarımız olduğu araştırılmaya değer. Bu dil yüzyıllar boyunca nasıl örülmüş, çağın şartlarına göre ne gibi dönüşümleri gerçekleştirmiş ve bir ara nasıl çözülmüş, daha sonra kendini nasıl yenilemiş, özleşmiş, tekrar yabancılaşmaya başlamış? “Emgek” kelimesinden “zahmet”e, “eziyet”e ve son olarak “emek”e nasıl dönülmüş? “Takat”tan “dayanma gücü”ne, “başarım”a, ardından “performans”a nasıl geçilmiş?

Bu metnin konusu aşağıdakilerden hangisidir?

- A) Dilimizin gelişim ve değişim süreci
B) Dilimizdeki yabancılaşmanın nedenleri
C) Dilimizin kazanç hanesine yazılan kelimeler
D) Dilimizde karşılığı olmayan kelimeler

11. Küçücük kuş, kafesin içindeyken mutsuzdu. Kaçıp kurtulmak istedi. Kaçıncaya dek akla kararı seçti. Havalandı. Bulutlara doğru süzülerek yükseldi. Hem üzgündü hem dalgındı. Nereye gittiğini bilmiyordu. Yalnız dokunaklı dokunaklı ötüyordu. O böyle öttükçe bütün kuşlar çevresinde toplanıyordu.

Bu metnin dil ve anlatım özellikleriyle ilgili aşağıdakilerden hangisi söylenemez?

- A) Genellikle kısa cümleler kullanılmıştır.
B) Kolay anlaşılır bir dili vardır.
C) Örneklerden yararlanılmıştır.
D) Deyime yer verilmiştir.

12. Halk hikâyelerinde ilk olarak hikâyeye konu olan bir olay gerçekleşir. Sonra bu olay sözlü gelenek içinde kuşaktan kuşağa aktarılır. Bu aktarmalarda, hikâyeyi anlatanlar bazı bölümlerine türkülerini de dâhil ederler. Daha sonra âşıklar (saz şairleri, halk şairleri) bu hikâyeleri belli bir sıraya göre yeniden düzenleyerek halka açık yerlerde saz eşliğinde anlatırlar. Böylece son şeklini alan halk hikâyeleri, yazıya geçirilerek unutulmaktan kurtarılmış olur.

Bu metin halk hikâyeleriyle ilgili aşağıdaki sorulardan hangisine cevap vermek amacıyla yazılmıştır?

- A) Ortaya çıkmasında âşıkların rolü var mıdır?
B) Diğer metin türleriyle ilişkisi bulunur mu?
C) Hangi konular ele alınmıştır?
D) Oluşum süreci nasıldır?

13. Zaman zaman çevrenizdeki çocukların, kesinlikle sonu gelmeyecekmiş gibi görünen, birbirinden tuhaf sorularına tesadüf etmişsinizdir. Beş altı yaşlarında olan çocukları şöyle bir düşünün, ne çok soru sorarlar çevrelerinde olup bitenleri anlamak için: “Bu ne, niye, ama neden, nasıl, ne zaman?” Sabırla cevap verirsiniz ve tam bittiğini sandığınız anda başa dönerler: “Bu ne, niye vb.?” Çünkü - - - -

Bu metinde boş bırakılan yere düşüncenin akışına göre aşağıdakilerden hangisi getirilmelidir?

- A) soruların tamamı birbirinin aynısıdır.
B) sorular hayatı ve dünyayı öğrenmelerine yardımcı olur.
C) soru sormak çocuklar için eğlenceli bir uğraştır.
D) çocuklar sorularıyla büyüklerini bıktırırlar.

14. 1. Metin

Çayırlar geniş ovalardır. Yeryüzünün çeyreğinden fazlasını çayırlar oluşturur. Az yağış alması nedeniyle küçük otlar yetişir. Bu alanlar antilop ve zebra gibi yiyecek ortamı sağlar.

2. Metin

Yeryüzünün üçte ikisinden fazlasını okyanuslar oluşturur. Su altı yaşamının en çeşitli olduğu bölgeler sıcak ve sığ sulardır. Bu güzel su bahçeleri balık, sünger ve deniz kabuklusu kaynar.

Aşağıdakilerden hangisi bu metinlerin ortak yönlerinden biri değildir?

- A) Karşılaştırmaya yer vermiş olmaları
- B) Bilgi vermek için yazılmaları
- C) Doğadan bahsetmeleri
- D) Sayısal verilerden yararlanmaları

15.

- I. Aynı salonda daha güzel eserler sergileniyor ama hiçbirinde "Mona Lisa" kadar izdiham yaşanmıyor. Kim olduğu bile bilinmeyen bir kadının resmini mümkün olduğu kadar yakından görebilmek için herkes büyük bir çaba harcıyor.
- II. Uzmanların bazıları ressamın kendisini kadın kimliğiyle resmettiğini söylerken, kimileri de Leonardo Da Vinci'nin hiçbir model kullanmadığını, bunun yerine hayâlindeki bir kadını resmettiğini düşünüyor.
- III. Paris'teki Louvre Müzesinin bir salonunda kalın bir cam vitrinin arkasında sergilenen "Mona Lisa" tablosunu her yıl milyonlarca ziyaretçi büyük bir hayranlıkla izliyor.

Bu paragraflarla mantık akışına göre bir metin oluşturulduğunda sıralama aşağıdakilerden hangisi olur?

- A) II - I - III
- B) II - III - I
- C) III - I - II
- D) III - II - I

16. **Aşağıdaki cümlelerin hangisinde bir yazım yanlışı yoktur?**

- A) Bu soruyu Hasan beye sormuştu.
- B) Çocuklar el ele tutuşup Mogan gölünü gezdi.
- C) Raftan "Ayaşlı ve Kiracıları" Romanını alıp okumaya başladı.
- D) Akşam "Diyar Diyar Anadolu" programını izlemişlerdi.

17. **Aşağıdaki cümlelerin hangisinde virgöl farklı bir işlevde kullanılmıştır?**

- A) Gençler, davranışınızdan dolayı sizi kutluyorum.
- B) Arkadaşlar, yarın sabah erkenden bizde topluyoruz.
- C) Çocuklar, bilgisayarın başından hiç ayrılmıyor.
- D) Güzel kardeşim, biraz söz dinle.

18. (I) Bambular daha çok tropikal bölgelerde yaşayan çiçekli bitkilerdir. (II) Bambuların bazı türleri çok hızlı büyür. (III) Öyle ki günde bir metre kadar uzayanları vardır. (IV) Bu bitkiler genellikle yıllarca büyüyüp geliştikten sonra çiçek açar.

Bu metinde numaralanmış cümlelerin hangisinde fiilimsi kullanılmamıştır?

- A) I.
- B) II.
- C) III.
- D) IV.

19. Sesin nerde kaldı, her günkü sesin
Unutulmuş güzel şarkılar için
Bu dizelerdeki fiilimsinin türce özdeşi aşağıdakilerin hangisinde vardır?

- A) Bir yer var, biliyorum
Her şeyi söylemek mümkün
B) Yıllardır görmediğimiz kentin
Yürümüşük anısıyla eski cumbalı evlerin
C) Niçin oyun biterken en sonra hatırlanır
Hatıralarımızın en tatlı oyunları
D) Kaç gündür gözlerimi bile kırpmadan
Yağmur altında bir şehre bakıyorum

20. Aşağıdakilerin hangisinde altı çizili kelime grubu cümlenin öznesi değildir?

- A) Pazartesi sabahı bütün ev halkı bahçeye çıkmıştı.
B) Mezuniyet fotoğrafları odamdaki masanın üzerindeydi.
C) Görevliler parktaki hayvanları tek tek muayene etti.
D) Lambanın titrek ışığı küçük odayı aydınlatıyordu.

**TEST BİTTİ.
CEVAPLARINIZI KONTROL EDİNİZ.**

SINAV BAŞLAMADAN AŞAĞIDAKİ UYARILARI MUTLAKA OKUYUNUZ

1. Öğrenciler, sınav kurallarına ve salon görevlilerinin tüm uyarılarına uymak zorundadırlar.
2. Cevap kâğıdındaki kimlik bilgilerinin doğruluğunu kontrol ediniz. Bilgiler size ait değilse veya cevap kâğıdı kullanılmayacak durumdaysa sınav görevlilerine bildirin.
3. Sınav başladıktan sonra öğrencilerin salon görevlileri ve birbirleri ile konuşmaları, kalem, silgi vb. şeyleri istemeleri yasaktır.
4. Değiştirmek istediğiniz bir cevabı, yumuşak silgiyle cevap kâğıdını yıpratmadan temizce siliniz ve yeni cevabınızı kodlayınız.
5. Cevap kâğıdınızı silinmeyen bir kalemle imzalayınız.
6. Cevaplarınızı, cevap kâğıdındaki ilgili soru numarasını dikkate alarak yuvarlağın dışına taşırmadan kodlayınız.
7. Soru kitapçığının sayfalarını kontrol ediniz, baskı hatası var ise değiştirilmesini sağlayınız.
8. Soru kitapçığı üzerinde yapıлып cevap kâğıdına işaretlenmeyen cevaplar değerlendirmeye alınmayacaktır.
9. Soru kitapçığının içindeki boş alanları çözümlerinizi için kullanabilirsiniz.
10. Cevaplamaya istediğiniz sorudan başlayabilirsiniz.
11. Cevabını bilmediğiniz sorular üzerinde fazla zaman kaybetmeden diğer sorulara geçiniz. Zamanınız kalırsa bu sorulara daha sonra dönebilirsiniz.
12. Sınav puanınızın hesaplanmasında sadece doğru cevaplarınız dikkate alınacaktır.
13. Sınav bitiminde, soru kitapçığı ve cevap kâğıdını salon görevlilerine teslim ediniz.
14. Sınav sırasında sözlük, hesap makinesi, saat fonksiyonu dışında özellikleri bulunan saat veya çağrı cihazı, cep telefonu, telsiz, radyo ve bilgisayar özelliği bulunan elektronik cihazları yanınızda bulundurmanız halinde sınavınız geçersiz sayılacaktır.
15. Cevap kâğıdınızı sınav süresince hiçbir öğrencinin göremeyeceği şekilde önünüzde bulundurunuz.
16. Sınavınızın değerlendirilmesi aşamasında, toplu kopya tespiti veya başka adayın sınav evrakını kullanmanız durumunda sınavınız geçersiz sayılacaktır.
17. Soruları ve sorulara verdiğiniz cevapları kaydetmeyiniz, hiçbir şekilde dışarı çıkarmayınız.
18. Sınav süresince dışarı çıkılmayacaktır.
19. Sınav evraklarını teslim etmeyenlerin sınavı geçersiz sayılacaktır.

SINAV GÖREVLİLERİNCE SINAV BAŞLAMADAN ÖNCE ÖĞRENCİLERE YAPILACAK SON UYARI

- Soracağınız bir şey var mı? Varsa, şimdi sorunuz.
- Sınav başladıktan sonra sorularınıza cevap verilmeyecektir.
- Başlama zilini bekleyiniz.

Hepinize başarılar dileriz.

(Sınav görevlisi başlama ve bitiş saatini tahtaya yazacaktır.)

Bu kitapçığın her hakkı saklıdır. Hangi amaçla olursa olsun, kitapçığın tamamının veya bir kısmının Millî Eğitim Bakanlığı Ölçme, Değerlendirme ve Sınav Hizmetleri Genel Müdürlüğünün yazılı izni olmadan kopya edilmesi, fotoğraflarının çekilmesi, bilgisayar ortamına alınması, herhangi bir yolla çoğaltılması, yayımlanması veya başka bir amaçla kullanılması yasaktır. Bu yasağa uymayanlar, doğabilecek cezai sorumluluğu ve kitapçığın hazırlanmasındaki mali külfeti peşinen kabullenmiş sayılır.

**25 KASIM 2015 TARİHİNDE YAPILAN 8. SINIF I. DÖNEM
TÜRKÇE DERSİ MERKEZİ ORTAK SINAVI
“A” KİTAPÇIĞI CEVAP ANAHTARI**

TÜRKÇE

1. C
2. B
3. B
4. D
5. A
6. A
7. D
8. B
9. C
10. A
11. C
12. D
13. B
14. A
15. C
16. D
17. C
18. B
19. B
20. C



A
KİTAPÇIK TÜRÜ

T.C.
MİLLÎ EĞİTİM BAKANLIĞI
ÖLÇME, DEĞERLENDİRME VE SINAV HİZMETLERİ GENEL MÜDÜRLÜĞÜ

8. SINIF 1. DÖNEM
MATEMATİK DERSİ
MERKEZİ ORTAK SINAVI
25 KASIM 2015 Saat: 10.10

Adı ve Soyadı :
Sınıfı :
Öğrenci Numarası :

SORU SAYISI : 20
SINAV SÜRESİ : 40 Dakika

ÖĞRENCİLERİN DİKKATİNE!

1. Sınıf öğrenci yoklama listesinde belirtilen sınıfta ve sıra numarasında oturunuz.
2. Cevap kâğıdındaki kimlik bilgilerinin doğruluğunu kontrol ediniz.
3. Kitapçık türünü cevap kâğıdındaki ilgili alana kodlayınız.
4. Cevap kâğıdı üzerindeki kodlamaları kurşun kalemle yapınız.

SINAV BAŞLAMADAN ÖNCE
KİTAPÇIĞIN ARKA KAPAĞINDAKİ UYARILARI MUTLAKA OKUYUNUZ.

MATEMATİK

1. Bu testte 20 soru vardır.
2. Cevaplarınızı, cevap kağıdına işaretleyiniz.

1. $\frac{1}{6^{-2}}$ sayısı aşağıdakilerden hangisine eşittir?

- A) $\frac{1}{36}$ B) $\frac{1}{12}$ C) 12 D) 36

2. $(0,7) \cdot (0,7) \cdot (0,7) = (0,7)^a$ ve $\frac{1}{5} \cdot \frac{1}{5} \cdot \frac{1}{5} \cdot \frac{1}{5} \cdot \frac{1}{5} = 5^b$ olduğuna göre $a + b$ kaçtır?

- A) -3 B) -2 C) 5 D) 8

3. 5^{-4} sayısı aşağıdakilerden hangisine eşittir?

- A) 0,0005 B) 0,0002
C) 0,0016 D) 0,0025

4. Aşağıdakilerden hangisi bir sayının bilimsel gösterimidir?

- A) $3,4 \times 10^9$ B) $0,99 \times 10^9$
C) $0,7 \times 10^{-6}$ D) 11×10^{-8}

5. 4^6 ile $\frac{1}{8}$ sayılarının çarpımı aşağıdakilerden hangisidir?

- A) 2^3 B) 2^6 C) 2^9 D) 2^{11}

6. Birler basamağı 9 olan üç basamaklı kaç tane tam kare sayı vardır?

- A) 4 B) 5 C) 6 D) 7

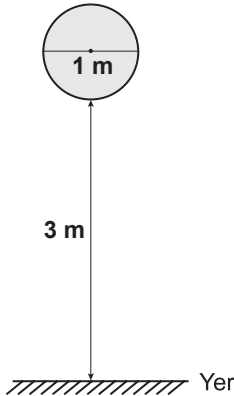
7. $2x(3x - 5) = 6x^2 - ax$ ifadesi bir özdeşlik olduğuna göre a kaçtır?

A) -5 B) -3 C) 7 D) 10

8. $\sqrt{12} + \square = \sqrt{75} - \sqrt{3}$ Bu eşitliğe göre \square yerine aşağıdaki sayılardan hangisi yazılmalıdır?

A) $2\sqrt{2}$ B) $2\sqrt{3}$ C) $3\sqrt{2}$ D) $3\sqrt{3}$

9.



Bir okçu, yukarıda gösterildiği gibi çapı 1 metre olan daire şeklindeki bir hedef tahtasına atış yapmaktadır. Hedef tahtasının yerden yüksekliği 3 metredir.

Atılan ok hedef tahtasına isabet ettiğine göre, saplandığı noktanın yerden yüksekliği, metre cinsinden aşağıdakilerden hangisi olabilir?

A) $\sqrt{6}$ B) $\sqrt{8}$ C) $\sqrt{15}$ D) $\sqrt{18}$

10. **Q** rasyonel sayılar kümesini, **Z** tam sayılar kümesini, **I** irrasyonel sayılar kümesini ve **N** doğal sayılar kümesini göstermektedir.

Bu kümelerden hangi ikisinin birleşimi gerçek sayılar kümesini oluşturur?

A) Q ve I B) I ve Z
C) Z ve Q D) I ve N

11. Aşağıdaki eşitliklerden hangisi doğrudur?

A) $\sqrt{40} = 4\sqrt{10}$ B) $\sqrt{48} = 2\sqrt{6}$
C) $\sqrt{72} = 6\sqrt{2}$ D) $\sqrt{99} = 9\sqrt{2}$

12. 5^6 tane kalemin tamamı, 25 boş kutuya eşit sayıda yerleştirildiğinde her bir kutuda kaç kalem olur?

A) 25^3 B) 25^2 C) 5^3 D) 5^2

13. $\sqrt{80}$ metre uzunluğundaki bir telin $\sqrt{20}$ metresi kullanılıyor.

Buna göre geriye telin kaçta kaç kalmıştır?

- A) $\frac{3}{4}$ 'ü B) $\frac{1}{2}$ 'i
C) $\frac{2}{5}$ 'si D) $\frac{1}{4}$ 'i

14. Alanı $4,41 \text{ cm}^2$ olan karenin bir kenarının uzunluğu, alanı $1,96 \text{ cm}^2$ olan karenin bir kenarının uzunluğundan kaç santimetre fazladır?

- A) 2,55 B) 2,45 C) 1,7 D) 0,7

15. $\frac{27 \cdot 3^2}{3^4}$ işleminin sonucu kaçtır?

- A) 1 B) 3 C) 9 D) 81

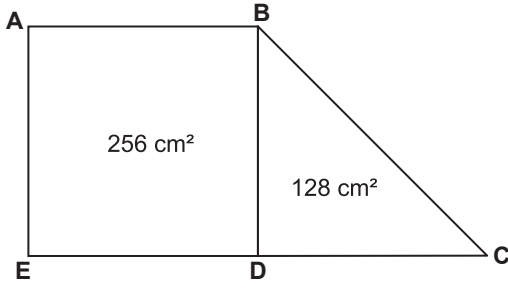
16. Alanı 24 cm^2 olan bir dikdörtgenin kenar uzunlukları aşağıdakilerden hangisi ola-
maz?

- A) $4\sqrt{2}$ cm ve $3\sqrt{2}$ cm
B) $4\sqrt{3}$ cm ve $2\sqrt{3}$ cm
C) $3\sqrt{8}$ cm ve $2\sqrt{8}$ cm
D) $4\sqrt{6}$ cm ve $\sqrt{6}$ cm

17. Aşağıdakilerden hangisi bir irrasyonel sayıdır?

- A) $\sqrt{28}$ B) $0, \bar{3}$
C) $\sqrt{4}$ D) $\frac{-7}{25}$

18.



Şekildeki ABDE karesinin alanı 256 cm^2 ve BCD dik üçgeninin alanı 128 cm^2 dir.

Buna göre $|EC|$ kaç santimetredir?

- A) 20 B) 24 C) 28 D) 32

19. $\sqrt{288}$ kilometrelik bir yolun yarısını dakika $\sqrt{8}$ kilometre, diğer yarısını dakika $\sqrt{18}$ kilometre hızla giden bir araç, bu yolun tamamını kaç dakikada gider?

- A) 4 B) 5 C) 6 D) 7

20. Aşağıdakilerden hangisi bir aritmetik dizinin ilk beş terimi olabilir?

- A) 1, 1, 2, 3, 5
 B) 1, 4, 9, 16, 25
 C) 2, 4, 8, 16, 32
 D) 3, 7, 11, 15, 19

TEST BİTTİ.
 CEVAPLARINIZI KONTROL EDİNİZ.

SINAV BAŞLAMADAN AŞAĞIDAKİ UYARILARI MUTLAKA OKUYUNUZ

1. Öğrenciler, sınav kurallarına ve salon görevlilerinin tüm uyarılarına uymak zorundadırlar.
2. Cevap kâğıdındaki kimlik bilgilerinin doğruluğunu kontrol ediniz. Bilgiler size ait değilse veya cevap kâğıdı kullanılmayacak durumdaysa sınav görevlilerine bildirin.
3. Sınav başladıktan sonra öğrencilerin salon görevlileri ve birbirleri ile konuşmaları, kalem, silgi vb. şeyleri istemeleri yasaktır.
4. Değiştirmek istediğiniz bir cevabı, yumuşak silgiyle cevap kâğıdını yıpratmadan temizce siliniz ve yeni cevabınızı kodlayınız.
5. Cevap kâğıdınızı silinmeyen bir kalemle imzalayınız.
6. Cevaplarınızı, cevap kâğıdındaki ilgili soru numarasını dikkate alarak yuvarlağın dışına taşırmadan kodlayınız.
7. Soru kitapçığının sayfalarını kontrol ediniz, baskı hatası var ise değiştirilmesini sağlayınız.
8. Soru kitapçığı üzerinde yapıлып cevap kâğıdına işaretlenmeyen cevaplar değerlendirmeye alınmayacaktır.
9. Soru kitapçığının içindeki boş alanları çözümlerinizi için kullanabilirsiniz.
10. Cevaplamaya istediğiniz sorudan başlayabilirsiniz.
11. Cevabını bilmediğiniz sorular üzerinde fazla zaman kaybetmeden diğer sorulara geçiniz. Zamanınız kalırsa bu sorulara daha sonra dönebilirsiniz.
12. Sınav puanınızın hesaplanmasında sadece doğru cevaplarınız dikkate alınacaktır.
13. Sınav bitiminde, soru kitapçığı ve cevap kâğıdını salon görevlilerine teslim ediniz.
14. Sınav sırasında sözlük, hesap makinesi, saat fonksiyonu dışında özellikleri bulunan saat veya çağrı cihazı, cep telefonu, telsiz, radyo ve bilgisayar özelliği bulunan elektronik cihazları yanınızda bulundurmanız halinde sınavınız geçersiz sayılacaktır.
15. Cevap kâğıdınızı sınav süresince hiçbir öğrencinin göremeyeceği şekilde önünüzde bulundurunuz.
16. Sınavınızın değerlendirilmesi aşamasında, toplu kopya tespiti veya başka adayın sınav evrakını kullanmanız durumunda sınavınız geçersiz sayılacaktır.
17. Soruları ve sorulara verdiğiniz cevapları kaydetmeyiniz, hiçbir şekilde dışarı çıkarmayınız.
18. Sınav süresince dışarı çıkılmayacaktır.
19. Sınav evraklarını teslim etmeyenlerin sınavı geçersiz sayılacaktır.

SINAV GÖREVLİLERİNCE SINAV BAŞLAMADAN ÖNCE ÖĞRENCİLERE YAPILACAK SON UYARI

- Soracağınız bir şey var mı? Varsa, şimdi sorunuz.
- Sınav başladıktan sonra sorularınıza cevap verilmeyecektir.
- Başlama zilini bekleyiniz.

Hepinize başarılar dileriz.

(Sınav görevlisi başlama ve bitiş saatini tahtaya yazacaktır.)

Bu kitapçığın her hakkı saklıdır. Hangi amaçla olursa olsun, kitapçığın tamamının veya bir kısmının Millî Eğitim Bakanlığı Ölçme, Değerlendirme ve Sınav Hizmetleri Genel Müdürlüğünün yazılı izni olmadan kopya edilmesi, fotoğraflarının çekilmesi, bilgisayar ortamına alınması, herhangi bir yolla çoğaltılması, yayımlanması veya başka bir amaçla kullanılması yasaktır. Bu yasağa uymayanlar, doğabilecek cezai sorumluluğu ve kitapçığın hazırlanmasındaki mali külfeti peşinen kabullenmiş sayılır.

**25 KASIM 2015 TARİHİNDE YAPILAN 8. SINIF I. DÖNEM
MATEMATİK DERSİ MERKEZİ ORTAK SINAVI
“A” KİTAPÇIĞI CEVAP ANAHTARI**

MATEMATİK

1. D
2. B
3. C
4. A
5. C
6. A
7. D
8. B
9. C
10. A
11. C
12. B
13. B
14. D
15. B
16. C
17. A
18. D
19. B
20. D



A
KİTAPÇIK TÜRÜ

T.C.
MİLLÎ EĞİTİM BAKANLIĞI
ÖLÇME, DEĞERLENDİRME VE SINAV HİZMETLERİ GENEL MÜDÜRLÜĞÜ

8. SINIF 1. DÖNEM
DİN KÜLTÜRÜ VE AHLAK BİLGİSİ DERSİ
MERKEZİ ORTAK SINAVI
25 KASIM 2015 Saat: 11.20

Adı ve Soyadı :
Sınıfı :
Öğrenci Numarası :

SORU SAYISI : 20
SINAV SÜRESİ : 40 Dakika

ÖĞRENCİLERİN DİKKATİNE!

1. Sınıf öğrenci yoklama listesinde belirtilen sınıfta ve sıra numarasında oturunuz.
2. Cevap kâğıdındaki kimlik bilgilerinin doğruluğunu kontrol ediniz.
3. Kitapçık türünü cevap kâğıdındaki ilgili alana kodlayınız.
4. Cevap kâğıdı üzerindeki kodlamaları kurşun kalemle yapınız.

SINAV BAŞLAMADAN ÖNCE
KİTAPÇIĞIN ARKA KAPAĞINDAKİ UYARILARI MUTLAKA OKUYUNUZ.

DİN KÜLTÜRÜ VE AHLAK BİLGİSİ

1. Bu testte 20 soru vardır.
2. Cevaplarınızı, cevap kağıdına işaretleyiniz.

1. I. Gelir dağılımının adil olduğu toplumlarda huzur olur.
II. Hırsızlığın olduğu yerde insanlar birbirlerine güvenmez.
III. Adaletin olmadığı toplumlarda karmaşa başlar.
IV. Dünya'nın kendi eksenini etrafında dönmesiyle gece ve gündüz oluşur.

Evrendeki yasalarla ilgili numaralanmış örneklerden hangisi konusu bakımından diğerlerinden farklıdır?

- A) I. B) II. C) III. D) IV.

2. Öğretmen, son yapılan araştırmalara göre dünyamızda fosil yakıtlarının aşırı kullanımı ve sera gazı gibi nedenlerle iklim değişikliğinin yaşandığını, mevsim sürelerinin ve sıcaklık değerlerinin değişime uğradığını söylemiştir. Bunun üzerine Ahmet söz alarak Kur'an-ı Kerim'den bu durumu ifade eden bir ayet okumuştur.

Buna göre Ahmet'in okuduğu ayet aşağıdakilerden hangisidir?

- A) "Allah'ın nimetini saymaya kalksanız, onu sayamazsınız..."
(Nahl suresi, 18. ayet)
- B) "Hakkında bilgi sahibi olmadığın şeyin ardına düşme..."
(İsrâ suresi, 36. ayet)
- C) "Göğü Allah yükseltti ve mizanı (dengeyi) O koydu. Sakın dengeyi bozmayın."
(Rahmân suresi, 7-8. ayetler)
- D) "Şüphesiz rızık veren, güç ve kuvvet sahibi olan ancak Allah'tır."
(Zâriyât suresi, 58. ayet)

3. **Aşağıdakilerden hangisi "kader" ile ilgili en kapsamlı açıklamadır?**

- A) Allah'ın insanları güçleri ölçüsünde sorumlu tutmasıdır.
B) Allah'ın başlangıçtan sonsuza kadar her şeyin zamanını, yerini ve özelliklerini önceden bilip takdir etmesidir.
C) Allah'ın peygamberler göndererek nelerin iyi, nelerin kötü olduğunu insanlara açıklamasıdır.
D) Allah'ın irade ve takdir ettiği şeylerin, yeri ve zamanı gelince gerçekleşmesidir.

4. Lise ve üniversiteye giriş sınavlarından önce televizyonlarda görmeye alıştığımız bir haber vardır: "Şimdi tevekkül ve dua vakti. Bu yüzden türbeler yine doldu, taştı. Duvarlara yazılar yazıldı, ağaçlara bez bağlandı. Anneler, babalar evlatları için dua ediyor." Röportajlarda ise: "Ne kadar çalıştın?" sorusuna, başlar öne eğilerek mahcup cevaplar verilmektedir. Bu da bize - - - - göstermektedir.

Bu metinde boş bırakılan yere düşüncenin akışına göre aşağıdakilerden hangisi getirilmelidir?

- A) türbelerin İslam dinindeki önemini
B) batıl inançların endişeleri artırdığını
C) başarı için anne-baba duasının gerekliliğini
D) toplumdaki tevekkül anlayışının yanlışlığını

5. --- yasaları bilmek, insanların çevresindeki kişilerle uyum içerisinde yaşamalarını sağlar. İnsanların birbirlerinin hak ve hukuklarına önem göstermelerini ve zarar verici davranışlardan kaçınmalarını gerektirir.

Bu metinde boş bırakılan yere aşağıdakilerden hangisi getirilmelidir?

- A) Fiziksel
C) Toplumsal
- B) Biyolojik
D) Kimyasal

6. “Allah, her şahsı, ancak gücünün yettiği ölçüde sorumlu kılar. Herkesin kazandığı hayır kendine, yapacağı şer (kötülük) de kendinedir...”
(Bakara suresi, 286. ayet)

Bu ayetten aşağıdakilerden hangisi çıkarılamaz?

- A) İnsan sınırsız bir irade sahibidir.
B) İnsan yaptıklarının karşılığını görecektir.
C) İnsan davranışlarında özgür bırakılmıştır.
D) İnsan gücü ölçüsünde sorumlu tutulmuştur.

7. Hz. Ömer bir gün, her canlının rızığını Allah verdiği için çalışmayıp vakitlerini sadece ibadetle geçirdiklerini ve Allah’a tevekkül ettiklerini söyleyen bir toplulukla karşılaşır. Onlara der ki: “Sizler tevekkül eden değil, tembel insanlarsınız. Gerçek tevekkül eden kişi, tohumunu tarlaya eken ve ondan sonra Allah’a dayanıp güvenendir.”

Hz. Ömer’in bu topluluğu eleştirmesinin sebebi aşağıdakilerden hangisidir?

- A) İbadetle meşgul olmaları
B) Tarıma karşı ilgisiz kalmaları
C) Rızıkı Allah’ın yarattığına inanmaları
D) Pasif bir tevekkül anlayışını benimsemeleri

8. **Yakınını kaybetmiş birisine, her hayatın bir sonu olduğunu anlatmak ve o kişinin üzüntüsünü hafifletmek için aşağıdaki ayetlerden hangisi hatırlatılmalıdır?**

- A) “Sen af yolunu tut, iyiliği emret ve cahillerden yüz çevir.”
(A'râf suresi, 199. ayet)
- B) Her can ölümü tadacaktır. Sonunda bize (Allah'a) döndürüleceksiniz.”
(Ankebût suresi, 57. ayet)
- C) “... Hiç kimse başkasının günahını yüklenmez...”
(Zümer suresi, 7. ayet)
- D) “... Şayet sen kaba, katı yürekli olsaydın, hiç şüphesiz etrafından dağılıp giderlerdi...”
(Âl-i İmrân suresi, 159. ayet)

9. Büşra, okul bahçesinde bir miktar para bulur. Biraz düşündükten sonra yapılacak en doğru hareketin okul idaresine giderek parayı teslim etmek olduğuna karar verir ve gidip parayı teslim eder.

Büşra'nın bu davranışı aşağıdaki ayetlerden hangisiyle ilişkilendirilemez?

- A) "Sevdiğiniz şeylerden Allah yolunda harcamadıkça 'iyi'ye asla erişemezsiniz..."
(Âl-i İmrân suresi, 92. ayet)
- B) "Biz, ona doğru yolu gösterdik ister şükredici olsun ister nankör."
(İnsân suresi, 3. ayet)
- C) "...Herkesin kazandığı iyilik kendi yararına, kötülük de kendi zararındır..."
(Bakara suresi, 286. ayet)
- D) "Kim hidayet yolunu seçerse bunu ancak kendi iyiliği için seçmiş olur. Kim de doğru-luktan saparsa kendi zararına sapmış olur..."
(İsrâ suresi, 15. ayet)

10. Hz. Muhammed (sav.), bir gün sahabe ile oturmuş sohbet ediyordu. Bu sırada bir genç erkenden kalkmış biraz ileride kazma kürek ile çalışıyordu. Bazıları: "Ya Resûlallah! Ne olurdu şu genç burada sohbetde bulunsa da Allah yolunda mesai sarf etmiş olsa!" dediler. Hz. Muhammed (sav.) bunun üzerine, "Böyle söylemeyin; eğer o genç, insanlara el açmak, çoluk çocuğunun nafakasını kazanmak için çalışıyorsa Allah yolundadır." buyurdu.

Peygamberimiz, burada aşağıdakilerden hangisini anlatmak istemiştir?

- A) Kendisi ile sohbet etmenin önemini
B) Çalışarak kazanmanın dinimizdeki kıymetini
C) Çalışmak için erken kalkmanın gerektiğini
D) Gençleri desteklemenin gerekliliğini

11.

- "Yazın başı pişenin kışın aşı pişer." (Atasözü)
- "Kimse kendi emeği ile kazandığından daha hayırlı bir lokma yememiştir."
(Hadis-i Şerif)
- "-----"



Mehmet Öğretmen anlattığı konu ile ilgili verdiği örneklere bir de ayet eklemek istemektedir.

Buna göre öğretmenin aşağıdaki ayetlerden hangisini seçmesi uygundur?

- A) "İnsan için kendi çalışmasından başka bir şey yoktur."
(Necm suresi, 39. ayet)
- B) "İyilik ederseniz kendinize etmiş olursunuz, kötülük yaparsanız yine kendinize yapmış olursunuz..."
(İsrâ suresi, 7. ayet)
- C) "... Size verdiğimiz rızıkların iyi ve temizlerinden yiyin ve Allah'a şükredin."
(Bakara suresi, 172. ayet)
- D) "... Hiçbir alışverişin, hiçbir dostluğun ve hiçbir şefaatin olmadığı kıyamet günü gelmeden önce, size rızık olarak verdiklerimizden Allah yolunda harcayın..."
(Bakara suresi, 254. ayet)

12.

Zehra Öğretmen; Hatay'da doğan,

I
öğretmenlik mesleğini severek yapan,

II
orta boylu ve esmer, üç yaşında mavi gözlü bir

III IV
kız çocuğuna sahip çok sevdiğimiz bir öğretme-nimizdir.

Bu cümlede altı çizili bölümlerden hangisi, Zehra Öğretmen'in iradesine örnek gösterilebilir?

- A) I. B) II. C) III. D) IV.

13. Aşağıdakilerden hangisi fiziksel, biyolojik ve toplumsal yasaların ortak özelliğidir?

- A) Madde ve enerjinin yapısı ve değişimi ile ilgili olmaları
- B) Toplumsal olaylar arasındaki sebep-sonuç ilişkilerini göstermeleri
- C) Bütün insanlığı ilgilendiren yasalar olmaları
- D) Canlılara ait özellikler ile ilgili olmaları

14.

	Evrensel Yasalar	Ayetler
I.	Fiziksel	"Allah bir kimseyi ancak gücünün yettiği ölçüde yükümlü kılar..." (Bakara suresi, 286. ayet)
II.	Toplumsal	"... Yeryüzünde gezin, dolaşın; Allah'ın ayetlerini yalanlayanların durumunu görün." (Âl-i İmrân suresi, 137. ayet)
III.	Fiziksel	"Denizde dağlar gibi yüzen (gemiler) de O'nun varlığının delillerindedir." (Şûrâ suresi, 32. ayet)
IV.	Toplumsal	"Ey iman edenler! Allah için hakkı ayakta tutan, adaletle şahitlik eden kimselerden olun..." (Mâide suresi, 8. ayet)

Bu tablodaki evrensel yasalar ile ayetlerden hangisi yanlış eşleştirilmiştir?

- A) I.
- B) II.
- C) III.
- D) IV.

15. Kader kavramını doğru anlamış bir kimse-den aşağıdaki tutumlardan hangisi beklenmez?

- A) Dünya hayatının bir imtihan olduğu bilinciyle hareket etmesi
- B) Her insanın Allah tarafından yaratıldığını bilerek hiç kimseye ayırım yapmaması
- C) Yalnızlık, çaresizlik ve korku gibi duygularla baş edilemeyeceğine inanması
- D) Çaba ve emeğinin karşılıksız kalmayacağını farkında olması

16. Âlimlerden biri, bir gün komşusunun sırt üstü yatarak "Allah'ım! Bana cenneti nasip et, bana şunu ver, bunu ver." diye dua ettiğini işitir. Âlim kişi de komşusunun damına çıkarak gürültü yapar. Adam, ona: "Damda ne arıyorsun?" diye sorar. Âlim kişi, "Kaybettiğim devemi arıyorum." der. Adam şaşkınlık içerisinde, "Damda deve mi aranır?" deyince o da cevabı yapıştırır: "Kuş tüyü yatakta sen cenneti arıyorsun da benim deveyi damda aramam mı sana tuhaf geliyor?"

Bu hikâyede verilen mesaj aşağıdakilerden hangisidir?

- A) Nimet için önce çaba harcanmalıdır.
- B) Dualar yalnızca Allah'a yapılmalıdır.
- C) Her konuda Allah'a güvenilmesi gerekir.
- D) Komşularımıza karşı sorumluluklarımız vardır.

17.



“Kimse, kimsenin günah yükünü taşıyacak değildir; kendi yükü ağır gelen kimse onu taşımak için başkasını yardıma çağırırsa, yakını da olsa, o yükün hiçbir parçasını taşıyamaz...”
(Fâtır suresi, 18. ayet)

“Bu ayetin konusu nedir?” diye soran öğretmene hangi öğrencinin verdiği cevap doğrudur?

A)

Emek ve rızık



B)

Ecel ve ömür



C)

İrade ve sorumluluk



D)

Sabır ve tevekkül



18. Evrende hiçbir şey başıboş, anlamsız ve amaçsız değildir. Her varlık birbiriyle uyum içerisinde, büyük bir bütünün parçası olarak hareket etmektedir. Hiçbir varlık, kendisi için belirlenmiş kanunların dışına çıkmamaktadır. Bu durum evrenin tesadüf eseri değil - - - - göre yaratıldığını göstermektedir.

Bu metinde boş bırakılan yere düşüncenin akışına göre aşağıdakilerden hangisi getirilmelidir?

- A) evrenin büyüklüğüne
- B) varlıkların amaçlarına
- C) varlıkların yaşam süresine
- D) belirli bir düzen ve ölçüye

19.

- I. Bu hızla gidersen ağaca çarpacaksın.
- II. Kurban Bayramı'nda dayımı ziyaret ettik.
- III. Milli maç saat 16.00'da başlayacak.
- IV. Dün fırından ekme aldım.

“Kader ve kaza” kavramları düşünüldüğünde yukarıdakilerden hangileri kaza kapsamında değerlendirilir?

- A) I. ve III.
- B) I. ve IV.
- C) II. ve III.
- D) II. ve IV.

20.

“Allah'tan başka ilah yoktur. O, daima diridir (hayy), bütün varlığın idaresini yürütendir (kayyum). O'nu ne uyuklama tutar ne de uyku. Göklerde ve yerde ne varsa hepsi O'nundur. İzni olmadan katında şefaath edebilecek olan kimdir? O, kullarının yaptıklarını ve yapacaklarını bilir. İnsanlar ise O'nun bildirdiklerinin dışında ilminden hiçbir şeyi tam olarak kavrayamazlar. O'nun sonsuz kudreti (kürsüsü), gökleri ve yeri kuşatmıştır. Onları koruyup gözetmek, O'na zor gelmez. O yücedir, büyüktür.”

(Bakara suresi, 255. ayet)

Bu ayetten aşağıdakilerden hangisi çıkarılamaz?

- A) Allah insanların davranışlarını bilir.
- B) İnsanlar sınırlı bir bilgiye sahiptir.
- C) İnsanlar ahirette tekrar dirileceklerdir.
- D) Allah yeri ve gökleri korumaktadır.

SINAV BAŞLAMADAN AŞAĞIDAKİ UYARILARI MUTLAKA OKUYUNUZ

1. Öğrenciler, sınav kurallarına ve salon görevlilerinin tüm uyarılarına uymak zorundadırlar.
2. Cevap kâğıdındaki kimlik bilgilerinin doğruluğunu kontrol ediniz. Bilgiler size ait değilse veya cevap kâğıdı kullanılmayacak durumdaysa sınav görevlilerine bildirin.
3. Sınav başladıktan sonra öğrencilerin salon görevlileri ve birbirleri ile konuşmaları, kalem, silgi vb. şeyleri istemeleri yasaktır.
4. Değiştirmek istediğiniz bir cevabı, yumuşak silgiyle cevap kâğıdını yıpratmadan temizce siliniz ve yeni cevabınızı kodlayınız.
5. Cevap kâğıdınızı silinmeyen bir kalemle imzalayınız.
6. Cevaplarınızı, cevap kâğıdındaki ilgili soru numarasını dikkate alarak yuvarlağın dışına taşırmadan kodlayınız.
7. Soru kitapçığının sayfalarını kontrol ediniz, baskı hatası var ise değiştirilmesini sağlayınız.
8. Soru kitapçığı üzerinde yapıp cevap kâğıdına işaretlenmeyen cevaplar değerlendirmeye alınmayacaktır.
9. Soru kitapçığının içindeki boş alanları çözümlerinizi için kullanabilirsiniz.
10. Cevaplamaya istediğiniz sorudan başlayabilirsiniz.
11. Cevabını bilmediğiniz sorular üzerinde fazla zaman kaybetmeden diğer sorulara geçiniz. Zamanınız kalırsa bu sorulara daha sonra dönebilirsiniz.
12. Sınav puanınızın hesaplanmasında sadece doğru cevaplarınız dikkate alınacaktır.
13. Sınav bitiminde, soru kitapçığı ve cevap kâğıdını salon görevlilerine teslim ediniz.
14. Sınav sırasında sözlük, hesap makinesi, saat fonksiyonu dışında özellikleri bulunan saat veya çağrı cihazı, cep telefonu, telsiz, radyo ve bilgisayar özelliği bulunan elektronik cihazları yanınızda bulundurmanız halinde sınavınız geçersiz sayılacaktır.
15. Cevap kâğıdınızı sınav süresince hiçbir öğrencinin göremeyeceği şekilde önünüzde bulundurunuz.
16. Sınavınızın değerlendirilmesi aşamasında, toplu kopya tespiti veya başka adayın sınav evrakını kullanmanız durumunda sınavınız geçersiz sayılacaktır.
17. Soruları ve sorulara verdiğiniz cevapları kaydetmeyiniz, hiçbir şekilde dışarı çıkarmayınız.
18. Sınav süresince dışarı çıkılmayacaktır.
19. Sınav evraklarını teslim etmeyenlerin sınavı geçersiz sayılacaktır.

SINAV GÖREVLİLERİNCE SINAV BAŞLAMADAN ÖNCE ÖĞRENCİLERE YAPILACAK SON UYARI

- Soracağınız bir şey var mı? Varsa, şimdi sorunuz.
- Sınav başladıktan sonra sorularınıza cevap verilmeyecektir.
- Başlama zilini bekleyiniz.
- Hepinize başarılar dileriz.

(Sınav görevlisi başlama ve bitiş saatini tahtaya yazacaktır.)

Bu kitapçığın her hakkı saklıdır. Hangi amaçla olursa olsun, kitapçığın tamamının veya bir kısmının Millî Eğitim Bakanlığı Ölçme, Değerlendirme ve Sınav Hizmetleri Genel Müdürlüğünün yazılı izni olmadan kopya edilmesi, fotoğraflarının çekilmesi, bilgisayar ortamına alınması, herhangi bir yolla çoğaltılması, yayımlanması veya başka bir amaçla kullanılması yasaktır. Bu yasağa uymayanlar, doğabilecek cezai sorumluluğu ve kitapçığın hazırlanmasındaki mali külfeti peşinen kabullenmiş sayılır.

**25 KASIM 2015 TARİHİNDE YAPILAN 8. SINIF I. DÖNEM
DİN KÜLTÜRÜ VE AHLAK BİLGİSİ DERSİ MERKEZİ ORTAK SINAVI
“A” KİTAPÇIĞI CEVAP ANAHTARI**

DİN KÜLTÜRÜ VE AHLAK BİLGİSİ

1. D
2. C
3. B
4. D
5. C
6. A
7. D
8. B
9. A
10. B
11. A
12. B
13. C
14. A
15. C
16. A
17. C
18. D
19. D
20. C



A
KİTAPÇIK TÜRÜ

T.C.
MİLLÎ EĞİTİM BAKANLIĞI
ÖLÇME, DEĞERLENDİRME VE SINAV HİZMETLERİ GENEL MÜDÜRLÜĞÜ

8. SINIF 1. DÖNEM
FEN VE TEKNOLOJİ DERSİ
MERKEZİ ORTAK SINAVI
26 KASIM 2015 Saat: 09.00

Adı ve Soyadı :
Sınıfı :
Öğrenci Numarası :

SORU SAYISI : 20
SINAV SÜRESİ : 40 Dakika

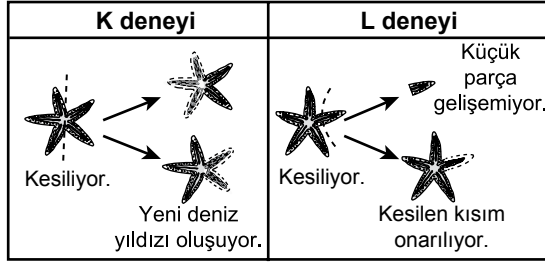
ÖĞRENCİLERİN DİKKATİNE!

1. Sınıf öğrenci yoklama listesinde belirtilen sınıfta ve sıra numarasında oturunuz.
2. Cevap kâğıdındaki kimlik bilgilerinin doğruluğunu kontrol ediniz.
3. Kitapçık türünü cevap kâğıdındaki ilgili alana kodlayınız.
4. Cevap kâğıdı üzerindeki kodlamaları kurşun kalemle yapınız.

SINAV BAŞLAMADAN ÖNCE
KİTAPÇIĞIN ARKA KAPAĞINDAKİ UYARILARI MUTLAKA OKUYUNUZ.

1. Bu testte 20 soru vardır.
2. Cevaplarınızı, cevap kağıdına işaretleyiniz.

1. Şekilde deniz yıldızlarıyla gerçekleştirilen K ve L deneyleri gösterilmiştir.



Bu deneylerin sonuçlarıyla ilgili olarak,

- I. Her iki deneyde de mitoz bölünme gerçekleşir.
- II. L deneyinde, mitoz bölünme üremeyi sağlamıştır.
- III. K deneyinde, kromozom sayısı yavru canlılarda iki katına çıkmıştır. L deneyinde ise yarıya inmiştir.

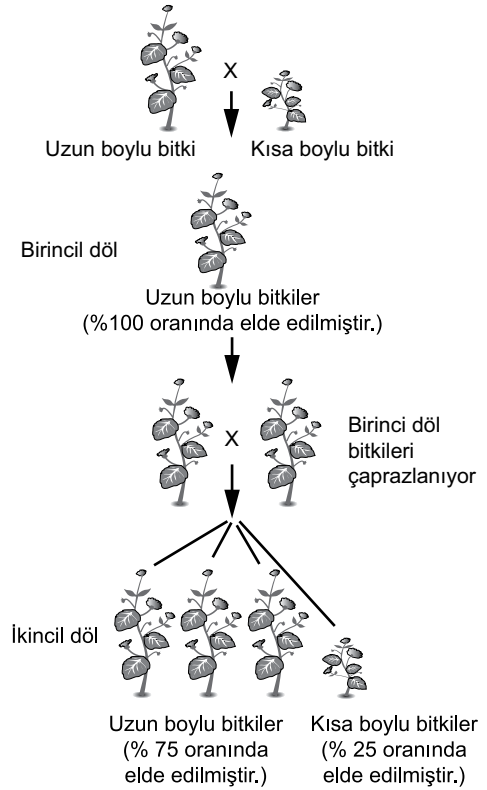
yorumlarından hangileri doğrudur?

- A) Yalnız I
B) I ve II
C) II ve III
D) I, II ve III

2. Çekinik genle aktarılan bir hastalığın yavrularda ortaya çıkması, aşağıdaki çaprazlamalardan hangisinde olabilir?

	Anne	x	Baba
A)	AA	x	AA
B)	AA	x	aa
C)	Aa	x	Aa
D)	AA	x	Aa

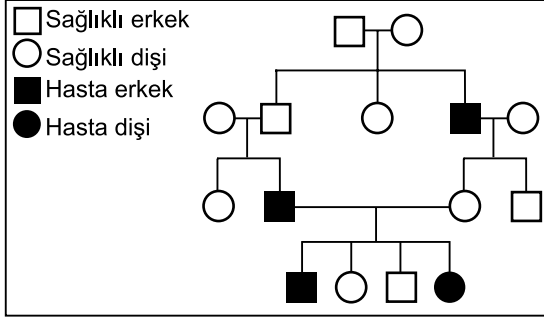
3. Bir araştırmada bezelye bitkisinin boy uzunluğunun kalıtımı ile ilgili aşağıdaki çaprazlamalar yapılmıştır.



Yapılan bu çalışmaya göre aşağıdakilerden hangisi doğrudur?

- A) Birinci dölde oluşan uzun boylu bitkiler saf döldür.
- B) Birinci dölü vermek üzere çaprazlanan her iki bitki de heterozigottur.
- C) İkinci dölde oluşan uzun boylu bitkilerin tamamı heterozigottur.
- D) İkinci döldeki kısa boylu bitkiler, bu özellik bakımından homozigottur.

4. Fen ve Teknoloji öğretmeni öğrencisinden “ - - - - ” konusu hakkında bir sunum hazırlamasını ister. Öğrenci sunumu için şemadaki soy ağacını hazırlar.



Buna göre öğrencinin hazırladığı konu aşağıdakilerden hangisidir?

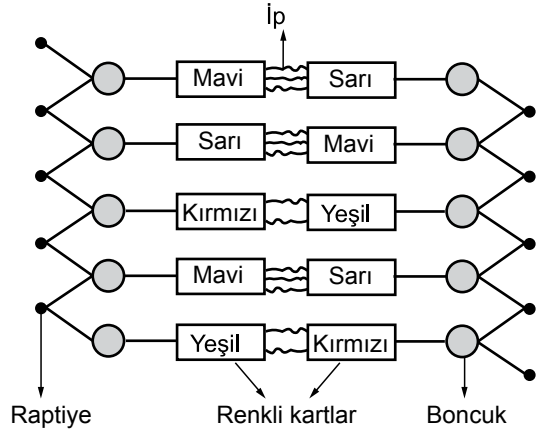
- A) Adaptasyonun evrim açısından önemi
B) Modifikasyonun oluşma süreçleri
C) Akraba evliliğinin sakıncaları
D) Biyoteknolojinin uygulamaları

5. Denizatı adı verilen balıklar, deniz yosunlarının arasında yaşar. Görüntü olarak deniz yosununa benzeyen bu balık, avı için emniyetli gibi görünen deniz yosunu çayırına girerek avlarını yakalar. Denizatının bunu yapması aynı zamanda kendisini de yem olmaktan kurtarır.

Anlatılan durum ile aşağıdakilerden hangisi benzerlik gösterir?

- A) Bir kelebek tırtılının bulunduğu ağaç dalı parçasına benzerlik göstermesi
B) Çuha çiçeğinin renginin yetiştirildiği ortam sıcaklığına göre değişmesi
C) Arıların beslenme şekillerine göre kraliçe veya işçi arı olması
D) Van kedisinin gözlerinin birbirinden farklı renkte olması

6. Zeynep, sınıfta şekildeki gibi bir DNA modeli yapmıştır.



Bu DNA modeline göre aşağıdaki öğrencilerden hangisinin yorumu yanlıştır?

- A) Halil: Raptiyeler fosfattır.
B) Erol: Renkli kartlar nükleotittir.
C) Derya: Boncuklar deoksiriboz şekeridir.
D) Fatma: Kırmızı kart adenin ise yeşil kart timindir.

7.

26 Aralık 2004'te tsunami Sri Lanka'yı olumsuz etkiledi. 4 aylık bir bebek bu felaketten saatler sonra, kilometrelerce uzakta canlı olarak bulundu.

Bebeğin hastanede tedavisi devam ederken, 8 farklı çift, bebeğin kendi çocukları olduğunu iddia etti.

Bu süreçte, mahkeme bebeğin gerçek anne ve babasının bulunması için DNA testi yapılmasına karar verdi.

Bir dergide yer alan bu olayda DNA testi uygulamasına aşağıdakilerden hangisi temel oluşturur?

- A) Anne ve babanın nükleotit çeşitlerinin, çocuğunkiyle aynı olması
- B) Çocukların kalıtsal özelliklerinin çevresel etkilerle büyük ölçüde değişmesi
- C) Canlıların kalıtsal bilgilerinde anne ve babasınınkiyle daha fazla ortaklık görülmesi
- D) Çocuğun hangi aileye ait olduğunu anne ve babasının fenotipinin belirliyor olması

8. Ahmet, bir dergide aşağıdaki haberi okumuştur.

Bilim insanları üreme hücrelerindeki zararlı genlerin gelecek nesillere aktarılmasını önleme yönünde önemli başarılarla ulaştılar.

Ahmet'in bu haberle ilgili aşağıdaki çıkarımlarından hangisi doğrudur?

- A) Toplumun tüm bireylerinde kromozom sayısının azalacağı
- B) İnsanların çevresel değişikliklerden etkilenmeyeceği
- C) İnsanların daha fazla mutasyona uğrayacağı
- D) Toplumda kalıtsal hastalıkların azalacağı

9.

Araştırmacılar örümcek genlerini keçilere aktararak keçi sütünde, ipek liflerinin üretimini sağlamışlardır. Üretilen bu ipek çok esnek, dayanıklı ve hafif olduğu için askeri giysilerde, tıbbi aletlerde ve tenis raketlerinin yapımında kullanılmaktadır.

Bu çalışma ve sonuçlarına göre aşağıdaki çıkarımlardan hangisine ulaşamaz?

- A) Yalnızca bu geni taşıyan keçilerin sütlerinde ipek lifleri bulunabilir.
- B) Gen aktarılan keçilerin beslenme şekli değişikliği gösterir.
- C) Bu çalışma, biyoteknoloji alanı kapsamındadır.
- D) Bir gen, farklı canlılarda aynı işlevi görebilir.

10.

Darwin'e göre yaşamsal faaliyetler için gerekli olan besin, su, barınak, ışık gibi faktörler canlılar arasında yaşam mücadelesine neden olur. Ortama uyum sağlayanlar, doğal seçim sürecinde nesillerini sürdürmeye devam ederler.

Aşağıdaki örneklerden hangisi Darwin'in ileri sürdüğü bu görüşle açıklanamaz?

- A) Nemli bir çevre gittikçe kuraklaştığında, bu çevrede su ihtiyacı fazla olan bitki sayısının azalması
- B) Yeşil yapraklı ağaçların çok olduğu alanlarda, yeşil renkli çekirgelerin daha fazla bulunması
- C) Hızlı koşan tavşan ve geyiklerin avcı hayvanlardan kurtulma şansının yavaş koşanlardan fazla olması
- D) Futbol oynayan bir çocuğun topa sürekli sol ayağıyla vurması sonucu, sol ayağındaki kasların daha fazla gelişmesi

11. Hipotez: Aynı yaşam ortamında bulunan farklı türler benzer adaptasyonlar geliştirebilir.

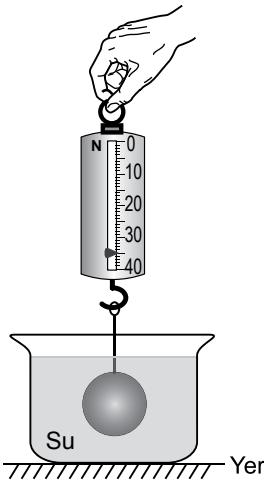
Buna göre aşağıda verilen,

- I. Çölde yaşayan çöl tilkisinin uzun kulaklı, kutuplarda yaşayan kutup tilkisinin kısa kulaklı olması
- II. Çöllerde yaşayan kaktüslerin ve sütleşen bitkisinin gövdelerinde su depolaması
- III. Kutuplarda yaşayan ayı ile çölde yaşayan devenin ayaklarının geniş tabanlı olması

örneklerinden hangileri bu hipotezi doğrular?

- A) Yalnız I B) Yalnız II
C) I ve II D) I ve III

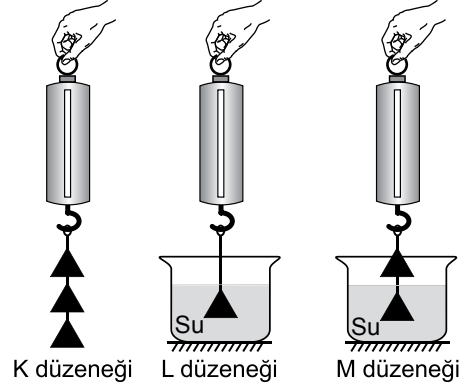
12. Bir cam bilye, su içinde şekildeki gibi tartılıyor.



Buna göre bilyenin havadaki ağırlığı aşağıdakilerden hangisi olabilir?

- A) 40 N B) 35 N C) 30 N D) 29 N

13. Ayşe, üçgen prizma şeklindeki bir cismi havada 2 N olarak tartıyor. Daha sonra bu cisimle özdeş olan cisimler kullanarak K, L, M düzeneklerini hazırlayıp ölçüm alıyor.



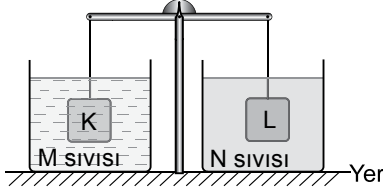
Ölçtüğü değerleri tabloya aşağıdaki gibi kaydediyor.

Düzenek	K	L	M
Değer	6 N	1,8 N	2 N

Hangi düzeneklerdeki değerler tabloya doğru yazılmış olabilir?

- A) Yalnız K B) K ve L
C) K ve M D) K, L ve M

14. Ağırlıkları eşit K ve L cisimleri, farklı M ve N sıvılarına daldırıldıklarında şekildeki gibi dengede kalıyorlar.



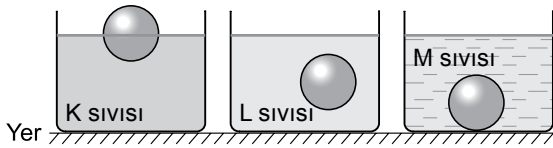
K ve L cisimlerinin hacimleri ve yoğunlukları bilinmediğine göre;

- I. Cisimlere etki eden kaldırma kuvvetleri eşittir.
- II. M sıvısı, N sıvısından daha yoğundur.
- III. K ve L cisimlerinin yoğunlukları eşittir.

yargılarından hangileri kesinlikle doğrudur?

- A) Yalnız I B) I ve II
C) II ve III D) I, II ve III

15. Bir öğrenci, üç özdeş cismi farklı yoğunluklardaki sıvıların ortasına bırakıyor ve cisimlerin sıvılardaki denge konumlarını şekildeki gibi gözlemliyor.



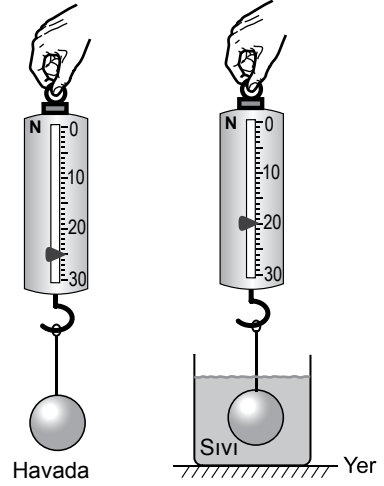
Buna göre;

- I. K sıvısının yoğunluğu en büyüktür.
- II. L sıvısının yoğunluğu ile cismin yoğunluğu eşittir.
- III. M sıvısının yoğunluğu en küçüktür.

yargılarından hangileri doğrudur?

- A) I ve II B) I ve III
C) II ve III D) I, II ve III

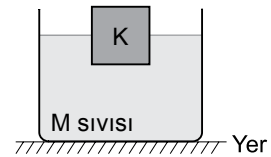
16. Mehmet, bir bilyeyi önce havada sonra sıvı içinde dinamometre ile şekilde gösterildiği gibi tartıyor.



Mehmet, yalnızca bu ölçümleri kullanarak aşağıdaki sorulardan hangisine cevap verir?

- A) Cismin geometrik şekli kaldırma kuvvetini etkiler mi?
- B) Yüzme ve batma olayı sıvının yoğunluğuna bağlı mıdır?
- C) Kaldırma kuvveti cismin ağırlığının etkisini azaltır mı?
- D) Cisimlerin yoğunluklarının değişmesi, sıvının uyguladığı kaldırma kuvvetini etkiler mi?

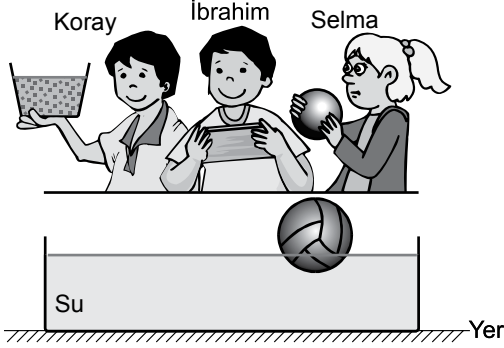
17. Kütleli 18 g ve hacmi 6 cm^3 olan K cismi, M sıvısı içinde şekildeki gibi dengededir.



Buna göre, M sıvısının yoğunluğu kaç g/cm^3 olabilir?

- A) 4 B) 3 C) 2 D) 1

18. Şekildeki gibi su dolu bir leğen çevresinde bulunan İbrahim, Selma ve Koray arasında aşağıdaki konuşmalar geçmektedir.



- İbrahim: Elimdeki tahta parçasını suya bırakırsam topa etki eden kaldırma kuvveti değişmez.
 Selma: Elimdeki demir topu suya bırakırsam leğendeki su seviyesi değişmez.
 Koray: Elimdeki bir kova tuzu suya karıştırırsam topun batan hacmi azalır.

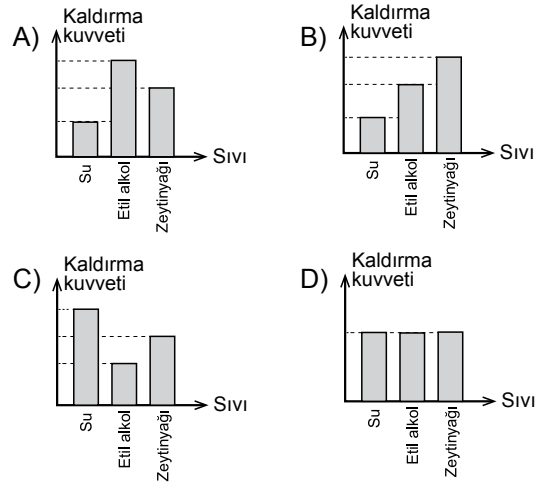
Buna göre hangi öğrencilerin yargıları doğrudur?

- A) Selma ve Koray
 B) İbrahim ve Koray
 C) İbrahim ve Selma
 D) İbrahim, Selma ve Koray

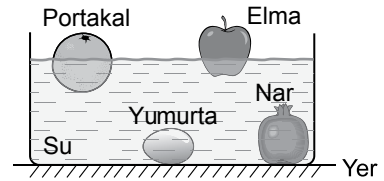
19. Tabloda bazı sıvıların yoğunluk değerleri verilmiştir.

Sıvı	Yoğunluk (g/cm ³)
Su	1
Etil alkol	0,8
Zeytinyağı	0,9

Yoğunluğu 2 g/cm³ olan bir cisim bu sıvıların ayrı ayrı bulunduğu kaplara bırakıldığında, cisme etki eden kaldırma kuvvetini gösteren grafik aşağıdakilerden hangisi olabilir?



20. Elma, portakal, nar ve yumurta suya bırakıldığında şekildeki gibi dengede duruyor.



Bu yiyeceklere etki eden kaldırma kuvvetleri eşit olduğuna göre, yiyeceklerin hangilerinin ağırlıkları kesinlikle eşittir?

- A) Nar ve elma
 B) Nar ve yumurta
 C) Yumurta ve portakal
 D) Elma ve portakal

**TEST BİTTİ.
 CEVAPLARINIZI KONTROL EDİNİZ.**

SINAV BAŞLAMADAN AŞAĞIDAKİ UYARILARI MUTLAKA OKUYUNUZ

1. Öğrenciler, sınav kurallarına ve salon görevlilerinin tüm uyarılarına uymak zorundadırlar.
2. Cevap kâğıdındaki kimlik bilgilerinin doğruluğunu kontrol ediniz. Bilgiler size ait değilse veya cevap kâğıdı kullanılmayacak durumdaysa sınav görevlilerine bildirin.
3. Sınav başladıktan sonra öğrencilerin salon görevlileri ve birbirleri ile konuşmaları, kalem, silgi vb. şeyleri istemeleri yasaktır.
4. Değiştirmek istediğiniz bir cevabı, yumuşak silgiyle cevap kâğıdını yıpratmadan temizce siliniz ve yeni cevabınızı kodlayınız.
5. Cevap kâğıdınızı silinmeyen bir kalemle imzalayınız.
6. Cevaplarınızı, cevap kâğıdındaki ilgili soru numarasını dikkate alarak yuvarlağın dışına taşırmadan kodlayınız.
7. Soru kitapçığının sayfalarını kontrol ediniz, baskı hatası var ise değiştirilmesini sağlayınız.
8. Soru kitapçığı üzerinde yapıлып cevap kâğıdına işaretlenmeyen cevaplar değerlendirmeye alınmayacaktır.
9. Soru kitapçığının içindeki boş alanları çözümlerinizi için kullanabilirsiniz.
10. Cevaplamaya istediğiniz sorudan başlayabilirsiniz.
11. Cevabını bilmediğiniz sorular üzerinde fazla zaman kaybetmeden diğer sorulara geçiniz. Zamanınız kalırsa bu sorulara daha sonra dönebilirsiniz.
12. Sınav puanınızın hesaplanmasında sadece doğru cevaplarınız dikkate alınacaktır.
13. Sınav bitiminde, soru kitapçığı ve cevap kâğıdını salon görevlilerine teslim ediniz.
14. Sınav sırasında sözlük, hesap makinesi, saat fonksiyonu dışında özellikleri bulunan saat veya çağrı cihazı, cep telefonu, telsiz, radyo ve bilgisayar özelliği bulunan elektronik cihazları yanınızda bulundurmanız halinde sınavınız geçersiz sayılacaktır.
15. Cevap kâğıdınızı sınav süresince hiçbir öğrencinin göremeyeceği şekilde önünüzde bulundurunuz.
16. Sınavınızın değerlendirilmesi aşamasında, toplu kopya tespiti veya başka adayın sınav evrakını kullanmanız durumunda sınavınız geçersiz sayılacaktır.
17. Soruları ve sorulara verdiğiniz cevapları kaydetmeyiniz, hiçbir şekilde dışarı çıkarmayınız.
18. Sınav süresince dışarı çıkılmayacaktır.
19. Sınav evraklarını teslim etmeyenlerin sınavı geçersiz sayılacaktır.

SINAV GÖREVLİLERİNCE SINAV BAŞLAMADAN ÖNCE ÖĞRENCİLERE YAPILACAK SON UYARI

- Soracağınız bir şey var mı? Varsa, şimdi sorunuz.
- Sınav başladıktan sonra sorularınıza cevap verilmeyecektir.
- Başlama zilini bekleyiniz.

Hepinize başarılar dileriz.

(Sınav görevlisi başlama ve bitiş saatini tahtaya yazacaktır.)

Bu kitapçığın her hakkı saklıdır. Hangi amaçla olursa olsun, kitapçığın tamamının veya bir kısmının Millî Eğitim Bakanlığı Ölçme, Değerlendirme ve Sınav Hizmetleri Genel Müdürlüğünün yazılı izni olmadan kopya edilmesi, fotoğraflarının çekilmesi, bilgisayar ortamına alınması, herhangi bir yolla çoğaltılması, yayımlanması veya başka bir amaçla kullanılması yasaktır. Bu yasağa uymayanlar, doğabilecek cezai sorumluluğu ve kitapçığın hazırlanmasındaki mali külfeti peşinen kabullenmiş sayılır.

**26 KASIM 2015 TARİHİNDE YAPILAN 8. SINIF 1. DÖNEM
FEN VE TEKNOLOJİ DERSİ MERKEZİ ORTAK SINAVI
“A” KİTAPÇIĞI CEVAP ANAHTARI**

FEN VE TEKNOLOJİ

1. A
2. C
3. D
4. C
5. A
6. B
7. C
8. D
9. B
10. D
11. B
12. A
13. İPTAL (Her öğrenci için doğru kabul edilecektir)
14. A
15. D
16. C
17. A
18. B
19. C
20. D



A
KİTAPÇIK TÜRÜ

T.C.
MİLLÎ EĞİTİM BAKANLIĞI
ÖLÇME, DEĞERLENDİRME VE SINAV HİZMETLERİ GENEL MÜDÜRLÜĞÜ

8. SINIF 1. DÖNEM
T.C. İNKILAP TARİHİ VE ATATÜRKÇÜLÜK DERSİ
MERKEZİ ORTAK SINAVI
26 KASIM 2015 Saat: 10.10

Adı ve Soyadı :
Sınıfı :
Öğrenci Numarası :

SORU SAYISI : 20
SINAV SÜRESİ : 40 Dakika

ÖĞRENCİLERİN DİKKATİNE!

1. Sınıf öğrenci yoklama listesinde belirtilen sınıfta ve sıra numarasında oturunuz.
2. Cevap kâğıdındaki kimlik bilgilerinin doğruluğunu kontrol ediniz.
3. Kitapçık türünü cevap kâğıdındaki ilgili alana kodlayınız.
4. Cevap kâğıdı üzerindeki kodlamaları kurşun kalemle yapınız.

SINAV BAŞLAMADAN ÖNCE
KİTAPÇIĞIN ARKA KAPAĞINDAKİ UYARILARI MUTLAKA OKUYUNUZ.

T.C. İNKILAP TARİHİ VE ATATÜRKÇÜLÜK

1. Bu testte 20 soru vardır.
2. Cevaplarınızı, cevap kağıdına işaretleyiniz.

1. Sosyal bilgiler öğretmeni, İnkılap Tarihi dersinde Atatürk'ün doğup büyüdüğü Selanik ve Manastır şehirlerini anlatırken bir öğrencinin sorusuna, "Rum, Bulgar, Sırp, Yahudi ve Ermeni gibi milletler bir arada yaşamıştır." cevabını vermiştir.

Buna göre öğrenci, öğretmenine aşağıdaki sorulardan hangisini sormuştur?

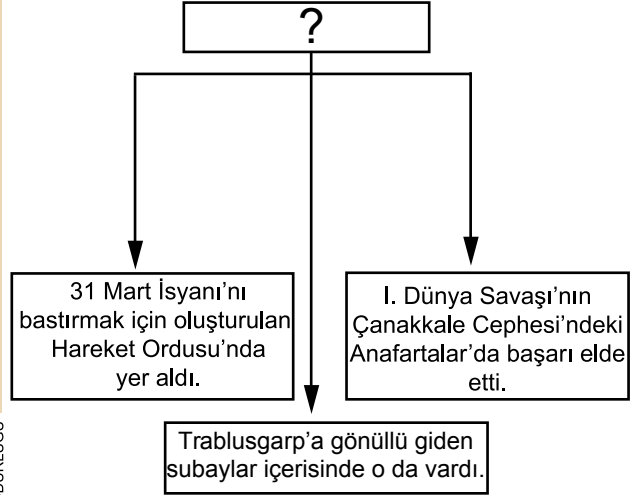
- A) Atatürk'ün okul hayatında başarılı olmasında neler etkilidir?
- B) Atatürk'ün yaşadığı şehirlerdeki kültürel farklılığın sebebi nedir?
- C) Atatürk'ün Millî Mücadele lideri olmasının nedeni nedir?
- D) Atatürk'ün tüm dünya tarafından tanınmasında neler etkili olmuştur?

2. Mustafa Kemal'in öğrenim gördüğü dönemde ülkede; bir tarafta geleneksel öğretime devam eden medreseler, diğer tarafta modern mekteplerle birlikte, askerî okullar ve çeşitli meslek okulları eğitim öğretim faaliyetlerinde bulunuyordu. Bunun yanında ülkede yaşayan gayrimüslimlerin açtıkları azınlık okulları da vardı. Bu okulların her biri kendi amaçları doğrultusunda eğitim yapıyordu. Bu karışık durum ülkede, düşünce ve bilgi birikimi yönünden farklı kuşaklar yetişmesine neden oluyordu.

Bu parçadan, Mustafa Kemal'in öğrenim gördüğü dönemdeki eğitim öğretim sistemi ile ilgili aşağıdaki sonuçlardan hangisi çıkarılamaz?

- A) Farklı fikir ve anlayışa sahip insanlar yetişecek yapıdadır.
- B) Değişik inançlara öğrenim imkânı tanınmıştır.
- C) Eğitim alanında Avrupa'dan etkilenilmiştir.
- D) Ülkede eğitim birliği sağlanmıştır.

3.



Bu şemada başlık olarak aşağıdakilerden hangisi kullanılmalıdır?

- A) Devlet Adamı Atatürk
- B) Asker Mustafa Kemal
- C) Öğrenci Mustafa Kemal
- D) Atatürk I. Dünya Savaşı'nda

4. Mustafa Kemal, 1905'te Şam'a atandı. Ülkenin içinde bulunduğu sorunlara çözüm üretmek için "Vatan ve Hürriyet" adında bir cemiyet kurdu.

Bu durum Mustafa Kemal'in aşağıdaki özelliklerinden hangisini yansıtmaz?

- A) İleri görüşlülüğünü
- B) Vatanseverliğini
- C) Teşkilatçılığını
- D) Liderliğini

5. • Liman ve demir yolu ile ülkenin ve dünyanın farklı yerleriyle irtibat hâlindeydi.
• Ticari önemi nedeniyle çok sayıda yabancı tüccar tarafından ziyaret ediliyordu.
• Avrupa'da basılan gazete, dergi ve kitapların kolayca temin edilebildiği bir yerdi.

Selanik'e ait bu özelliklerden yola çıkarak şehirle ilgili aşağıdakilerden hangisi söylenebilir?

- A) Eğitim öğretim imkânları gelişmiştir.
B) Din ve vicdan hürriyeti vardır.
C) Kültürel etkileşime açıktır.
D) Milliyetçilik akımı etkilidir.

6. Mustafa Kemal, Manastır'da yaşadığı dönemde vatan ve hürriyet şairi Namık Kemal'den ve eserlerinde Türkçülüğü ön plana çıkaran Mehmet Emin Yurdakul'dan etkilenmiştir. Tarih öğretmeni Kolağası Mehmet Tevfik Bey'in dersleriyle de tarih bilinci gelişmiştir. Bu dönemde ayrıca Avrupalı düşünürlerin kitaplarını okumaya başlamış, onların hürriyet, özgürlük ve cumhuriyet ile ilgili düşüncelerinden faydalanmıştır.

Verilen bilgilerden hareketle Manastır şehri, Mustafa Kemal'i daha çok hangi açıdan etkilemiştir?

- A) Eğitim - öğretim hayatı
B) Fikir hayatı
C) Aile hayatı
D) Sosyal hayatı

7. Millî Mücadele yıllarında Mustafa Kemal halkı organize etmiş ve mücadelenin kazanılmasını sağlamıştır.

Mustafa Kemal'in bu başarısında, aşağıdakilerden hangisinde elde ettiği beceri etkili olmuştur?

- A) Çanakkale'de düşmanın çıkarma yapacağı yeri tahmin etmesi
B) Trablusgarp'ta İtalyanlara karşı yerli halkı örgütlemesi
C) Sofya'da Türklerin sorunları ile yakından ilgilenmesi
D) Selanik'te İttihat ve Terakki Partisine katılması

8. Mustafa Kemal, Selanik'te askerlik görevini sürdürürken bir yandan da İttihat ve Terakki Cemiyeti içinde çalışarak İstanbul'daki gelişmeleri yakından takip ediyordu.

Mustafa Kemal'in Selanik'teki bu faaliyetleri, Millî Mücadele'deki liderliğine hangi açıdan katkı sağlamıştır?

- A) Siyasi
B) Kültürel
C) Ekonomik
D) Sosyal

9. İtilaf Devletleri, I. Dünya Savaşı'nda savaş boyunca tarafsız kalması için Osmanlı Devleti'ne bazı önerilerde bulunmuşlardır. Osmanlı Devleti de bu isteğe karşılık kapitülasyonların kaldırılmasını, Ege adalarının kendisine verilmesini ve Mısır sorununun çözümlenmesini istemiştir.

Osmanlı Devleti bu tutumuyla;

- I. Ekonomik problemlerden kurtulmak
- II. Kaybettiği toprakları geri almak
- III. Doğu Akdeniz'de etkinliğini arttırmak

hedeflerinden hangilerini gerçekleştirmek istemiştir?

- A) Yalnız I
- B) I ve II
- C) II ve III
- D) I, II ve III

10. Osmanlı Devleti çıkardığı Tehcir Kanunu'yla ülkedeki Ermenilerin bir kısmını Suriye Bölgesi'ne göç ettiren;

- göç ettirilenlerin vergilerini ertelemiş,
- yol boyunca göç edenleri korumak için memurlar görevlendirmiş,
- yanlarına diledikleri eşyaları almalarına izin vermiş,
- ayrıca savaştan sonra göç ettirilenlerin geri dönüşleri için kararname yayımlamıştır.

Bu bilgilere göre Osmanlı Devleti'nin uyguladığı tehcir politikası ile ilgili olarak aşağıdakilerden hangisi söylenemez?

- A) Göç ettirilenlerin can güvenliğine önem verilmiştir.
- B) Göç edenlerin maddi hakları korunmaya çalışılmıştır.
- C) Tehcirle Anadolu'daki Ermeni varlığı bitirmek istenmiştir.
- D) Tehcir uygulaması yasal bir çerçevede gerçekleştirilmiştir.

11. Mütarekeden sonra İstanbul'a gelen Mustafa Kemal, boğaza demirlenmiş düşman gemilerini görünce "Geldikleri gibi giderler!" demiştir.

Buna göre Mustafa Kemal'in, Mondros Ateşkes Antlaşması'nın uygulanması karşısındaki tutumu için aşağıdakilerden hangisi söylenemez?

- A) İnançlı hareket etmiştir.
- B) Kararlı duruş sergilemiştir.
- C) Ümitsizliğe kapılmamıştır.
- D) Uzlaşmacı politika izlemiştir.

ÖLÇME, DEĞERLENDİRME VE SINAV HİZMETLERİ GENEL MÜDÜRLÜĞÜ

- 12.

MİLLÎ CEMİYETLER	
Adı	Kuruluş Amacı
Trakya - Paşaeli Cemiyeti	Trakya'nın Yunanistan'a verilmesini önlemek
Kilikyalılar Cemiyeti	Çukurova Bölgesi'ni Fransız ve Ermenilere karşı savunmak
Reddi İlhak Cemiyeti	İzmir'in Yunanlılara verilmesini önlemek

Bu tabloya göre aşağıdakilerden hangisi millî cemiyetlerin ortak özelliği olarak söylenemez?

- A) İşgallere karşı ortak hareket etmişlerdir.
- B) Bölgesel amaçlı faaliyet göstermişlerdir.
- C) Vatanseverlik duygusuyla hareket etmişlerdir.
- D) İşgal güçleri ile mücadele etmişlerdir.

13. Mondros Ateşkes Antlaşması'ndan sonra ülke yer yer işgal edilmişti. Azınlıklar işgalci güçlerle iş birliği yaparak vatanımızın bölünmesi için çalışıyordu. Osmanlı idaresi ise olaylara karşı halkı sükûnete çağırırmaktaydı. Kurtuluşu kendisinde gören halk, Kuvayımilliyeye birliklerini kurarak düşmanla mücadeleyi başlattı.

Buna göre Kuvayımilliyeye ruhunun oluşmasında;

- I. İstanbul yönetiminin pasif tutumu
- II. İtilaf Devletleri'nin Anadolu'yu işgali
- III. Azınlıkların faaliyetleri
- IV. Büyük Millet Meclisine karşı isyanların çıkması

durumlarından hangileri etkili olmuştur?

- | | |
|-----------------|---------------------|
| A) Yalnız I | B) I, II ve III |
| C) I, III ve IV | D) I, II, III ve IV |

14. Mustafa Kemal, Millî Mücadele Dönemi'nde Türk milletinin bağımsızlığına karşı yapılan saldırının yine Türk milletinin topyekûn mücadelesiyle önlenebileceğine inanıyordu. Bu amaçla işgaller karşısında millî heyecanın tüm yurda yayılması için çalışmalar yaptı. Genelgeler yayımladı. Düzenlenecek mitinglerle İzmir'in işgalinin kınanmasını istedi.

Buna göre Mustafa Kemal'in yaptığı çalışmaların amacı, aşağıdakilerden hangisidir?

- A) Saltanatı kaldırmak
- B) Cumhuriyeti ilan etmek
- C) Kapitülasyonları kaldırmak
- D) Millî birlik ve beraberliği sağlamak

15. • Mondros Ateşkes Antlaşması imzalandığında Türk askerlerinin koruduğu Türk vatanının tümü ayrılık kabul etmez bir bütündür.
• Millî ve ekonomik gelişmemizi engelleyen siyasi, adli ve mali kapitülasyonlar kaldırılmıdır.

Misakımillî'nin bu kararları ile

- I. Vatanın bütünlüğü
- II. Tam bağımsızlık
- III. Ulusal egemenlik

kavramlarından hangileri arasında ilişki kurulabilir?

- | | |
|-------------|--------------|
| A) Yalnız I | B) I ve II |
| C) I ve III | D) II ve III |

16. **Hıyanetivatanıye Kanunu'nun**

“Olağanüstü ve aceleyi gerektiren durumlarda zanlının yakalandığı yerdeki ceza mahkemesi de yargılama yapmaya ve karar vermeye yetkilidir.”

maddesinin gerekçesi, aşağıdakilerden hangisidir?

- A) Yargının işleyişini hızlandırmak
- B) Yargıda eşitliği gerçekleştirmek
- C) Yargı bağımsızlığını sağlamak
- D) Yargıda tarafsızlığı korumak

17. Sevr Antlaşması hiçbir zaman Türk milletini karamsarlığa düşürmedi. Tam aksine mücadele gücünü ve kararlılığını artırdı. Mustafa Kemal ve arkadaşlarının başlattığı Millî Mücadele'yi sonuna kadar destekledi.

Bu bilgiye göre Türk milletinin Sevr Antlaşması'na karşı tutumu ile ilgili aşağıdaki değerlendirmelerden hangisi yapılabilir?

- A) Tarafsız kalmıştır.
B) Çekimser davranmıştır.
C) Ümitsizliğe düşmemiştir.
D) Antlaşma şartlarına uymuştur.

18. Sivas Kongresi öncesi işgal kuvvetleri ve Osmanlı Hükûmeti, Mustafa Kemal hakkında tutuklama kararı çıkartarak kongrenin toplanmasını engellemeye çalışmışlardır. Bu olumsuzluklara rağmen Mustafa Kemal, aldığı tedbirlerle kongrenin gerçekleşmesini sağlamıştır.

Buna göre Mustafa Kemal hakkında aşağıdakilerden hangisi söylenebilir?

- A) Yenilikçi bir kişiliğe sahiptir.
B) Gurura yer vermeyen bir askerdir.
C) Hukukun üstünlüğünü benimseyen bir devlet adamıdır.
D) Karşılaştığı sorunları kararlılıkla aşmasını bilen bir liderdir.

19. Çukurova ve bölgeyi işgale başlayan Fransız komutan yayımladığı bildiriye; silah atılan evin yakılacağı, öldürülecek bir Fransız askerine karşılık kura ile seçilecek halktan iki kişinin kurşuna dizileceği gibi insanlık dışı önlemlere yer vermiştir.

Fransız komutan bu bildiri ile

- I. Yöre halkının direnmesini engellemek
II. Bölge halkının can güvenliğini sağlamak
III. Bölgede işgali kolaylaştırmak
IV. Bölgede barış ve huzuru gerçekleştirmek

amaçlarından hangilerini hedeflemiş olabilir?

- A) Yalnız I
B) I ve II
C) I ve III
D) III ve IV

20. Doğu Cephesi'nde kazanılan askerî zafer sonucunda Ermenilerle Gümrü Antlaşması yapıldı. Böylece Türk halkının meclise duyduğu güven arttı. Ermenistan TBMM'nin varlığını tanıdı ve Sevr Antlaşması'nın geçersiz olduğunu kabul etti.

Bu bilgilere göre Doğu Cephesi'nde kazanılan başarının sonuçları ile ilgili aşağıdakilerden hangisi söylenemez?

- A) TBMM'nin saygınlığını artırmıştır.
B) TBMM için siyasi başarı getirmiştir.
C) Cepheler arasında güç birliğini sağlamıştır.
D) Ermenilerin Anadolu toprakları üzerindeki iddialarını boşa çıkarmıştır.

SINAV BAŞLAMADAN AŞAĞIDAKİ UYARILARI MUTLAKA OKUYUNUZ

1. Öğrenciler, sınav kurallarına ve salon görevlilerinin tüm uyarılarına uymak zorundadırlar.
2. Cevap kâğıdındaki kimlik bilgilerinin doğruluğunu kontrol ediniz. Bilgiler size ait değilse veya cevap kâğıdı kullanılmayacak durumdaysa sınav görevlilerine bildirin.
3. Sınav başladıktan sonra öğrencilerin salon görevlileri ve birbirleri ile konuşmaları, kalem, silgi vb. şeyleri istemeleri yasaktır.
4. Değiştirmek istediğiniz bir cevabı, yumuşak silgiyle cevap kâğıdını yıpratmadan temizce siliniz ve yeni cevabınızı kodlayınız.
5. Cevap kâğıdınızı silinmeyen bir kalemle imzalayınız.
6. Cevaplarınızı, cevap kâğıdındaki ilgili soru numarasını dikkate alarak yuvarlağın dışına taşırmadan kodlayınız.
7. Soru kitapçığının sayfalarını kontrol ediniz, baskı hatası var ise değiştirilmesini sağlayınız.
8. Soru kitapçığı üzerinde yapılıp cevap kâğıdına işaretlenmeyen cevaplar değerlendirmeye alınmayacaktır.
9. Soru kitapçığının içindeki boş alanları çözümlerinizi için kullanabilirsiniz.
10. Cevaplamaya istediğiniz sorudan başlayabilirsiniz.
11. Cevabını bilmediğiniz sorular üzerinde fazla zaman kaybetmeden diğer sorulara geçiniz. Zamanınız kalırsa bu sorulara daha sonra dönebilirsiniz.
12. Sınav puanınızın hesaplanmasında sadece doğru cevaplarınız dikkate alınacaktır.
13. Sınav bitiminde, soru kitapçığı ve cevap kâğıdını salon görevlilerine teslim ediniz.
14. Sınav sırasında sözlük, hesap makinesi, saat fonksiyonu dışında özellikleri bulunan saat veya çağrı cihazı, cep telefonu, telsiz, radyo ve bilgisayar özelliği bulunan elektronik cihazları yanınızda bulundurmanız halinde sınavınız geçersiz sayılacaktır.
15. Cevap kâğıdınızı sınav süresince hiçbir öğrencinin göremeyeceği şekilde önünüzde bulundurunuz.
16. Sınavınızın değerlendirilmesi aşamasında, toplu kopya tespiti veya başka adayın sınav evrakını kullanmanız durumunda sınavınız geçersiz sayılacaktır.
17. Soruları ve sorulara verdiğiniz cevapları kaydetmeyiniz, hiçbir şekilde dışarı çıkarmayınız.
18. Sınav süresince dışarı çıkılmayacaktır.
19. Sınav evraklarını teslim etmeyenlerin sınavı geçersiz sayılacaktır.

SINAV GÖREVLİLERİNCE SINAV BAŞLAMADAN ÖNCE ÖĞRENCİLERE YAPILACAK SON UYARI

- Soracağınız bir şey var mı? Varsa, şimdi sorunuz.
- Sınav başladıktan sonra sorularınıza cevap verilmeyecektir.
- Başlama zilini bekleyiniz.

Hepinize başarılar dileriz.

(Sınav görevlisi başlama ve bitiş saatini tahtaya yazacaktır.)

Bu kitapçığın her hakkı saklıdır. Hangi amaçla olursa olsun, kitapçığın tamamının veya bir kısmının Millî Eğitim Bakanlığı Ölçme, Değerlendirme ve Sınav Hizmetleri Genel Müdürlüğünün yazılı izni olmadan kopya edilmesi, fotoğraflarının çekilmesi, bilgisayar ortamına alınması, herhangi bir yolla çoğaltılması, yayımlanması veya başka bir amaçla kullanılması yasaktır. Bu yasağa uymayanlar, doğabilecek cezai sorumluluğu ve kitapçığın hazırlanmasındaki mali külfeti peşinen kabullenmiş sayılır.

**26 KASIM 2015 TARİHİNDE YAPILAN 8. SINIF 1. DÖNEM
T.C İNKILAP TARİHİ VE ATATÜRKÇÜLÜK DERSİ MERKEZİ ORTAK SINAVI
“A” KİTAPÇIĞI CEVAP ANAHTARI**

T.C İNKILAP TARİHİ VE ATATÜRKÇÜLÜK

1. B
2. D
3. B
4. A
5. C
6. B
7. B
8. A
9. D
10. C
11. D
12. A
13. B
14. D
15. B
16. A
17. C
18. D
19. C
20. C



A
KİTAPÇIK TÜRÜ

T.C.
MİLLÎ EĞİTİM BAKANLIĞI
ÖLÇME, DEĞERLENDİRME VE SINAV HİZMETLERİ GENEL MÜDÜRLÜĞÜ

8. SINIF 1. DÖNEM
İNGİLİZCE DERSİ
MERKEZİ ORTAK SINAVI
26 KASIM 2015 Saat: 11.20

Adı ve Soyadı :
Sınıfı :
Öğrenci Numarası :

SORU SAYISI : 20
SINAV SÜRESİ : 40 Dakika

ÖĞRENCİLERİN DİKKATİNE!

1. Sınıf öğrenci yoklama listesinde belirtilen sınıfta ve sıra numarasında oturunuz.
2. Cevap kâğıdındaki kimlik bilgilerinin doğruluğunu kontrol ediniz.
3. Kitapçık türünü cevap kâğıdındaki ilgili alana kodlayınız.
4. Cevap kâğıdı üzerindeki kodlamaları kurşun kalemle yapınız.

SINAV BAŞLAMADAN ÖNCE
KİTAPÇIĞIN ARKA KAPAĞINDAKİ UYARILARI MUTLAKA OKUYUNUZ.

İNGİLİZCE

1. Bu testte 20 soru vardır.
2. Cevaplarınızı, cevap kağıdına işaretleyiniz.

1 - 9. sorularda boş bırakılan yere uygun gelen kelime ya da ifadeyi işaretleyiniz.

1. Rose : - - - - ?

Paula : No, thanks. I'm not hungry.

- A) What about listening to music
- B) Would you like some cookies
- C) Why don't you have a rest
- D) Shall we meet after school

2. Mark: - - - - ?

Jerry: I usually listen to music, go to the cinema, meet my friends and visit my grandparents.

- A) When do you visit your parents
- B) Where do you go on your holidays
- C) How do you spend your weekends
- D) How often do you meet your friends

3. Diana: - - - - ?

Cem : We usually fry or bake it. We sometimes grill it, too.

- A) How do you usually cook fish
- B) Can you heat the oven for me
- C) Do you have a cooker at home
- D) What are the ingredients of a pizza

4. Mel : - - - - ?

Joe : We usually have cheese, eggs and orange juice.

- A) When do you have breakfast
- B) Who prefers having breakfast
- C) Where do you have breakfast
- D) What do you have for breakfast

5. Thomas: Hey Mike! Let's go for a walk tonight?

Mike : Thanks, but - - - - .

- A) I am going to join you
- B) that is quite impressive
- C) I prefer staying at home
- D) that really sounds better

6. Carl : We are going to try zorbing with friends this weekend. What about joining us?

Maggie: - - - - . I'm not really into these kinds of sports.

- A) That is fine for me
- B) I think it's ridiculous
- C) It's my favorite activity
- D) That may be a good idea

7. My school is far away from our house - - - - .

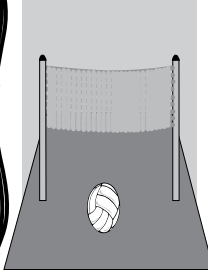
- A) if I hardly ever walk to school
- B) after I go to school in the morning
- C) so I take the bus to school every day
- D) because I like riding my bike to school

8. Amy always gets on well with her classmates. However, - - - - .

- A) she sometimes prefers staying alone
- B) they have a lot of things in common
- C) they share similar likes and dislikes
- D) she always counts on her friends

9.

VOLLEYBALL TOURNAMENT!



Hi, David

The school is organizing a volleyball tournament. - - - - . If you aren't busy then, please come and watch us.


I hope to see you there.

Tom

- A) It starts on Sunday
- B) I'd love to come
- C) Just call on me
- D) Good bye


10 - 11. sorularda boş bırakılan yere uygun gelen seçeneği verilen resme göre işaretleyiniz.

10.



- A) seat
- B) tire
- C) chain
- D) handlebar

11.



Put the - - - on the cooker.

- A) tea towel B) mixing bowl
C) rolling pin D) frying pan

12.

	Thriller	Sci-fi	Comedy	Romance
Diana		✓		X
Curtis	✓		X	
Nina		X	✓	X
Jeremy	X	✓		✓

(✓ =Yes X =No)

Yukarıda verilen tabloya göre doğru seçeneği işaretleyiniz.

- A) Nina and Curtis don't like comedies.
B) Jeremy loves thrillers but not romances.
C) Curtis loves thrillers but Jeremy doesn't.
D) Diana loves romances but not sci-fi movies.

13 - 14. sorularda boş bırakılan yere uygun gelen seçeneği aşağıda verilen bilgilere göre işaretleyiniz.

HOW TO MAKE A CAKE

Step 1	Pre-heat the oven to 180°C.
Step 2	Mix the eggs and sugar in a bowl.
Step 3	Add some oil, milk, flour and baking powder.
Step 4	Mix all the ingredients and pour the mixture into a pan.
Step 5	Place it into the oven and bake it for about thirty minutes.
Step 6	Leave it to cool for ten minutes before serving.

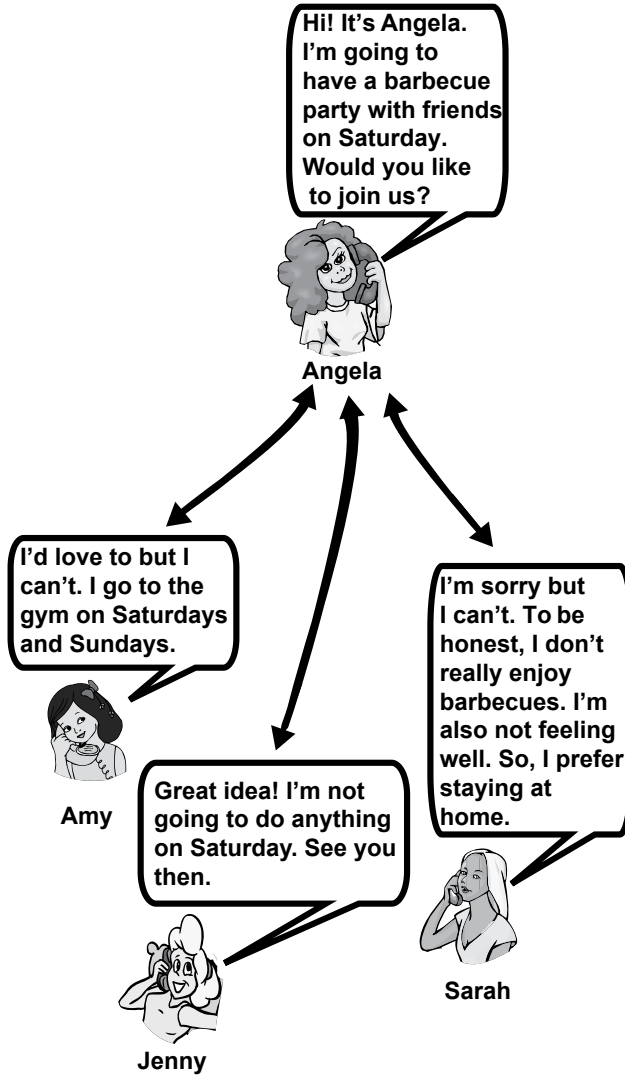
13. We - - - before we add the other ingredients.

- A) bake it for thirty minutes
B) let it cool for ten minutes
C) pour the mixture into a pan
D) mix the eggs and sugar in a bowl

14. After we pour the mixture into a pan, we - - - .

- A) put it into the oven
B) mix all the ingredients
C) add some baking powder
D) take it out after 10 minutes

15 - 16 - 17. soruları aşağıda verilen karşılıklı konuşmalara göre cevaplayınız.



ÖLÇME, DEĞERLENDİRME VE SINAV HİZMETLERİ GENEL MÜDÜRLÜĞÜ

15. Amy refuses the invitation because - - - - .

- A) she will go to another party
- B) she has nothing better to do
- C) she is going to meet her friends
- D) she goes to the gym at the weekends

16. Who accepts the invitation?

- A) Jenny
- B) Angela
- C) Sarah
- D) Amy

17. Sarah isn't going to attend the party because - - - - .

- A) she is always very honest
- B) she is busy at the weekend
- C) she really dislikes barbecues
- D) she feels quite good at home

18 - 19 - 20. soruları aşağıda verilen metne göre cevaplayınız.



Emily likes reading a book or a magazine at home in her free time. Classical music is her favorite type of music. She thinks it is very impressive. However, she can't stand rock music.



Tom is good at playing soccer. He often watches comedy movies at home. He really enjoys hanging out with friends. He usually meets them on Sundays.



Jane's favorite activity is to go to a shopping mall. She likes watching fashion shows. She never buys casual clothes. She thinks they are not trendy.

18. Emily - - - - .

- A) usually goes to a rock concert
- B) really likes classical music
- C) never reads book at home
- D) thinks rock is very trendy

19. Tom - - - - .

- A) never plays soccer with his friends
- B) thinks casual clothes are impressive
- C) hardly ever watches a comedy movie
- D) spends time with his friends on Sundays

20. Jane - - - - .

- A) doesn't prefer wearing casual clothes
- B) never wants to go to a shopping mall
- C) can't stand watching fashion shows
- D) reads magazines in her free time

TEST BİTTİ.

CEVAPLARINIZI KONTROL EDİNİZ.

SINAV BAŞLAMADAN AŞAĞIDAKİ UYARILARI MUTLAKA OKUYUNUZ

1. Öğrenciler, sınav kurallarına ve salon görevlilerinin tüm uyarılarına uymak zorundadırlar.
2. Cevap kâğıdındaki kimlik bilgilerinin doğruluğunu kontrol ediniz. Bilgiler size ait değilse veya cevap kâğıdı kullanılmayacak durumdaysa sınav görevlilerine bildirin.
3. Sınav başladıktan sonra öğrencilerin salon görevlileri ve birbirleri ile konuşmaları, kalem, silgi vb. şeyleri istemeleri yasaktır.
4. Değiştirmek istediğiniz bir cevabı, yumuşak silgiyle cevap kâğıdını yıpratmadan temizce siliniz ve yeni cevabınızı kodlayınız.
5. Cevap kâğıdınızı silinmeyen bir kalemle imzalayınız.
6. Cevaplarınızı, cevap kâğıdındaki ilgili soru numarasını dikkate alarak yuvarlağın dışına taşırmadan kodlayınız.
7. Soru kitapçığının sayfalarını kontrol ediniz, baskı hatası var ise değiştirilmesini sağlayınız.
8. Soru kitapçığı üzerinde yapıp cevap kâğıdına işaretlenmeyen cevaplar değerlendirmeye alınmayacaktır.
9. Soru kitapçığının içindeki boş alanları çözümlerinizi için kullanabilirsiniz.
10. Cevaplamaya istediğiniz sorudan başlayabilirsiniz.
11. Cevabını bilmediğiniz sorular üzerinde fazla zaman kaybetmeden diğer sorulara geçiniz. Zamanınız kalırsa bu sorulara daha sonra dönebilirsiniz.
12. Sınav puanınızın hesaplanmasında sadece doğru cevaplarınız dikkate alınacaktır.
13. Sınav bitiminde, soru kitapçığı ve cevap kâğıdını salon görevlilerine teslim ediniz.
14. Sınav sırasında sözlük, hesap makinesi, saat fonksiyonu dışında özellikleri bulunan saat veya çağrı cihazı, cep telefonu, telsiz, radyo ve bilgisayar özelliği bulunan elektronik cihazları yanınızda bulundurmanız halinde sınavınız geçersiz sayılacaktır.
15. Cevap kâğıdınızı sınav süresince hiçbir öğrencinin göremeyeceği şekilde önünüzde bulundurunuz.
16. Sınavınızın değerlendirilmesi aşamasında, toplu kopya tespiti veya başka adayın sınav evrakını kullanmanız durumunda sınavınız geçersiz sayılacaktır.
17. Soruları ve sorulara verdiğiniz cevapları kaydetmeyiniz, hiçbir şekilde dışarı çıkarmayınız.
18. Sınav süresince dışarı çıkılmayacaktır.
19. Sınav evraklarını teslim etmeyenlerin sınavı geçersiz sayılacaktır.

SINAV GÖREVLİLERİNCE SINAV BAŞLAMADAN ÖNCE ÖĞRENCİLERE YAPILACAK SON UYARI

- Soracağınız bir şey var mı? Varsa, şimdi sorunuz.
- Sınav başladıktan sonra sorularınıza cevap verilmeyecektir.
- Başlama zilini bekleyiniz.

Hepinize başarılar dileriz.

(Sınav görevlisi başlama ve bitiş saatini tahtaya yazacaktır.)

Bu kitapçığın her hakkı saklıdır. Hangi amaçla olursa olsun, kitapçığın tamamının veya bir kısmının Millî Eğitim Bakanlığı Ölçme, Değerlendirme ve Sınav Hizmetleri Genel Müdürlüğünün yazılı izni olmadan kopya edilmesi, fotoğraflarının çekilmesi, bilgisayar ortamına alınması, herhangi bir yolla çoğaltılması, yayımlanması veya başka bir amaçla kullanılması yasaktır. Bu yasağa uymayanlar, doğabilecek cezai sorumluluğu ve kitapçığın hazırlanmasındaki mali külfeti peşinen kabullenmiş sayılır.

**26 KASIM 2015 TARİHİNDE YAPILAN 8. SINIF I. DÖNEM
İNGİLİZCE DERSİ MERKEZİ ORTAK SINAVI
“A” KİTAPÇIĞI CEVAP ANAHTARI**

İNGİLİZCE

1. B
2. C
3. A
4. D
5. C
6. B
7. C
8. A
9. A
10. B
11. D
12. C
13. D
14. A
15. D
16. A
17. C
18. B
19. D
20. A