



A
KİTAPÇIK TÜRÜ

T.C.
MİLLÎ EĞİTİM BAKANLIĞI
ÖLÇME, DEĞERLENDİRME VE SINAV HİZMETLERİ GENEL MÜDÜRLÜĞÜ

8. SINIF 2. DÖNEM
TÜRKÇE DERSİ
MERKEZİ ORTAK SINAVI (MAZERET)
14 MAYIS 2016 Saat: 09.00

Adı ve Soyadı :
Sınıfı :
Öğrenci Numarası :

SORU SAYISI : 20
SINAV SÜRESİ : 40 Dakika

ÖĞRENCİLERİN DİKKATİNE!

1. Sınıf öğrenci yoklama listesinde belirtilen sınıfta ve sıra numarasında oturunuz.
2. Cevap kâğıdındaki kimlik bilgilerinin doğruluğunu kontrol ediniz.
3. Kitapçık türünü cevap kâğıdındaki ilgili alana kodlayınız.
4. Cevap kâğıdı üzerindeki kodlamaları kurşun kalemle yapınız.

SINAV BAŞLAMADAN ÖNCE
KİTAPÇIĞIN ARKA KAPAĞINDAKİ UYARILARI MUTLAKA OKUYUNUZ.

TÜRKÇE

1. Bu testte 20 soru vardır.
2. Cevaplarınızı, cevap kâğıdına işaretleyiniz.

1. **Aşağıdaki cümlelerin hangisinde “bir eşyanın, nesnenin yıprandığını” anlatan bir söz kullanılmamıştır?**

- A) Arada sırada eski mahallemize gidip arkadaşlarımı görüyordum.
- B) Kış aylarında kabak lastiklerle yola çıkanlar kazalara sebep oluyor.
- C) Kimse ilgilenmediği için dedemlerin evi harabeye dönmüştü.
- D) Külüstür bir kamyona eşyaları yükleyip erkenden yola çıkmışlardı.

2. **Aşağıdaki cümlelerin hangisinde “telaşlanmak” anlamında bir deyim kullanılmamıştır?**

- A) Onca zamandan sonra onu karşımda görünce elim ayağıma dolaştı.
- B) Ardından atlı kovalıyor sanki, niye bu acele anlayamadım.
- C) Üniversiteye kaydını son güne bırakınca etekleri tutuştu.
- D) Sen de bizimle gelmek istiyorsan elini çabuk tutmalısın.

3. Öğretmen olarak gittiğim köylerde düzenlediğim şiir dinletileri, tiyatro gösterileri ve öğrencilere okuduğum kitaplarla onların zihin dünyalarında farklı iklimler oluşturmaya çalıştım.

Bu cümleye altı çizili kelime grubunun kattığı anlam aşağıdakilerden hangisi olamaz?

- A) Hayal güçlerini geliştirmek
- B) Sosyalleşmelerine katkıda bulunmak
- C) Yeni bakış açıları kazandırmak
- D) Değişik yaklaşımlarla karşılaştırmak

4. Hiç, çoban koyunu güder mi dağda, Olmasa gözleri süt, yoğurt, yağda?

Bu dizelerle anlatılmak istenen aşağıdakilerden hangisidir?

- A) Yapılan iyilikler hiçbir zaman unutulmaz.
- B) Zararla sonuçlanacak durumlardan uzak durmak gerekir.
- C) Toplumsal fayda söz konusu olduğunda bireysellik ortadan kalkar.
- D) İnsanlar bir işi yaparken kendilerini düşünürler.

5. I. Başkarakterin çocuk olduğu bu filmlerden aklımda kalan tipik sahne, piknik yapan bir ailenin resmedildiği sahnedir.
II. Çünkü biz biliriz ki köpekler filmlerde de gerçek hayatta da bizim dostumuzdur.
III. Ben çocukken her pazar sabahı televizyonda film saati olurdu.
IV. O resmin olmazsa olmazı, çocuğun yanından bir dakika bile ayrılmayan sevimli bir köpekti.

Numaralanmış cümlelerle mantık akışına göre anlamlı bir metin oluşturulduğunda sıralama aşağıdakilerden hangisi olur?

- A) III - I - IV - II
- B) III - II - I - IV
- C) III - II - IV - I
- D) III - IV - I - II

6. (I) Çocuklar için çalışan bir sivil toplum örgütü, harika bir sandalet geliştirmiş. (II) Sıcak iklimlerde giyilmek üzere tasarlanan sandalet, sahibinin ayağı büyüdükçe büyüyor. (III) Sandaletin ön ve arka tarafında tabanın uzamasını sağlayan, ayarlanabilen bantlar; yan taraflarında genişlemesini sağlayan çitçitler bulunuyor. (IV) Böylece beş numara büyüeyebilen sandalet yaklaşık beş yıl boyunca kullanılabilir.

Bu metinde numaralanmış cümlelerle ilgili aşağıdakilerden hangisi doğrudur?

- A) I. cümlede beğeni dile getirilmiştir.
B) II. cümlede şaşırma anlamı vardır.
C) III. cümlede yakınma anlamı vardır.
D) IV. cümle pişmanlık bildirmektedir.

7. Öğretmenlerin, anne ve babaların çocuklara şiir okuma alışkanlığı kazandırabilmek için yayımlanmış bütün şiir kitaplarını sağlamaları güçtür. Bu ihtiyacı en kısa yoldan karşılayacak eserler ise özel olarak düzenlenmiş şiir antolojileridir. Antolojiler, birçok şiir örneğini bir arada sunduğu için çocukların farklı şiirlere tek kitap üzerinden ulaşmasına imkân sağlamaktadır. Böylece çocuklar beğendikleri bir şiirle ve şairle karşılaştıkları için şiire daha çabuk ısınırlar.

Bu metnin konusu aşağıdakilerden hangisidir?

- A) Çocuklara şiir okuma alışkanlığı kazandırmanın faydaları
B) Çocukların hayal dünyasını geliştirecek şiirlerin taşıdığı nitelikler
C) Çocuklara şiir okuma alışkanlığı kazandırmada antolojilerin önemi
D) Antolojilerin hazırlanmasında dikkat edilecek hususlar

8. Bundan yıllar önce Batılı alışveriş merkezlerinin ilklerinden Paris pasajları hakkında yazan düşünür Walter Benjamin (Vultur Benjamin), onları "endüstriyel lüksün bir buluşu" olarak tanımladı. Çünkü endüstriyel üretimin tüketiciye ulaştırılması gerekiyordu. Ne var ki o zamanlar toplum yapısı hâlen üretim üzerine kuruluydu. Bugün ise Türkiye'nin herhangi bir yerinde açılan alışveriş merkezlerinin var olma sebebi, dünyadaki örneklerinden farklı değil. Alışveriş merkezleri artık, tüketim temelli ekonominin bir buluşu hâline geldi.

Bu metne göre alışveriş merkezlerinin ortaya çıkış sebebi aşağıdakilerden hangisidir?

- A) İnsanlara yeni iş olanakları sunması
B) Endüstriyel ürünlerin tüketiciye ulaştırılması
C) İnsanların boş zamanlarını değerlendirmesi
D) Üretim merkezi olarak kullanılması

9. Aletli dalış için ülkemizde oldukça farklı seçenekler var. Antalya'nın Kaş ve Kemer ilçeleri birçok dalış okuluyla aletli dalışın önemli merkezleri. Aletli dalış en fazla Ege ve Akdeniz'de yapılıyor. Bunun nedeni bu bölgelerin su altı doğasının muhteşem olmasının yanı sıra buralarda önemli tarihî batıkların bulunması. Antalya Limanı girişinde 30 metre derinlikte yatan Fransız Societe (Sosyete) savaş gemisi, Kemer Marinası açıklarındaki Paris Batığı, Kaş açıklarındaki Uluburun Batığı'nın bulunduğu yer bunlardan sadece bazıları. Aletli dalış yapanlar için önemli bir dalış sebebi de deniz dibi mağaraları ile deniz canlılarının en güzel olduğu noktaları gözlemlemektir.

Bu metinde "aletli dalış" ile ilgili aşağıdakilerden hangisine değinilmemiştir?

- A) Ülkemizde bu sporun yapılacağı alanların olduğuna
B) Bazı yerlerin daha fazla tercih edildiğine
C) Birçok su altı zenginliğinin bu sayede keşfedildiğine
D) Bu alanda eğitim veren kurumların olduğuna

10. Aldığım şeylerin parasını ödemekten haz duyarım; omuzlarımdan bir yük atmış, bir çeşit kölelikten kurtulmuş gibi olurum. Ama hesap kitap, pazarlık isteyen alışverişe yanaşmam. Yaradılışıma çok aykırı gelen o sıkıcı konuşmalara düşmekten se pazarlık ortamını bırakır kaçırım. - - - -

Bu metin aşağıdaki cümlelerden hangisiyle tamamlanırsa düşüncenin yönü değişir?

- A) Böylelikle özenle koruduğum saygınlığımı yitirmemiş olurum.
B) Ne var ki kısa bir süre sonra yine sevmediğim bir pazarlık ortamında bulurum kendimi.
C) Gelgelelim çevremdekiler bu huyumu pek beğenmezler.
D) Öte yandan pazarlığın insan ilişkilerini geliştirdiğini de bilirim.

11. Aşağıdakilerin hangisinde metnin sonunda yay araç içinde verilen hikâye unsuru yoktur?

- A) Sabah olmuştu. Kapının aralıklarında bembeyaz ışık çizgileri parlıyordu. O hiç böyle dalıp kalmaz, güneş doğmadan uyanırdı. Doğrudu. Sedirden atladı, ayakbauları olmadan yürüdü. Bu saatte evde olmaması gerekirdi. (Yer)
B) En kalın, en katı demirleri mısır yaprağı gibi incelten, kâğıt gibi yumuşatan Koca Ali, sanatını kimseden değil; kendi kendine öğrenmişti. Artık kasabanın en iyi demircisi olmuştu. (Kişi)
C) İki bin kişilik kuşatma ordusunun çadırları, kaleye giren geniş yolun sağındaki büyük dişbudak ağaçlarının etrafına kurulmuştu. Yerlere kazıklanmış kır atlar, yabancı kokular duyuyor gibi sık sık başlarını kaldırarak kişniyor; tırnaklarıyla toprağı kazıyordu. (Zaman)
D) Şiddetini arttıran fırtınayla birlikte dalgalar geminin gövdesini dövüyordu. Gemi alabora olmak üzereydi. Kaptan, limanın buralarda bir yerde olduğunu biliyor ama pusulaları bozulduğu için karanlıkta yönünü tam olarak bulamıyordu. (Olay)

12. Aşağıdaki metinlerden hangisi "Siz öykünüzü nasıl oluşturuyorsunuz?" sorusuna yanıt olarak söylenmiştir?

- A) Bir defa öykü yazmanın öykü anlatma yeteneğiyle birlikte doğduğunu ancak yazmanın başka bir tekniğı olduğunu da düşünüyorum. Bence bu durum göz ardı edilemez.
B) Yaşamım boyunca her zaman öykü düşündüğümü söyleyebilirim. Onu düşünerek biçimlendirmeye ve olgunlaştırmaya çalışırım. Bu, biraz zaman alır; hazır olduğunu düşündüğümde yazarım öykümü.
C) Öykünün bende karşılığını şöyle açıklayabilirim: Öykü türü insanı artırıyla, eksileriyle en yoğun olduğu zamanlarda yakalayıp yine yoğun bir anlatımla dar hacimde sunabilen bir türdür.
D) Bu soruyla karşılaştığımda her defasında ben de kendimde yeni bir şeyler keşfediyorum galiba. Geriye dönüp baktığımda şunu söyleyebilirim: Ben öykü yazmaya sadece öykü yazmak için başlamışım.

13. Hizmete yeni açılan Ali Kuşçu Uzay Evi, uzaya ve bilime meraklı çocuklara gök bilim alanında erken yaşta eğitim imkânı sağlıyor. Alibeyköy Osmanlı Parkı'nda bulunan bu merkez, ismini uzay alanında yaptığı araştırmaları bilinen en ünlü gök bilimci Ali Kuşçu'dan alıyor. Merkezde çocuklara uzayı ve uzay araştırmalarını öğretmek için etkileşimli bir eğitim ortamı sunuluyor.

Bu metin dil ve anlatımı yönünden incelendiğinde;

- I. Olay örgüsüne dayanmaktadır.
II. Açıklamaya başvurulmuştur.
III. Karşılaştırma yapılmıştır.
IV. Benzetmeye yer verilmiştir.

yargılarından hangisi söylenemez?

- A) I ve II.
B) I ve IV.
C) II ve III.
D) III ve IV.

14. Aşağıdaki metinlerden hangisi sonunda yay ayraç içinde verilen türe örnek gösterilemez?

- A) Cemil Kavukçu'nun 2009'da yayımlanan "Selo'nun Kuşları" adlı kitabı oldukça içten ve yalın öykülerden oluşuyor. Hayvanlarla insanlar arasındaki iletişimi ortaya koyarak hayvanlar dünyasına başarıyla eğiliyor. (Eleştiri)
- B) İzmir'den yola erken çıktığımız için şehirde hayat canlanmadan Manisa'ya vardık. İlk bakışta Manisa'dan çok etkilendiğimi rahatlıkla söyleyebilirim. Şehzadeler şehri olan bu diyarda birçok tarihî yapıya rastlamak mümkün. (Gezi yazısı)
- C) Saç dökülmesinin nedenleri kalıtsal ve geçici olarak iki ana grupta toplanmaktadır. Saç dökülmelerine karşı alınan önlemler, daha çok çevresel faktörlere karşı etkili olmaktadır. Genetik faktörlere karşı henüz bir çözüm bulunamamıştır. (Deneme)
- D) O gece İstanbul'da üçüncü gecesiydi. Ertesi gün bu dünya güzeli şehirden ayrılacak olmanın hüznü yüreğine çöreklenmişti. Bu yüzden bütün gece uyuyamadı. (Öykü)

15. Aşağıdaki dizelerin hangisinde yay ayraç içinde verilen söz sanatı yoktur?

- A) Niçin bu derenin suları kara
Niçin böyle hırçın akıyor dere?
(Kişileştirme)
- B) Gönlüm, benim gönlüm, o bir rüzgârdır
Sonsuz denizlerin ufkunda eser
(Benzetme)
- C) Gözlerinden akan her damlada
Okyanuslar kadar derinlik gördüm
(Abartma)
- D) Güneşin ışıktan kollarını yakalıyor gök
Ağır ağır çekiyor dağın sırtına
(Konuşturma)

16.

		Öznesine göre		Nesnesine göre	
		Et-ken	Edil-gen	Ge-çişli	Ge-çişsiz
I.	Ödül töreninde isimlerimiz tek tek okundu.		X		X
II.	Yeşil fasulyelerin kılçıklarını ayıklamaktan bıktım.	X			X
III.	Bu tablo uzun yıllar evimizin duvarını süsledi.		X	X	
IV.	Babam, aracı yavaş kullanmamız konusunda bizi uyardı.	X		X	

Tablodaki cümleler çatı özelliklerine göre incelenmiştir.

Bu tabloda numaralı cümlelerden hangisinin çatı özelliği yanlış işaretlenmiştir?

- A) I. B) II. C) III. D) IV.

17. (I) Yanan odunların sesini ninni gibi algılamakla geçti çocukluğum. (II) Özellikle geceleri sobanın küçük deliklerinden tavana ateşin dansı yansırı. (III) Aynı noktaya biraz fazla baktığımda gördüklerimi insan figürüne benzetirdim. (IV) Eğilip kalkan, hoplayıp zıplayan ateş insanlar olurdu tavanda.

Bu metinde numaralanmış cümlelerin hangisinde tek yargı vardır?

- A) I. B) II. C) III. D) IV.

18. Aşağıdaki cümlelerin hangisi sadece özne ve yüklemden oluşmuştur?

- A) Sakız ağaçları, doğanın insana sunduğu en lezzetli armağanlardan biridir.
- B) Hava iyice kararınca yıldızlar fenerimiz oluyordu.
- C) Karadeniz'in batı kıyıcığında cana yakın bir memleket vardır.
- D) Yemyeşil yosunların üzerinden akan su, güzel görüntüler sunuyor.

19. TÜBİTAK'ın katkılarıyla kurulan

I
Kocaeli Bilim Merkezi, 18 Nisan 2015'de açıldı.

II
Burada iki yüze yakın deney düzeneği bulunuyor.

IV
Bu metinde numaralanmış sözlerin hangisinde yazım yanlışı yapılmıştır?

- A) I. B) II. C) III. D) IV.

20. Aşağıdaki cümlelerin hangisinde kısa çizgi (-) yanlış kullanılmıştır?

- A) Bence şairler içinde şiire en tutkun şair -yaşayanları kastediyorum- odur.
- B) O sıralar -on on beş yıl önce- pek fazla önemsememiştim bu olayları.
- C) Jürinin seçme mantığını -ben hiç anlam verememiştim- herkes beğenmişti.
- D) Bu da onları -güldürü için güldürü- gibi bir kısır döngünün içine atmıştır.

TEST BİTTİ.
CEVAPLARINIZI KONTROL EDİNİZ.

SINAV BAŞLAMADAN AŞAĞIDAKİ UYARILARI MUTLAKA OKUYUNUZ

1. Öğrenciler, sınav kurallarına ve salon görevlilerinin tüm uyarılarına uymak zorundadırlar.
2. Cevap kâğıdındaki kimlik bilgilerinin doğruluğunu kontrol ediniz. Bilgiler size ait değilse veya cevap kâğıdı kullanılmayacak durumdaysa sınav görevlilerine bildirin.
3. Sınav başladıktan sonra öğrencilerin salon görevlileri ve birbirleri ile konuşmaları, kalem, silgi vb. şeyleri istemeleri yasaktır.
4. Değiştirmek istediğiniz bir cevabı, yumuşak silgiyle cevap kâğıdını yıpratmadan temizce siliniz ve yeni cevabınızı kodlayınız.
5. Cevap kâğıdınızı silinmeyen bir kalemle imzalayınız.
6. Cevaplarınızı, cevap kâğıdındaki ilgili soru numarasını dikkate alarak yuvarlağın dışına taşırmadan kodlayınız.
7. Soru kitapçığının sayfalarını kontrol ediniz, baskı hatası var ise değiştirilmesini sağlayınız.
8. Soru kitapçığı üzerinde yapıлып cevap kâğıdına işaretlenmeyen cevaplar değerlendirmeye alınmayacaktır.
9. Soru kitapçığının içindeki boş alanları çözümlerinizi için kullanabilirsiniz.
10. Cevaplamaya istediğiniz sorudan başlayabilirsiniz.
11. Cevabını bilmediğiniz sorular üzerinde fazla zaman kaybetmeden diğer sorulara geçiniz. Zamanınız kalırsa bu sorulara daha sonra dönebilirsiniz.
12. Sınav puanınızın hesaplanmasında sadece doğru cevaplarınız dikkate alınacaktır.
13. Sınav bitiminde, soru kitapçığı ve cevap kâğıdını salon görevlilerine teslim ediniz.
14. Sınav sırasında sözlük, hesap makinesi, saat fonksiyonu dışında özellikleri bulunan saat veya çağrı cihazı, cep telefonu, telsiz, radyo ve bilgisayar özelliği bulunan elektronik cihazları yanınızda bulundurmanız halinde sınavınız geçersiz sayılacaktır.
15. Cevap kâğıdınızı sınav süresince hiçbir öğrencinin göremeyeceği şekilde önünüzde bulundurunuz.
16. Sınavınızın değerlendirilmesi aşamasında, toplu kopya tespiti veya başka adayın sınav evrakını kullanmanız durumunda sınavınız geçersiz sayılacaktır.
17. Soruları ve sorulara verdiğiniz cevapları kaydetmeyiniz, hiçbir şekilde dışarı çıkarmayınız.
18. Sınav süresince dışarı çıkılmayacaktır.
19. Sınav evraklarını teslim etmeyenlerin sınavı geçersiz sayılacaktır.

SINAV GÖREVLİLERİNCE SINAV BAŞLAMADAN ÖNCE ÖĞRENCİLERE YAPILACAK SON UYARI

- Soracağınız bir şey var mı? Varsa, şimdi sorunuz.
- Sınav başladıktan sonra sorularınıza cevap verilmeyecektir.
- Başlama zilini bekleyiniz.

Hepinize başarılar dileriz.

(Sınav görevlisi başlama ve bitiş saatini tahtaya yazacaktır.)

Bu kitapçığın her hakkı saklıdır. Hangi amaçla olursa olsun, kitapçığın tamamının veya bir kısmının Millî Eğitim Bakanlığı Ölçme, Değerlendirme ve Sınav Hizmetleri Genel Müdürlüğünün yazılı izni olmadan kopya edilmesi, fotoğraflarının çekilmesi, bilgisayar ortamına alınması, herhangi bir yolla çoğaltılması, yayımlanması veya başka bir amaçla kullanılması yasaktır. Bu yasağa uymayanlar, doğabilecek cezai sorumluluğu ve kitapçığın hazırlanmasındaki mali külfeti peşinen kabullenmiş sayılır.

**14 MAYIS 2016 TARİHİNDE YAPILAN 8. SINIF II. DÖNEM
TÜRKÇE DERSİ MERKEZİ ORTAK SINAVI (MAZERET)
“A” KİTAPÇIĞI CEVAP ANAHTARI**

TÜRKÇE

1. A
2. D
3. B
4. D
5. A
6. A
7. C
8. B
9. C
10. D
11. C
12. B
13. B
14. C
15. D
16. C
17. B
18. A
19. C
20. D



A

KİTAPÇIK TÜRÜ

T.C.
MİLLÎ EĞİTİM BAKANLIĞI
ÖLÇME, DEĞERLENDİRME VE SINAV HİZMETLERİ GENEL MÜDÜRLÜĞÜ

8. SINIF 2. DÖNEM
MATEMATİK DERSİ
MERKEZİ ORTAK SINAVI (MAZERET)
14 MAYIS 2016 **Saat: 10.10**

Adı ve Soyadı :

Sınıfı :

Öğrenci Numarası :

SORU SAYISI : 20
SINAV SÜRESİ : 40 Dakika

ÖĞRENCİLERİN DİKKATİNE!

1. Sınıf öğrenci yoklama listesinde belirtilen sınıfta ve sıra numarasında oturunuz.
2. Cevap kâğıdındaki kimlik bilgilerinin doğruluğunu kontrol ediniz.
3. Kitapçık türünü cevap kâğıdındaki ilgili alana kodlayınız.
4. Cevap kâğıdı üzerindeki kodlamaları kurşun kalemle yapınız.

SINAV BAŞLAMADAN ÖNCE
KİTAPÇIĞIN ARKA KAPAĞINDAKİ UYARILARI MUTLAKA OKUYUNUZ.

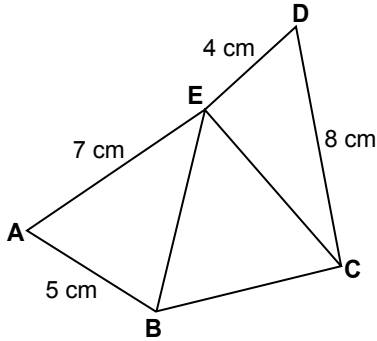
MATEMATİK

- Bu testte 20 soru vardır.
- Cevaplarınızı, cevap kâğıdına işaretleyiniz.

1. $2^{-3} + 2^{-4}$ işleminin sonucu kaçtır?

- A) $\frac{1}{2}$ B) $\frac{1}{12}$ C) $\frac{7}{24}$ D) $\frac{3}{16}$

2.



Şekilde verilen ABE ve CDE üçgenlerinde $|AB| = 5$ cm, $|CD| = 8$ cm, $|DE| = 4$ cm, $|EA| = 7$ cm'dir.

BCE üçgeninin kenar uzunlukları santimetre cinsinden birer tam sayı olduğuna göre bu üçgenin çevresi en az kaç santimetredir?

- A) 13 B) 12 C) 11 D) 10

3. I) $\sqrt{0,12} : \sqrt{0,03}$

II) $\sqrt{0,5} \cdot \sqrt{4}$

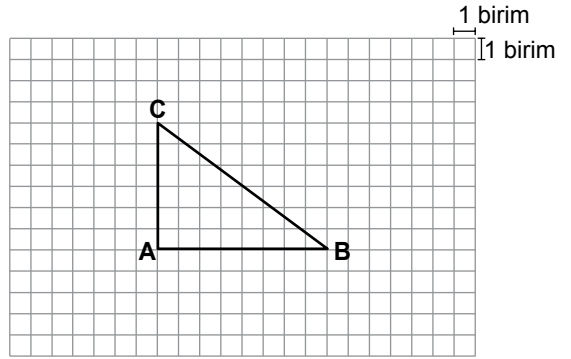
III) $\sqrt{1,6} \cdot \sqrt{10}$

IV) $\sqrt{20} : \sqrt{5}$

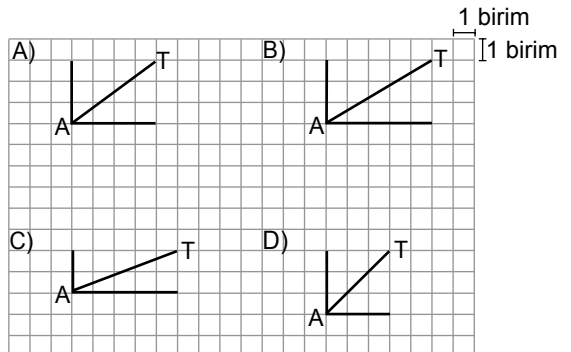
Yukarıdaki işlemlerden hangilerinin sonucu birbirine eşittir?

- A) I ve II. B) I ve IV.
C) II ve III. D) III ve IV.

4.



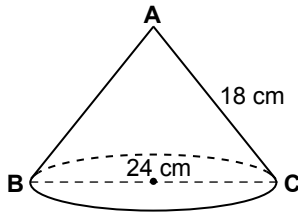
Aşağıdakilerin hangisinde [AT], şekildeki ABC üçgeninin [BC] kenarına ait kenarortaydır?



5. Tüm iç açılarının ölçüleri derece cinsinden birer tam sayı olan ABC üçgeninde $|AC| < |AB| < |BC|$ ise $m(\widehat{ABC})$ en fazla kaç derece olabilir?

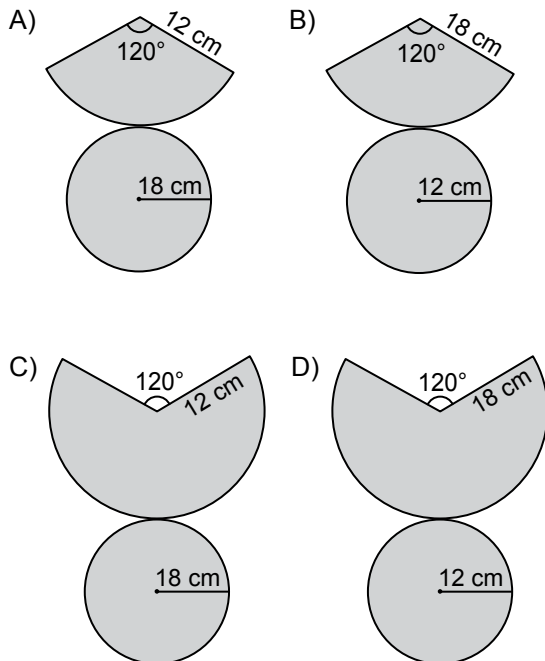
A) 58 B) 59 C) 60 D) 61

6.



Şekildeki dik koninin taban çapının uzunluğu 24 cm ve $|AC| = 18$ cm'dir.

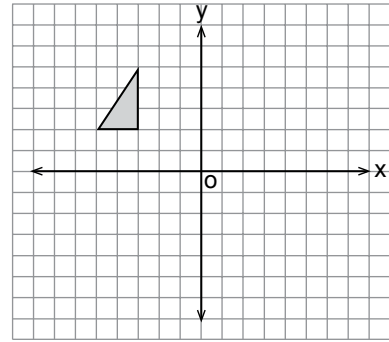
Buna göre bu koninin açılımı aşağıdakilerden hangisidir?



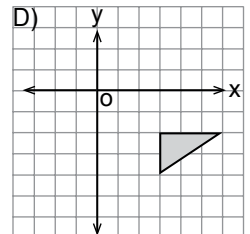
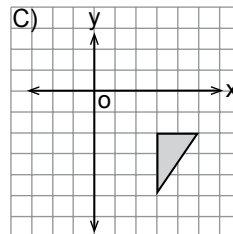
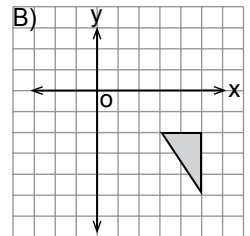
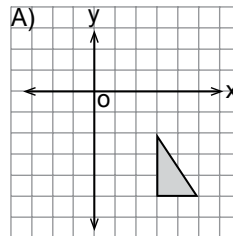
7. $a = 2 - \sqrt{7}$ ve $b = 2 + \sqrt{7}$ olduğuna göre $a^2 + b^2 - 2ab$ ifadesinin değeri kaçtır?

A) 22 B) 28 C) 34 D) 40

8.



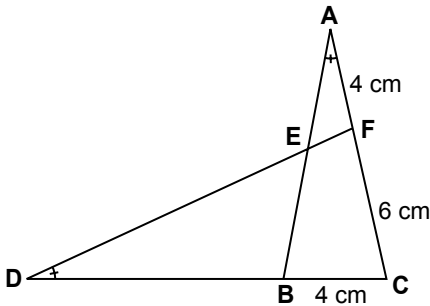
Koordinat düzleminde verilen şeklin orijin etrafında saat yönünde 180° döndürülmesiyle oluşan görüntüsü aşağıdakilerden hangisidir?



9. $\frac{x^2 - mx + 12}{x^2 - 2x - 3}$ ifadesi sadeleştirilebilir bir rasyonel ifade olduğuna göre m 'nin alabileceği tam sayı değerlerinin toplamı kaçtır?

A) 11 B) 9 C) -6 D) -15

10.

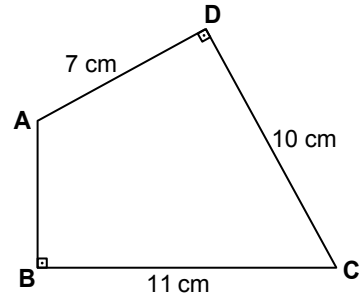


Şekildeki ABC ve FDC üçgenlerinde $m(\widehat{BAC}) = m(\widehat{CDF})$ 'tir.

$|AF| = |BC| = 4$ cm ve $|FC| = 6$ cm olduğuna göre $|DB|$ kaç santimetredir?

A) 6 B) 7 C) 10 D) 11

11.

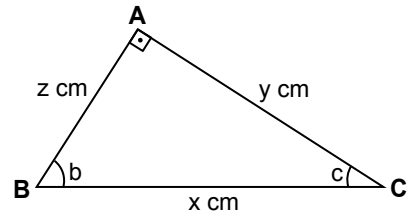


Şekildeki ABCD dörtgeninde $[AB] \perp [BC]$ ve $[AD] \perp [DC]$ 'tir.

$|AD| = 7$ cm, $|DC| = 10$ cm ve $|CB| = 11$ cm olduğuna göre $|AB|$ kaç santimetredir?

A) $2\sqrt{7}$ B) 6 C) 8 D) $4\sqrt{7}$

12.



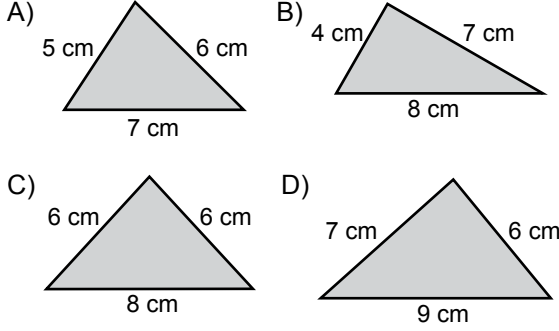
Şekildeki çeşitkenar ABC üçgeninde $m(\widehat{A}) = 90^\circ$, $m(\widehat{B}) = b$, $m(\widehat{C}) = c$ 'dir.

$|AB| = z$ cm, $|BC| = x$ cm ve $|CA| = y$ cm olduğuna göre $\sin c \cdot \cos b$ aşağıdakilerden hangisine eşittir?

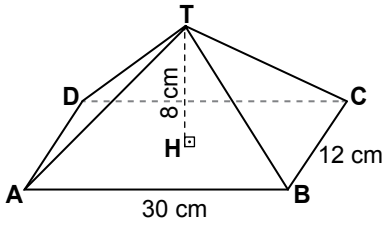
A) $\frac{y \cdot z}{x^2}$ B) $\frac{y^2}{x^2}$ C) $\frac{z^2}{x^2}$ D) 1

13. Bir üçgen dik prizmanın yan yüzlerinin alanları toplamı 108 cm^2 dir.

Bu prizmanın yüksekliği 6 cm olduğuna göre tabanlarından biri aşağıdakilerden hangisi olabilir?



- 14.

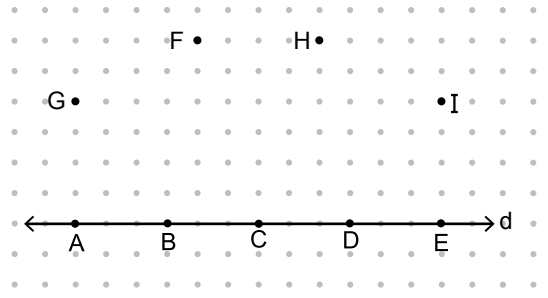


Şekildeki dikdörtgen dik piramidin yüksekliği 8 cm, $|AB| = 30 \text{ cm}$ ve $|BC| = 12 \text{ cm}$ 'dir.

Buna göre bu piramidin yüzey alanı kaç santimetrekaredir?

- A) 810 B) 824 C) 840 D) 864

- 15.

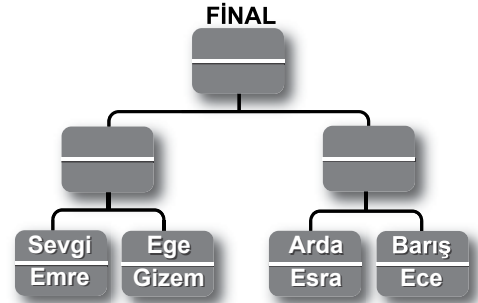


Şekilde verilen dokuz noktadan A, B, C, D, E noktaları d doğrusu üzerindedir.

Köşeleri bu dokuz noktadan herhangi üçü olacak biçimde kaç farklı üçgen çizilebilir?

- A) 69 B) 74 C) 79 D) 84

- 16.



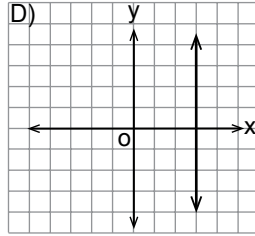
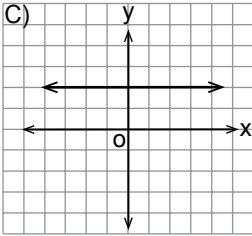
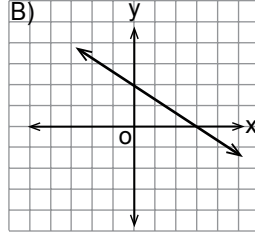
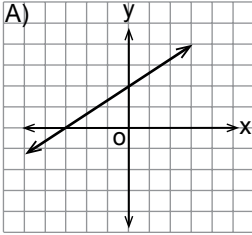
Yukarıdaki şekilde, satranç turnuvasına katılan ve kazanma olasılıkları birbirine eşit olan 8 öğrencinin karşılaşma tablosu verilmiştir.

Yenilenin elendiği turnuvanın finalinde Sevgi ile Barış'ın karşılaşma olasılığı kaçtır?

- A) $\frac{1}{4}$ B) $\frac{1}{16}$ C) $\frac{1}{32}$ D) $\frac{1}{64}$



17. $a > 0$ ve $b < 0$ olduğuna göre denklemin $ax + by + c = 0$ olan doğrunun grafiği aşağıdakilerden hangisi olabilir?



18. Altı parasının $\frac{1}{3}$ 'ü ile bir kalem, $\frac{2}{5}$ 'si ile bir defter satın alıyor.

Geriye 4 lirası kaldığına göre defterin fiyatı kaç liradır?

- A) 12 B) 9 C) 8 D) 6

19. $\begin{cases} ax + by = 9 \\ ax - by = 3 \end{cases}$ denklem sistemini sağlayan (x, y) sıralı ikilisi $(3, 1)$ olduğuna göre $a + b$ kaçtır?

- A) 3 B) 4 C) 5 D) 6

20. x tam sayısı, y tam sayısının 2 katının 10 eksiğine eşittir. 8-A sınıfının mevcudu $\frac{3}{2}x - 9$ ve 8-B sınıfının mevcudu y 'dir.

8-A sınıfının mevcudu 8-B sınıfının mevcudundan fazla olduğuna göre 8-B sınıfının mevcudu en az kaçtır?

- A) 16 B) 13 C) 10 D) 9

SINAV BAŞLAMADAN AŞAĞIDAKİ UYARILARI MUTLAKA OKUYUNUZ

1. Öğrenciler, sınav kurallarına ve salon görevlilerinin tüm uyarılarına uymak zorundadırlar.
2. Cevap kâğıdındaki kimlik bilgilerinin doğruluğunu kontrol ediniz. Bilgiler size ait değilse veya cevap kâğıdı kullanılmayacak durumdaysa sınav görevlilerine bildirin.
3. Sınav başladıktan sonra öğrencilerin salon görevlileri ve birbirleri ile konuşmaları, kalem, silgi vb. şeyleri istemeleri yasaktır.
4. Değiştirmek istediğiniz bir cevabı, yumuşak silgiyle cevap kâğıdını yıpratmadan temizce siliniz ve yeni cevabınızı kodlayınız.
5. Cevap kâğıdınızı silinmeyen bir kalemle imzalayınız.
6. Cevaplarınızı, cevap kâğıdındaki ilgili soru numarasını dikkate alarak yuvarlağın dışına taşırmadan kodlayınız.
7. Soru kitapçığının sayfalarını kontrol ediniz, baskı hatası var ise değiştirilmesini sağlayınız.
8. Soru kitapçığı üzerinde yapıлып cevap kâğıdına işaretlenmeyen cevaplar değerlendirmeye alınmayacaktır.
9. Soru kitapçığının içindeki boş alanları çözümlerinizi için kullanabilirsiniz.
10. Cevaplamaya istediğiniz sorudan başlayabilirsiniz.
11. Cevabını bilmediğiniz sorular üzerinde fazla zaman kaybetmeden diğer sorulara geçiniz. Zamanınız kalırsa bu sorulara daha sonra dönebilirsiniz.
12. Sınav puanınızın hesaplanmasında sadece doğru cevaplarınız dikkate alınacaktır.
13. Sınav bitiminde, soru kitapçığı ve cevap kâğıdını salon görevlilerine teslim ediniz.
14. Sınav sırasında sözlük, hesap makinesi, saat fonksiyonu dışında özellikleri bulunan saat veya çağrı cihazı, cep telefonu, telsiz, radyo ve bilgisayar özelliği bulunan elektronik cihazları yanınızda bulundurmanız halinde sınavınız geçersiz sayılacaktır.
15. Cevap kâğıdınızı sınav süresince hiçbir öğrencinin göremeyeceği şekilde önünüzde bulundurunuz.
16. Sınavınızın değerlendirilmesi aşamasında, toplu kopya tespiti veya başka adayın sınav evrakını kullanmanız durumunda sınavınız geçersiz sayılacaktır.
17. Soruları ve sorulara verdiğiniz cevapları kaydetmeyiniz, hiçbir şekilde dışarı çıkarmayınız.
18. Sınav süresince dışarı çıkılmayacaktır.
19. Sınav evraklarını teslim etmeyenlerin sınavı geçersiz sayılacaktır.

SINAV GÖREVLİLERİNCE SINAV BAŞLAMADAN ÖNCE ÖĞRENCİLERE YAPILACAK SON UYARI

- Soracağınız bir şey var mı? Varsa, şimdi sorunuz.
- Sınav başladıktan sonra sorularınıza cevap verilmeyecektir.
- Başlama zilini bekleyiniz.

Hepinize başarılar dileriz.

(Sınav görevlisi başlama ve bitiş saatini tahtaya yazacaktır.)

Bu kitapçığın her hakkı saklıdır. Hangi amaçla olursa olsun, kitapçığın tamamının veya bir kısmının Millî Eğitim Bakanlığı Ölçme, Değerlendirme ve Sınav Hizmetleri Genel Müdürlüğünün yazılı izni olmadan kopya edilmesi, fotoğraflarının çekilmesi, bilgisayar ortamına alınması, herhangi bir yolla çoğaltılması, yayımlanması veya başka bir amaçla kullanılması yasaktır. Bu yasağa uymayanlar, doğabilecek cezai sorumluluğu ve kitapçığın hazırlanmasındaki mali külfeti peşinen kabullenmiş sayılır.

**14 MAYIS 2016 TARİHİNDE YAPILAN 8. SINIF 2. DÖNEM
MATEMATİK DERSİ MERKEZİ ORTAK (MAZERET) SINAVI
“A” KİTAPÇIĞI CEVAP ANAHTARI**

MATEMATİK

1. D
2. C
3. B
4. A
5. B
6. D
7. B
8. C
9. C
10. D
11. A
12. C
13. A
14. D
15. B
16. B
17. A
18. D
19. C
20. B



A
KİTAPÇIK TÜRÜ

T.C.
MİLLÎ EĞİTİM BAKANLIĞI
ÖLÇME, DEĞERLENDİRME VE SINAV HİZMETLERİ GENEL MÜDÜRLÜĞÜ

8. SINIF 2. DÖNEM
DİN KÜLTÜRÜ VE AHLAK BİLGİSİ DERSİ
MERKEZİ ORTAK SINAVI (MAZERET)

14 MAYIS 2016 Saat: 11.20

Adı ve Soyadı :
Sınıfı :
Öğrenci Numarası :

SORU SAYISI : 20
SINAV SÜRESİ : 40 Dakika

ÖĞRENCİLERİN DİKKATİNE!

1. Sınıf öğrenci yoklama listesinde belirtilen sınıfta ve sıra numarasında oturunuz.
2. Cevap kâğıdındaki kimlik bilgilerinin doğruluğunu kontrol ediniz.
3. Kitapçık türünü cevap kâğıdındaki ilgili alana kodlayınız.
4. Cevap kâğıdı üzerindeki kodlamaları kurşun kalemle yapınız.

SINAV BAŞLAMADAN ÖNCE
KİTAPÇIĞIN ARKA KAPAĞINDAKİ UYARILARI MUTLAKA OKUYUNUZ.

DİN KÜLTÜRÜ VE AHLAK BİLGİSİ

1. Bu testte 20 soru vardır.
2. Cevaplarınızı, cevap kâğıdına işaretleyiniz.

1. • Çalışarak kazanmak yerine tembelliği ve hileyi teşvik eder.
• Ruh sağlığını bozar ve zaman israfına neden olur.
• Aileleri ekonomik sıkıntıya düşürür.

Bu bilgiler aşağıdaki sorulardan hangisine cevap oluşturur?

- A) Kumarın zararları nelerdir?
- B) Taassubun sonuçları nelerdir?
- C) Kötü alışkanlıklardan korunma yolları nelerdir?
- D) Kötü alışkanlıklara başlama sebepleri nelerdir?

2. Hz. Muhammed (sav.); selamlaşmak, davet edildiğinde katılmak, öğüt isteyeneye öğüt vermek, aksırana "Allah sağlık ve afiyet versin" demek, hastayı ziyaret etmek ve cenazeye katılmak gibi davranışların, Müslüman'ın Müslüman'a karşı görevleri arasında olduğunu bildirmiştir.

Hz. Muhammed (sav.) bu öğütleri ile Müslümanlar arasında aşağıdaki davranışlardan hangisini yerleştirmeyi amaçlamıştır?

- A) İlmi yaygınlaştırmayı
- B) Maddi yardımı artırmayı
- C) Doğaya karşı duyarlı olmayı
- D) Dayanışma bilincini geliştirmeyi

3. Sınıftan bir miktar paranın kaybolduğunu duyan İhsan bu paranın nasıl bulunabileceğini düşünürken teneffüste bir arkadaşının diğer öğrencilere bir şeyler ısmarladığını görür ve hemen öğretmenine koşarak kaybolan paradan bu arkadaşının sorumlu olabileceğini söyler. Öğretmen de İhsan'a İslam'ın aceleci davranmamayı tavsiye ettiğini ve yanılıyor olabileceğini belirterek bir ayeti hatırlatır.

Buna göre öğretmenin hatırlattığı ayet aşağıdakilerden hangisi olabilir?

- A) "Ey iman edenler! Yapmayacağınız şeyleri niçin söylüyorsunuz?"
(Sâff suresi, 2. ayet)
- B) "Çirkin bir iş işledikleri vakit 'Biz atalarımızdan böyle gördük ve bize bunu Allah emretti' derler..."
(A'râf suresi, 28. ayet)
- C) "Hakkında kesin bilgi sahibi olmadığın şeyin peşine düşme. Çünkü kulak, göz ve kalp bunların hepsi ondan sorumludur."
(İsrâ suresi, 36. ayet)
- D) "Bunlara, 'Yeryüzünde fesat çıkarmayın' denildiğinde 'Biz ancak ıslah edicileriz' derler."
(Bakara suresi, 11. ayet)

- 4.

	Zekât Verilecek Mallar	Oranlar
I.	Siğir ve manda	1/5
II.	Toprak ürünleri	1/10
III.	Altın, gümüş	1/30
IV.	Koyun ve keçi	1/40

Tabloda zekât verilen mallar ve oranları ile ilgili numaralanmış bilgilerden hangileri doğrudur?

- A) I ve III.
- B) I ve IV.
- C) II ve III.
- D) II ve IV.

5. Hz. Muhammed (sav.) Miraç'ta yaşadıklarını amcasının kızına anlattı. O da bu olanları halka anlatmamasını yoksa onların kendisine inanmayıp, zorluklar çıkaracaklarını söyledi. Fakat Peygamberimiz bu durumu ne olursa olsun saklamayacağını, insanlara duyuracağını belirtti.

Bu olaydan Hz. Muhammed'in (sav.) aşağıdaki özelliklerinden hangisine ulaşamaz?

- A) Doğruluk
B) Merhamet
C) Kararlılık
D) Cesaret

6. Peygamberliğinin başlangıcından itibaren ilme önem veren Hz. Muhammed (sav.), Hicret'ten sonra Medine'de bir mescit yaptırmış ve burada ilim için Suffe adı verilen bir bölüm ayırmıştır. Böylece gençlerin ilimle meşgul olmasını sağlamış ve onlara özel bir kıymet vermiştir.

Bu metinde Hz. Muhammed (sav.) ile ilgili aşağıdakilerden hangisine ulaşamaz?

- A) Mescidi hem ibadet hem de ilim yeri olarak kullanmıştır.
B) İlimi ve ilimle uğraşanları önemsemiştir.
C) İlim öğretmeye Suffe ile başlamıştır.
D) Gençlerin ilim öğrenmesi için imkânlar oluşturmuştur.

7. Hz. Muhammed (sav.) karar alırken pek çok konuda insanlara fikirlerini sorar, onların görüşlerini alırdı.

Hz. Muhammed (sav.) bu şekilde davranmakla aşağıdakilerden hangisini amaçlamış olamaz?

- A) Sorumluluktan kaçınmayı
B) Hata yapma ihtimalini azaltmayı
C) Konulara farklı bakış açıları kazandırmayı
D) Birlikte hareket etme bilinci kazandırmayı

- 8.

Hz. Muhammed'in (sav.)	
Davranışları	Hadisleri
<ul style="list-style-type: none"> • İnsanların fikirlerine başvurması • Sabırlı ve kararlı olması • Merhametli ve hoşgörülü olması 	I. Güneş'i sağ elime Ay'ı sol elime koysalar yine de yolumdan dönmem.
	II. Yetimi sevindirmek kalbi yumuşatır.
	III. Güçsüzün incindiği ve hakkını alamadığı bir toplum yücelemez.
	IV. Bir millet işlerini danışma ile yürüttüğü sürece sıkıntıya düşmez.

Tabloda verilen davranışlar ile numaralanmış hadisler eşleştirildiğinde hangi hadis dışarıda kalır?

- A) I. B) II. C) III. D) IV.

9.

	Kâbe'de Yapılan İbadetler	Arafat'ta Yapılan İbadetler
I.	Vakfe	Sa'y
II.	Tavaf	Kurban
III.	Vakfe	Şeytan Taşlama
IV.	Tavaf	Vakfe

Bu tabloya göre hem Kâbe'de hem Arafat'ta yapılan ibadetler numaralanmış satırların hangisinde doğru verilmiştir?

- A) I. B) II. C) III. D) IV.

- 10.** İki kişinin arasını bulup barıştırmak sadakadır. Bir kişiye bineğine binmesinde veya eşyasını taşımasında yardım etmek sadakadır. Güzel söz sadakadır. Namaza gitmek için atılan her adım sadakadır. Yoldaki rahatsızlık veren şeyleri kaldırmak da bir sadakadır.

Bu hadisten çıkarılacak en kapsamlı sonuç aşağıdakilerden hangisidir?

- A) Namazlar cemaatle kılınmalıdır.
 B) Her güzel davranış sadaka hükmündedir.
 C) İnsanlara güzel sözlerle hitap edilmelidir.
 D) Yaşlılara yardım etmek sadaka kapsamına girer.

- 11.** Zekâti verilen mal budanan ağaç gibidir. Budandıkça daha da gürleşir ve fazla meyve verir.

Bu açıklama aşağıdaki ayetlerden hangisi ile doğrudan ilişkilidir?

- A) “Eğer sadakaları (zekât ve benzeri hayırları) açıktan verirsiniz ne güzel! Eğer onu fakirlere gizlice verirsiniz, işte bu sizin için daha hayırlıdır...”
 (Bakara suresi, 271. ayet)
- B) “...De ki: Harcadığınız her şey; ana baba, yakınlar, öksüzler, yoksullar ve yolda kalmışlar içindir. Allah yapacağınız her hayrı (iyiliği) bilir.”
 (Bakara suresi, 215. ayet)
- C) “Mallar ve evlatlar dünya hayatının süsüdür; ölümsüz olan iyi işler ise Rabb'inin katında hem sevapça daha hayırlı hem de ümit bağlamaya daha lâyıktır.”
 (Kehf suresi, 46. ayet)
- D) “Mallarını Allah yolunda harcayanların durumu, her başağında yüz dane olmak üzere, yedi başak veren danenin durumu gibidir. Allah dilediğine kat kat verir. Allah'ın lütfü geniştir. (O) bilendir.”
 (Bakara suresi, 261. ayet)

- 12.** Taassup ile ilgili aşağıdaki bilgilerden hangisi yanlıştır?

- A) Yenilikleri daha kolay kabullenmeye yol açar.
 B) İnsanlar arasındaki sevgiyi ve hoşgörüyü engeller.
 C) Farklı inanç ve görüşlere tahammülsüzlük doğurur.
 D) Kişiyi araştırma yapmaktan ve kendini geliştirmekten uzaklaştırır.

13. (I) Hac yılın belirli günlerinde dinimizce önemli sayılan Kâbe ve çevresindeki yerlerin ibadet niyetiyle ziyaret edilmesidir. (II) Sağlığı yerinde ve maddi imkânları uygun olan her Müslümanın ömründe bir kez hacca gitmesi farzdır. (III) Hac ibadeti bireyin ahlakî duyarlılığını geliştirmenin yanı sıra Müslümanların kaynaşmasını da sağlar. (IV) Bu ibadeti hakkıyla yerine getirenin günahlarının affolunacağı bildirilmiştir.

Bu metinde numaralanmış cümlelerin hangisinde haccın birey ve toplum üzerindeki etkisi birlikte vurgulanmıştır?

- A) I. B) II. C) III. D) IV.

14. 8. sınıf öğrencisi Eylül, arkadaşı Meryem'in masayı karaladığını görünce, onu uyarmak istedi. Fakat "Arkadaşıma uyarıda bulunursam belki bana kızar, benimle bir daha konuşmak istemez; en iyisi aramızı bozmayalım. Ne yaparsa yapsın." diyerek uyarmaktan vazgeçti.

Eylül'ün bu davranışı aşağıdaki ayetlerden hangisinin mesajı ile çelişir?

- A) "Onlar... iyiliği emreder, kötülükten alıkoyarlar. Hayırlı işlere koşuşurlar..."
(Âl-i İmrân suresi, 114. ayet)
- B) "Onlar gayba inanırlar, namaz kılarlar, kendilerine verdiğimiz mallardan Allah yolunda harcarlar."
(Bakara suresi, 3. ayet)
- C) "Rabbin dileyeydi yeryüzünde bulunanların hepsi inanırdı..."
(Yûnus suresi, 99. ayet)
- D) "Mallarınız ve çocuklarınız ancak bir imtihandır; Allah katında ise büyük bir mükâfat vardır."
(Teğâbun suresi, 15. ayet)

15. I. İhrama girmek
II. Vakfe yapmak
III. Şeytan taşlamak
IV. Tavaf yapmak

Bu ibadetlerden hangileri umrenin şartlarından değildir?

- A) I ve III. B) I ve IV.
C) II ve III. D) II ve IV.

16. Hz. Muhammed (sav.) Mekke'yi fethettiğinde kendisine zulmetmiş olan Mekkelilere şöyle seslenmiştir: "Ben size Yusuf'un (as.) kardeşlerine söylediklerini tekrarlıyorum. Bugün size kinama yoktur. Allah sizi bağışlasın. Çünkü O, merhametlilerin en merhametlisidir."

Bu metinde Hz. Muhammed (sav.) ve Hz. Yusuf'un (as.) aşağıdaki ortak özelliklerinden hangisi vurgulanmıştır?

- A) İffete önem verme
B) Merhametli ve affedici olma
C) Verdikleri sözü yerine getirme
D) Aile büyüklerine saygılı davranma

17. Hz. Muhammed (sav.) vefatından kısa bir süre önce arkadaşlarını toplayarak onlara “Şayet birinize karşı bir hatam varsa, kimi incittiysem, kimin malına veya canına herhangi bir biçimde zararım dokunmuşsa gelsin benden hakkını alsın.” demişti.

Hz. Muhammed (sav.) bu davranışı ile hangi ahlakî değere verdiği önemi göstermiştir?

- A) Affedicilik
B) Hoşgörü
C) Cesaret
D) Hakkı gözetmek

18. “Allah’tan başka ilah yoktur. O, daima diridir (hayy), bütün varlığın idaresini yürütendir (kayyum). O’nu ne uyuklama tutar ne de uyku. Göklerde ve yerdekilerin hepsi O’nundur. İzni olmadan katında şefaata edebilecek olan kimdir? O, kullarının yaptıklarını ve yapacaklarını bilir. İnsanlar ise O’nun bildirdiklerinin dışında ilminden hiçbir şeyi tam olarak kavrayamazlar. O’nun sonsuz kudreti (kürsüsü) gökleri ve yeri kuşatmıştır. Onları koruyup gözetmek O’na zor gelmez. O yücedir, büyüktür.”

(Bakara suresi, 255. ayet)

Bu ayetten Allah ile ilgili aşağıdaki bilgilerden hangisine ulaşılamaz?

- A) İyilikleri asla karşılıksız bırakmaz.
B) Evreni yönetmekten aciz değildir.
C) Eşi ve benzeri yoktur.
D) İlmine sınır getirilemez.

19. Aşağıdaki ibadetlerin hangisinin yapılışında zaman ve miktar şartı aranmaz?

- A) Zekât
B) Hac
C) Fitre
D) Sadaka

20. Yavuz Öğretmen öğrencilerinden Allah’ın yasakladığı kötü alışkanlıkların sonuçlarına örnekler vermelerini istemiştir.

Buna göre hangi öğrencinin verdiği örnek yanlıştır?

- A) Uyuşturucu, insanın sağlıklı karar vermesini engeller.



Reyhan

- B) Kendini kanıtlama isteği kötü alışkanlıklar edinmede etkilidir.



Meryem

- C) Trafik kazalarında alkolün etkisi büyüktür.



İbrahim

- D) Sigara içmek sağlık sorunlarına yol açar.



Harun

SINAV BAŞLAMADAN AŞAĞIDAKİ UYARILARI MUTLAKA OKUYUNUZ

1. Öğrenciler, sınav kurallarına ve salon görevlilerinin tüm uyarılarına uymak zorundadırlar.
2. Cevap kâğıdındaki kimlik bilgilerinin doğruluğunu kontrol ediniz. Bilgiler size ait değilse veya cevap kâğıdı kullanılmayacak durumdaysa sınav görevlilerine bildirin.
3. Sınav başladıktan sonra öğrencilerin salon görevlileri ve birbirleri ile konuşmaları, kalem, silgi vb. şeyleri istemeleri yasaktır.
4. Değiştirmek istediğiniz bir cevabı, yumuşak silgiyle cevap kâğıdını yıpratmadan temizce siliniz ve yeni cevabınızı kodlayınız.
5. Cevap kâğıdınızı silinmeyen bir kalemle imzalayınız.
6. Cevaplarınızı, cevap kâğıdındaki ilgili soru numarasını dikkate alarak yuvarlağın dışına taşırmadan kodlayınız.
7. Soru kitapçığının sayfalarını kontrol ediniz, baskı hatası var ise değiştirilmesini sağlayınız.
8. Soru kitapçığı üzerinde yapılp cevap kâğıdına işaretlenmeyen cevaplar değerlendirmeye alınmayacaktır.
9. Soru kitapçığının içindeki boş alanları çözümlerinizi için kullanabilirsiniz.
10. Cevaplamaya istediğiniz sorudan başlayabilirsiniz.
11. Cevabını bilmediğiniz sorular üzerinde fazla zaman kaybetmeden diğer sorulara geçiniz. Zamanınız kalırsa bu sorulara daha sonra dönebilirsiniz.
12. Sınav puanınızın hesaplanmasında sadece doğru cevaplarınız dikkate alınacaktır.
13. Sınav bitiminde, soru kitapçığı ve cevap kâğıdını salon görevlilerine teslim ediniz.
14. Sınav sırasında sözlük, hesap makinesi, saat fonksiyonu dışında özellikleri bulunan saat veya çağrı cihazı, cep telefonu, telsiz, radyo ve bilgisayar özelliği bulunan elektronik cihazları yanınızda bulundurmanız halinde sınavınız geçersiz sayılacaktır.
15. Cevap kâğıdınızı sınav süresince hiçbir öğrencinin göremeyeceği şekilde önünüzde bulundurunuz.
16. Sınavınızın değerlendirilmesi aşamasında, toplu kopya tespiti veya başka adayın sınav evrakını kullanmanız durumunda sınavınız geçersiz sayılacaktır.
17. Soruları ve sorulara verdiğiniz cevapları kaydetmeyiniz, hiçbir şekilde dışarı çıkarmayınız.
18. Sınav süresince dışarı çıkılmayacaktır.
19. Sınav evraklarını teslim etmeyenlerin sınavı geçersiz sayılacaktır.

SINAV GÖREVLİLERİNCE SINAV BAŞLAMADAN ÖNCE ÖĞRENCİLERE YAPILACAK SON UYARI

- Soracağınız bir şey var mı? Varsa, şimdi sorunuz.
- Sınav başladıktan sonra sorularınıza cevap verilmeyecektir.
- Başlama zilini bekleyiniz.

Hepinize başarılar dileriz.

(Sınav görevlisi başlama ve bitiş saatini tahtaya yazacaktır.)

Bu kitapçığın her hakkı saklıdır. Hangi amaçla olursa olsun, kitapçığın tamamının veya bir kısmının Millî Eğitim Bakanlığı Ölçme, Değerlendirme ve Sınav Hizmetleri Genel Müdürlüğü'nün yazılı izni olmadan kopya edilmesi, fotoğraflarının çekilmesi, bilgisayar ortamına alınması, herhangi bir yolla çoğaltılması, yayımlanması veya başka bir amaçla kullanılması yasaktır. Bu yasağa uymayanlar, doğabilecek cezai sorumluluğu ve kitapçığın hazırlanmasındaki mali külfeti peşinen kabullenmiş sayılır.

**14 MAYIS 2016 TARİHİNDE YAPILAN 8. SINIF 2. DÖNEM
DİN KÜLTÜRÜ VE AHLAK BİLGİSİ DERSİ MERKEZİ ORTAK (MAZERET) SINAVI
“A” KİTAPÇIĞI CEVAP ANAHTARI**

DİN KÜLTÜRÜ VE AHLAK BİLGİSİ

1. A
2. D
3. C
4. D
5. B
6. C
7. A
8. C
9. D
10. B
11. D
12. A
13. C
14. A
15. C
16. B
17. D
18. A
19. D
20. B



A
KİTAPÇIK TÜRÜ

T.C.
MİLLÎ EĞİTİM BAKANLIĞI
ÖLÇME, DEĞERLENDİRME VE SINAV HİZMETLERİ GENEL MÜDÜRLÜĞÜ

8. SINIF 1. DÖNEM
FEN VE TEKNOLOJİ DERSİ
MERKEZİ ORTAK (MAZERET) SINAVI
13 ARALIK 2015 Saat: 09.00

Adı ve Soyadı :
Sınıfı :
Öğrenci Numarası :

SORU SAYISI : 20
SINAV SÜRESİ : 40 Dakika

ÖĞRENCİLERİN DİKKATİNE!

1. Sınıf öğrenci yoklama listesinde belirtilen sınıfta ve sıra numarasında oturunuz.
2. Cevap kâğıdındaki kimlik bilgilerinin doğruluğunu kontrol ediniz.
3. Kitapçık türünü cevap kâğıdındaki ilgili alana kodlayınız.
4. Cevap kâğıdı üzerindeki kodlamaları kurşun kalemle yapınız.

SINAV BAŞLAMADAN ÖNCE
KİTAPÇIĞIN ARKA KAPAĞINDAKİ UYARILARI MUTLAKA OKUYUNUZ.

FEN VE TEKNOLOJİ

1. Bu testte 20 soru vardır.
2. Cevaplarınızı, cevap kâğıdına işaretleyiniz.

1. Mitoz bölünmeyle gerçekleşen bazı olaylar aşağıda verilmiştir:
 - I. Kertenkelenin kopan kuyruğunu onarması
 - II. Civcivin tavuk haline gelmesi
 - III. Söğüt dalının toprağa dikilerek yeni bir bitki oluşturması

Bu olaylar ile ilgili olarak aşağıda yapılan eşleştirmelerden hangisi doğrudur?

	I	II	III
A) Üreme	Büyüme ve gelişme	Yenilenme	Üreme
B) Yenilenme	Büyüme ve gelişme	Üreme	Üreme
C) Büyüme ve gelişme	Yenilenme	Üreme	Üreme
D) Yenilenme	Üreme	Büyüme ve gelişme	Büyüme ve gelişme

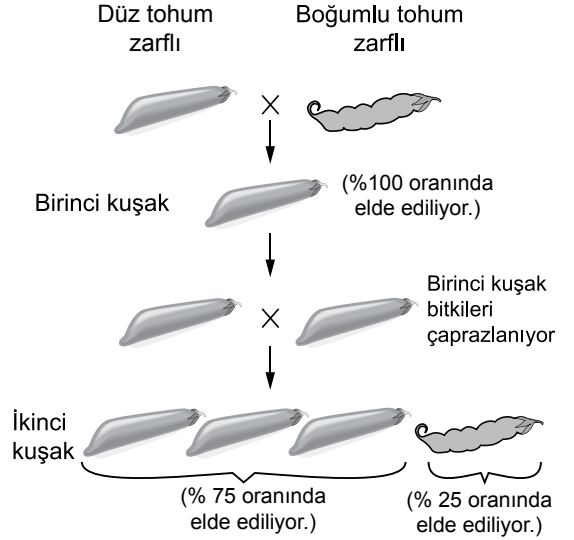
2. **Akraba evliliği ile genetik hastalık ilişkisi hakkında;**

- I. Akrabaların genetik yapısının benzerliği kalıtsal hastalıkların görülme olasılığını artırabilir.
- II. Akraba evliliklerinde, hastalığa neden olan çekinik genlerin yavrularda bir araya gelme olasılığı artar.
- III. Akraba evliliğinde, çekinik bir genetik hastalık bakımından hem anne hem de baba melez ise çocukların hepsi hasta olur.

şeklindeki ifadelerden hangileri doğrudur?

- | | |
|--------------|-----------------|
| A) I ve II | B) I ve III |
| C) II ve III | D) I, II ve III |

3. Bir araştırmacı deneylerinde düz tohum zarflı ve boğumlu tohum zarflı bezelyelerle aşağıdaki çaprazlamaları yapıyor.



Araştırmacı aşağıdakilerden hangisine

1. **çaprazlama sonucunda değil, sadece**
2. **çaprazlama sonucunda ulaşabilir?**

- A) Melez bireylerde baskın özelliğin fenotipte etkisini gösterdiğine
- B) Baskın özelliğin sadece arı döl halde kendini gösterdiğine
- C) Boğumlu tohum zarfına sahip olan bezelyelerin bu özellik bakımından büyük olasılıkla homozigot çekinik olduğuna
- D) Melez dölde çekinik özellikten sorumlu genin korunarak bir sonraki kuşağa aktarılacağına

4.

Annem: Kulak memesi ayrıık, siyah saçlı
Babam: Kulak memesi ayrıık, sarı saçlı
Ben ise kulak memesi yapışık ve sarı saçlıyım.

Annem: Kulak memesi yapışık, siyah saçlı
Babam: Kulak memesi yapışık, siyah saçlı
Ben ise kulak memesi yapışık ve sarı saçlıyım.



Hakan



Demet

Hakan ve Demet arasında yukarıdaki gibi bir konuşma gerçekleşmiştir. Verdikleri bilgilere göre aşağıdakilerden hangisi çıkarılamaz?

- A) Çocukların kulak memesinin yapışık olmasında hem anne hem de baba etkilidir.
- B) Ayrıık kulak memesi özelliđi, yapışık kulak memesi özelliđine baskındır.
- C) Çocukların saç rengi, anne ve babasından farklı olabilir.
- D) Sarı saç özelliđi, siyah saç özelliđine baskındır.

5.

Aynı bölgede yaşıyan bir arı türünün bir bireyinin ilkbaharda bıraktığı yumurtalardan turuncu ve kahverengi, yaz sonunda bıraktığı yumurtalardan ise siyah ve beyaz renkli bireyler gelişmektedir.

Bu durumla ilgili olarak aşağıda verilen açıklamalardan hangisi doğrudur?

- A) Renkteki bu farklılık, ortam şartlarının etkisiyle ortaya çıkar.
- B) Renk deđişimiyle birlikte, mutasyon oranında artış görülür.
- C) Arıların tümü mevsimsel olarak mutasyon geçirmektedir.
- D) Bu durum mutasyon sonucu ortaya çıkar ve kalıtsaldır.

6.

Yapılan bir çalışmada tuza dayanıklılık geni aktarılmış domates bitkisinin normal ve tuzlu topraklarda gelişim gösterebildiđi, bu genin aktarılmadığı domates bitkisinin ise yalnızca normal topraklarda geliştiđi gözlenmiştir.

Yapılan bu çalışmaya göre;

- I. Gen aktarımı yapılan domates bitkisinin yayılış alanı genişletilebilir.
- II. Gen aktarımı yapılmayan domates bitkisinin yalnızca çok tuzlu topraklarda gelişmesi beklenir.
- III. Tuza dayanıklılık geni aktarılmış domates bitkisinin yalnızca çok tuzlu topraklarda gelişmesi beklenir.

yorumlarından hangilerine ulaşılabilir?

- A) Yalnız I
- B) I ve II
- C) I ve III
- D) II ve III

7.

Aşağıda biyoteknoloji alanında yapılan çalışmalardan örnekler verilmiştir.

- Mikroorganizmalara ve böceklerle karşı dirençli olan bitkilerin üretilmesi
- Bazı hastalıkların tedavisi için ilaçların geliştirilmesi
- Gıda olarak kullanılan bazı bitkilerin genetik yapısının deđiştirilmesi
- Böcek öldürücü ilaçların, deterjan, parfüm gibi kimyasal maddelerin üretilmesi
- Besin, vitamin, protein tabletlerinin üretilmesi

Bu örneklerden aşağıdaki yargıların hangisine ulaşılabilir?

- A) Biyoteknoloji ile endüstride yeni ürünler geliştirilebilir.
- B) Biyoteknoloji ile her zaman sağlıklı gıdalar üretilir.
- C) Biyoteknoloji, tarımsal mücadelede kullanılabilir.
- D) Biyoteknoloji, eczacılıkta kullanılabilir.

8. Sarı raptiye
Adenin
- Kırmızı raptiye
Guanin
- Mavi raptiye
Timin
- Yeşil raptiye
Sitozin
- Ataş
Fosfat grubu
- Beyaz boncuk
Deoksiriboz şekeri

Mehmet, yukarıdaki malzemelerden bir DNA çift sarmal modeli yapmıştır. Bu modeldeki sarı raptiye sayısı 50, yeşil raptiye sayısı 30'dur.

Mehmet'in yaptığı bu DNA modeli ile ilgili olarak aşağıdaki ifadelerden hangisi yanlıştır?

- A) Kullanılan beyaz boncuk sayısı kadar atas kullanılmıştır.
- B) Kullanılan raptiye sayısı kadar beyaz boncuk kullanılmıştır.
- C) Kullanılan mavi ve kırmızı raptiye sayısı eşittir.
- D) Kullanılan atas sayısı, kullanılan raptiye sayısına eşittir.

9. Öğrenciler hayvanat bahçesini gezerken develer Ahmet'in dikkatini çeker. Bu konuda Ahmet ile öğretmeni arasında aşağıdaki konuşma geçmiştir.

Ahmet : Develerin sırtları neden şişkin?
Öğretmen : O kısma hörgüç denir ve içerisinde yağ depolanır. Bu şekilde çöl ortamında susuzluğa uzun süre dayanabilirler.

Ahmet : Neden uzun kirpikleri var?
Öğretmen : Çöl ortamındaki fırtınalardan daha az etkilenmek için.

Ahmet : Ayakları neden çok geniş ve büyük?
Öğretmen : Kum üzerinde batmadan daha rahat yürüyebilmeleri için.

Bu konuşma aşağıdakilerden hangisini açıklamaya yöneliktir?

- A) Adaptasyon
B) Eşsiz üreme
C) Modifikasyon
D) Mutasyon

10. Öğrenciler, kutupta yaşamaya uyum sağlamış kutup ayısı ve kutup tilkisinin özelliklerini;

- Kürkleri beyazdır.
- Yağ dokuları, sıcak bölgelerde yaşayan akrabalarına göre daha kalındır.
- Sıcak bölgelerde yaşayan akrabalarına göre küçük burunlu ve kısa kulaklıdır.

şeklinde kaydetmişlerdir.

Öğrenciler bu bilgilerden aşağıdakilerin hangisine ulaşabilir?

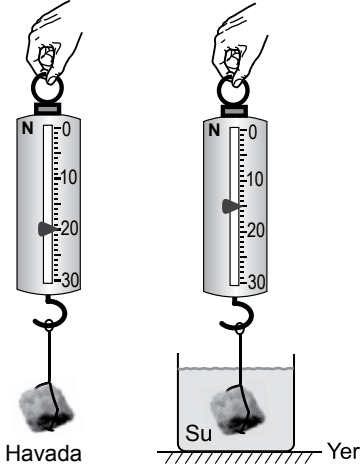
- A) Kutup bölgelerinde sadece beyaz renkli canlıların yaşadığına
- B) Kutuplarda canlıların çevre etkisiyle modifikasyon geçirdiğine
- C) Aynı ortamda bulunan canlıların, benzer adaptasyonlar gösterebildiğine
- D) Canlıların beyaz renkli olması için sürekli mutasyon geçirdiğine

11. Bir insanın güneşte ten renginin koyulaşması modifikasyona örnek verilebilir. Bir bireyde bu şekilde oluşan koyu ten rengi, çocuklarına aktarılamaz.

Bu durumun nedeni aşağıdakilerden hangisidir?

- A) Kazanılan bu özellik, kalıtsal olup bireyin farklı ortamlarda yaşama ve üreme şansını artırması
- B) Güneş ışınlarının bireyin üreme hücrelerinde kalıtsal değişime yol açması
- C) Çevre etkisiyle sadece dış görünüşte bir değişiklik meydana gelmiş olup, genlerde kalıtsal bir değişiklik olmaması
- D) Ten renginin koyulaşmasının genetik yapının tamamen değişimine yol açması

12. Zeynep, bir taş parçasını önce havada sonra suda dinamometre ile aşağıdaki gibi tartıyor.



Buna göre taşın havadaki ve sudaki ölçülen ağırlıkları kaç N'dur?

	Havada ölçülen	Suda ölçülen
A)	5	15
B)	15	20
C)	20	5
D)	20	15

13. Bir öğrenci, farklı dört cisim havada ve suda dinamometre kullanarak tartıp aşağıdaki tabloyu oluşturuyor.


Cismin havadaki ölçümü	Cismin sudaki ölçümü
6 N	-- II --
10 N	6 N
-- I --	6 N
12 N	8 N

Buna göre tablodaki tüm bilgilerin doğru olması için boş bırakılan I ve II yerine aşağıdakilerin hangisinde verilenler yazılmalıdır?

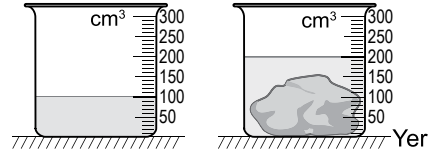
I	II
A) 10 N	8 N
B) 8 N	4 N
C) 5 N	4 N
D) 4 N	8 N

14. Mehmet, şekli düzgün olmayan bir taşın yoğunluğunu hesaplamak için aşağıdaki işlemleri yapıyor.

I. işlem: Eşit kollu terazi ile taşın kütlesini şekildeki gibi ölçer.



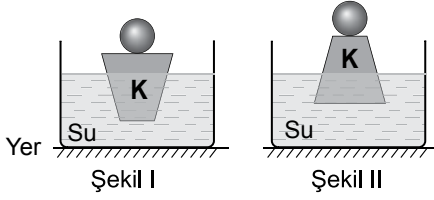
II. işlem: İçinde su bulunan dereceli silindir ile taşın hacmini şekildeki gibi ölçer.



Mehmet bu işlemler sonucunda taşın yoğunluğunu kaç g/cm³ bulur?

- A) 1,25 B) 2 C) 2,5 D) 4,5

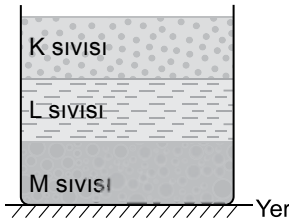
15. K cismi ve üzerine konulan demir bilye şekil I'deki gibi su dolu bir kabın içinde dengededir.



K cismi, şekil II'deki gibi ters çevrilip aynı bilye üzerine konulduğunda cisme uygulanan kaldırma kuvveti ve cismin batan kısmının hacmi öncekine göre nasıl değişir?

Kaldırma kuvveti	Batan kısmın hacmi
A) Değişmez	Değişmez
B) Artar	Azalır
C) Değişmez	Artar
D) Azalır	Değişmez

16. Birbirine karışmayan K, L, M sıvılarını bir kaba koyduğumuzda şekildeki gibi denge durumu gözleniyor.

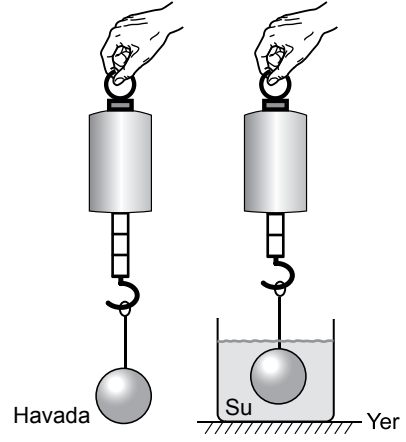


Havadaki ağırlığı dinamometre ile 40 N olarak ölçülen bilye, bu sıvıların ayrı ayrı bulunduğu kaplara, tabana değmeden hacminin tamamı batacak şekilde daldırılıyor.

Dinamometreden ölçülen değerler aşağıdakilerden hangisi olabilir?

	K sıvısında okunan değer (N)	L sıvısında okunan değer (N)	M sıvısında okunan değer (N)
A)	34	38	48
B)	36	34	32
C)	42	38	34
D)	32	34	36

17. Bir cisim önce havada sonra suya daldırılarak dinamometre ile şekildeki gibi tartılıyor.



Yalnızca bu iki ölçüm sonucunu kullanarak;

- Cismin su içinde ölçülen ağırlığı, havada ölçülen ağırlığından azdır.
- Suyun cisme uyguladığı kaldırma kuvveti, cisme aşağı yönde etki eden kuvvetin etkisini azaltır.
- Su, cisme yukarı yönde kaldırma kuvveti uygular.

yargılarından hangilerine kesinlikle ulaşılabilir?

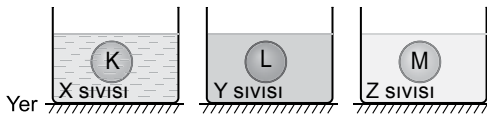
- A) Yalnız I
B) I ve III
C) II ve III
D) I, II ve III

18. Yasemin, turşu suyu hazırlamak için tabanında yumurta bulunan su dolu kaba yavaş yavaş tuz eklemektedir. Yumurta önce askıda kalıp sonra yüzer konuma geçiyor.

Buna göre yumurtanın yüzer konuma geçmesini açıklayan yargı aşağıdakilerden hangisidir?

- A) Turşu suyunun yoğunluğundaki artış, yumurtaya etki eden kaldırma kuvvetini arttırmıştır.
B) Suyun cisimleri batırma, tuzun ise yukarı çıkarma özelliği vardır.
C) Suya tuz ekledikçe yumurtaya etki eden kaldırma kuvveti azalmıştır.
D) Turşu suyunun yoğunluğu arttıkça yumurta kütlece hafiflemiştir.

19. Yoğunlukları sırasıyla d_x , d_y ve d_z olan X, Y ve Z sıvıları içinde çözünmeyen eşit hacimli K, L ve M cisimleri şekillerdeki gibi dengededir.

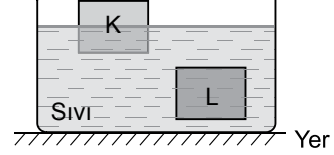


$d_x < d_y < d_z$ sıralaması dikkate alındığında, aşağıdaki denge konumlarından hangisi gerçekleşmez?

- A) B)
C) D)

20. Bir cismin sıvı içerisinde askıda kalması veya cismin bir kısmının sıvı içerisinde bir kısmının ise dışarıda kalması denge durumu olarak adlandırılır.

Eşit hacimli K ve L cisimleri şekildeki gibi sıvı içerisinde dengededir.



Buna göre;

- I. K cismine etki eden kaldırma kuvveti, K cisminin ağırlığına eşittir.
II. L cismine etki eden kaldırma kuvveti, L cisminin ağırlığına eşittir.
III. K cismine etki eden kaldırma kuvveti, L cismine etki eden kaldırma kuvvetinden küçüktür.

yargılarından hangileri doğrudur?

- A) I ve II
B) II ve III
C) I ve III
D) I, II ve III

**TEST BİTTİ.
CEVAPLARINIZI KONTROL EDİNİZ.**

SINAV BAŞLAMADAN AŞAĞIDAKİ UYARILARI MUTLAKA OKUYUNUZ

1. Öğrenciler, sınav kurallarına ve salon görevlilerinin tüm uyarılarına uymak zorundadırlar.
2. Cevap kâğıdındaki kimlik bilgilerinin doğruluğunu kontrol ediniz. Bilgiler size ait değilse veya cevap kâğıdı kullanılmayacak durumdaysa sınav görevlilerine bildirin.
3. Sınav başladıktan sonra öğrencilerin salon görevlileri ve birbirleri ile konuşmaları, kalem, silgi vb. şeyleri istemeleri yasaktır.
4. Değiştirmek istediğiniz bir cevabı, yumuşak silgiyle cevap kâğıdını yıpratmadan temizce siliniz ve yeni cevabınızı kodlayınız.
5. Cevap kâğıdınızı silinmeyen bir kalemle imzalayınız.
6. Cevaplarınızı, cevap kâğıdındaki ilgili soru numarasını dikkate alarak yuvarlağın dışına taşırmadan kodlayınız.
7. Soru kitapçığının sayfalarını kontrol ediniz, baskı hatası var ise değiştirilmesini sağlayınız.
8. Soru kitapçığı üzerinde yapıлып cevap kâğıdına işaretlenmeyen cevaplar değerlendirmeye alınmayacaktır.
9. Soru kitapçığının içindeki boş alanları çözümlerinizi için kullanabilirsiniz.
10. Cevaplamaya istediğiniz sorudan başlayabilirsiniz.
11. Cevabını bilmediğiniz sorular üzerinde fazla zaman kaybetmeden diğer sorulara geçiniz. Zamanınız kalırsa bu sorulara daha sonra dönebilirsiniz.
12. Sınav puanınızın hesaplanmasında sadece doğru cevaplarınız dikkate alınacaktır.
13. Sınav bitiminde, soru kitapçığı ve cevap kâğıdını salon görevlilerine teslim ediniz.
14. Sınav sırasında sözlük, hesap makinesi, saat fonksiyonu dışında özellikleri bulunan saat veya çağrı cihazı, cep telefonu, telsiz, radyo ve bilgisayar özelliği bulunan elektronik cihazları yanınızda bulundurmanız halinde sınavınız geçersiz sayılacaktır.
15. Cevap kâğıdınızı sınav süresince hiçbir öğrencinin göremeyeceği şekilde önünüzde bulundurunuz.
16. Sınavınızın değerlendirilmesi aşamasında, toplu kopya tespiti veya başka adayın sınav evrakını kullanmanız durumunda sınavınız geçersiz sayılacaktır.
17. Soruları ve sorulara verdiğiniz cevapları kaydetmeyiniz, hiçbir şekilde dışarı çıkarmayınız.
18. Sınav süresince dışarı çıkılmayacaktır.
19. Sınav evraklarını teslim etmeyenlerin sınavı geçersiz sayılacaktır.

SINAV GÖREVLİLERİNCE SINAV BAŞLAMADAN ÖNCE ÖĞRENCİLERE YAPILACAK SON UYARI

- Soracağınız bir şey var mı? Varsa, şimdi sorunuz.
- Sınav başladıktan sonra sorularınıza cevap verilmeyecektir.
- Başlama zilini bekleyiniz.

Hepinize başarılar dileriz.

(Sınav görevlisi başlama ve bitiş saatini tahtaya yazacaktır.)

Bu kitapçığın her hakkı saklıdır. Hangi amaçla olursa olsun, kitapçığın tamamının veya bir kısmının Millî Eğitim Bakanlığı Ölçme, Değerlendirme ve Sınav Hizmetleri Genel Müdürlüğünün yazılı izni olmadan kopya edilmesi, fotoğraflarının çekilmesi, bilgisayar ortamına alınması, herhangi bir yolla çoğaltılması, yayımlanması veya başka bir amaçla kullanılması yasaktır. Bu yasağa uymayanlar, doğabilecek cezai sorumluluğu ve kitapçığın hazırlanmasındaki mali külfeti peşinen kabullenmiş sayılır.

**13 ARALIK 2015 TARİHİNDE YAPILAN 8. SINIF 1. DÖNEM
FEN VE TEKNOLOJİ DERSİ MERKEZİ ORTAK (MAZERET) SINAVI
“A” KİTAPÇIĞI CEVAP ANAHTARI**

FEN VE TEKNOLOJİ

1. B
2. A
3. D
4. D
5. A
6. A
7. B
8. C
9. A
10. C
11. C
12. D
13. B
14. C
15. A
16. B
17. D
18. A
19. C
20. D



A
KİTAPÇIK TÜRÜ

T.C.
MİLLÎ EĞİTİM BAKANLIĞI
ÖLÇME, DEĞERLENDİRME VE SINAV HİZMETLERİ GENEL MÜDÜRLÜĞÜ

8. SINIF 2. DÖNEM
T.C. İNKILAP TARİHİ VE ATATÜRKÇÜLÜK DERSİ
MERKEZİ ORTAK SINAVI (MAZERET)

15 MAYIS 2016 Saat: 10.10

Adı ve Soyadı :
Sınıfı :
Öğrenci Numarası :

SORU SAYISI : 20
SINAV SÜRESİ : 40 Dakika

ÖĞRENCİLERİN DİKKATİNE!

1. Sınıf öğrenci yoklama listesinde belirtilen sınıfta ve sıra numarasında oturunuz.
2. Cevap kâğıdındaki kimlik bilgilerinin doğruluğunu kontrol ediniz.
3. Kitapçık türünü cevap kâğıdındaki ilgili alana kodlayınız.
4. Cevap kâğıdı üzerindeki kodlamaları kurşun kalemle yapınız.

SINAV BAŞLAMADAN ÖNCE
KİTAPÇIĞIN ARKA KAPAĞINDAKİ UYARILARI MUTLAKA OKUYUNUZ.

T.C. İNKILAP TARİHİ VE ATATÜRKÇÜLÜK

1. Bu testte 20 soru vardır.
2. Cevaplarınızı, cevap kâğıdına işaretleyiniz.

1. Mustafa Kemal, Sofya'da Osmanlı elçiliğinde görevli iken I. Dünya Savaşı ile ilgili gelişmeleri takip ediyor, Osmanlı Devleti'nin savaşa girmemesi gerektiğini ve savaşın başlangıcında Almanya'nın yenileceğini çevresindekilere söylüyordu. Savaş sonuçlandığında Mustafa Kemal bu görüşlerinde haklı çıkmıştı.

Bu metinde Mustafa Kemal'in aşağıdaki kişilik özelliklerinden hangisi vurgulanmaktadır?

- A) Kararlılığı
B) Bütünleştiriciliği
C) İdealistliği
D) İleri görüşlülüğü

2. Mustafa Kemal ile Salih Paşa arasında imzalanan Amasya Protokolü'yle Mebusan Meclisinin toplanması kararlaştırıldı.

Bu karar, Erzurum Kongresi'nin aşağıdaki maddelerinden hangisini gerçekleştirmeye yöneliktir?

- A) Millî Meclisin derhâl toplanması ve hükûmet işlerinin Meclis tarafından denetlenmesi için çalışılacaktır.
B) Azınlıklara siyasi ve sosyal dengeyi bozacak haklar verilemez.
C) Vatanın bağımsızlığını korumayı İstanbul Hükûmeti sağlayamadığı takdirde, geçici bir hükûmet kurulacaktır.
D) Yabancı işgal ve müdahalesine karşı İstanbul Hükûmetinin dağılması hâlinde, millet hep birlikte vatani savunacak ve direnecektir.

3. Kurtuluş Savaşı'nın Güney Cephesi yerel kahramanların başarılarıyla doludur. Asıl adı Mehmet Said olan Antepli Şahin Bey, Fransızların ihtiyaçlarını sağlamaları açısından önem taşıyan Kilis - Antep yolunun kapanması için görev almıştır. O, düşmanı kesin olarak bu yoldan geçirmemek için en son mermiyi atıncaya kadar direnme kararını vererek "Düşman buradan geçerse, ben Antep'e ne yüzle dönerim, düşman ancak benim vücudumun üzerinden geçebilir." demiştir.

Antepli Şahin Bey'in bu sözleri, aşağıdaki kavramların hangisiyle ilişkilendirilebilir?

- A) Adaletlilik
B) Vatanseverlik
C) Millî egemenlik
D) İleri görüşlülük

4. Kuvayimillîye güçleri, Yunanlılarla yaptığı Gediz Muharebesi'ni kaybetmiştir. Bu yenilgi üzerine Mustafa Kemal Paşa "Dalgalı ve düzensiz ve komutasız bazı savaşımlardan sonra bildiğiniz üzere Gediz'de yenildik." demiştir.

Bu sözle Mustafa Kemal Paşa aşağıdakilerden hangisinin gerekliliğine işaret etmiştir?

- A) İstanbul Hükûmeti ile ortak hareket edilmesinin
B) Tekâlifimillîye Emirleri'nin yayımlanmasının
C) Kuvayimillîye birliklerinin güçlendirilmesinin
D) Düzenli ordunun kurulmasının

5. • İlk ve ortaöğretim, kesinlikle insanlığın ve uygarlığın gerektirdiği bilimi ve tekniği vermelidir.
• Çocuklarımız ve gençlerimiz yetiştirilirken millî düşünceleri boğmaya çalışan her karşı fikre şiddetle karşı koyma gereği onlara öğretilmelidir.

Mustafa Kemal bu sözleriyle eğitimin hangi özelliklere sahip olmasını istemektedir?

- A) Çağdaş - Ulusal
B) Laik - Demokratik
C) Eşitlikçi - Yenilikçi
D) Bilimsel - Geleneksel

6. Veriyoruz paşam, ben Nevşehir çarşısından
Gelme bir çarığım, giysin beni piyade.
O giydikçe ısınır toprak, ayaklarım üşümez,
Al benim son çarığımı.

Çıkardım gömleğimi veriyorum,
Kılıç salsın giyende süvariler.
Yaz sıcağında ağustos güneşinin ellerinden
Terlerini alsın.

Bu dizeler, aşağıdakilerden hangisinin uygulanmasıyla ilgilidir?

- A) Takrir-i Sükûn Kanunu'nun
B) Tekâlifimillîye Emirleri'nin
C) Şapka ve kıyafet inkılabının
D) Hıyanet-i Vataniye Kanunu'nun

7. Büyük Taarruz'la İzmir'in kurtarılmasından sonra, İtilaf Devletleri'nden ateşkes teklifi gelmiş ve 11 Ekim 1922 tarihinde de Mudanya Ateşkes Antlaşması imzalanmıştır.

Bu antlaşmaya göre;

- Türkiye ile Yunanistan arasındaki silahlı çatışmalara son verilecek,
- İstanbul ve Boğazlar, TBMM Hükûmeti yönetimine bırakılacak ancak İtilaf Devletleri barış antlaşması imzalanana kadar buralarda kuvvet bulundurmaya devam edeceklerdi.

Bu bilgilerden aşağıdakilerden hangisi çıkarılamaz?

- A) Boğazlar sorunu sona ermiştir.
B) Türk - Yunan savaşı son bulmuştur.
C) Askerî başarı siyasi gelişmelere neden olmuştur.
D) İtilaf Devletleri Ankara Hükûmetini, Türk milletinin temsilcisi olarak görmüştür.

8. Sevr Antlaşması'nın "Azınlıklara geniş haklar verilecektir." kararı, Lozan Antlaşması ile "Ülkede yaşayan tüm azınlıklar Türk vatandaşı kabul edilecektir." şeklinde değiştirilmiştir.

Bu değişiklikle aşağıdaki kazanımlardan hangisinin elde edildiği söylenemez?

- A) İç işlerimize karışılmasının önlenmesi
B) Sevr kararının geçersiz kılınması
C) Toplumsal eşitliğin sağlanması
D) Ülke sınırlarının genişlemesi

9. İzmir İktisat Kongresi'nde alınan kararlardan bazıları şunlardır:
- Ham maddesi yurt içinde yetişen sanayi dalları kurulmalı.
 - Yabancıların kurdukları tekellerden kaçınılmalı.
 - Sanayinin teşviki ve millî bankaların kurulması sağlanmalı.

Bu kararlarla aşağıdakilerden hangisi amaçlanmıştır olamaz?

- A) Ekonomik kalkınmada dış sermaye desteğinin alınması
- B) Kendi öz kaynaklarımızla kalkınmanın sağlanması
- C) Ekonomide dışa bağımlılığın önlenmesi
- D) Millî ekonominin temellerinin atılması

10. "Osmanlı Devleti'nden kalma eğitim kurumları incelendiğinde dinî eğitim veren medreseler, Batı tarzında eğitim veren mektepler ve azınlıklar ile yabancılara ait okullar bir arada bulunmaktaydı. Eğitimdeki bu çok başlılık nedeniyle öğrenciler farklı dünya görüşlerine sahip kişiler olarak yetişiyorlardı."

Bu bilgi aşağıdaki sorulardan hangisinin cevabıdır?

- A) Kabotaj Kanunu'nun millî egemenlik haklarımız açısından önemini açıklayınız?
- B) Medeni Kanun'un çıkarılma gerekçeleri nelerdir?
- C) Tevhid-i Tedrisat Kanunu neden kabul edildi?
- D) Harf inkılabı niçin yapıldı?

11. Türk Medeni Kanunu'nun kabulüyle dinî inancına bakılmaksızın her Türk vatandaşı aynı hukuka tabi oldu.

Bu bilgiye göre Medeni Kanun'la ilgili olarak aşağıdakilerden hangisi söylenemez?

- A) Laik özellik taşımaktadır.
- B) Hukuk birliğini sağlamıştır.
- C) Üstünlük anlayışına göre düzenlenmiştir.
- D) Millî birliğin gerçekleşmesine katkıda bulunmuştur.

12. 13 Şubat 1925'te çıkan Şeyh Sait İsyanı;

- I. Ülke ekonomisinin olumsuz etkilenmesine,
- II. Güvenlik ve asayiş sorunu yaşanmasına,
- III. Takrir-i Sükûn Kanunu'nun çıkarılmasına,
- IV. Musul Meselesi'nin Türkiye aleyhine sonuçlanmasına

neden olmuştur.

Yukarıda numaralanmış sonuçlardan hangileri, isyanın Türk dış politikasını olumsuz etkilediğini göstermektedir?

- A) Yalnız III.
- B) Yalnız IV.
- C) I ve II.
- D) I, III ve IV.

13. 21 Haziran 1934 tarihinde kabul edilen Soyadı Kanunu ile her vatandaşın adından başka bir soyadı taşıması zorunlu kılındı. Soyadları Türkçe olacak ve ahlaka aykırı olmayacak; rütbe, makam, ırk, millet belirten tanımlar içermeyecekti.

Bu bilgiye göre soyadı belirlenirken Atatürk'ün;

- I. Milliyetçilik
- II. Laiklik
- III. Halkçılık
- IV. Devletçilik

ilkelerinden hangilerine göre hareket edildiği söylenebilir?

- A) I ve IV.
- B) II ve III.
- C) I ve III.
- D) II ve IV.

14. Türk kadını 1930'da belediye seçimlerine katılma, 1934'te milletvekili seçme ve seçilme hakkını elde etti. 1935 yılında yapılan milletvekili genel seçimlerinde TBMM'ye 18 kadın milletvekili girdi.

Buna göre;

- I. Kadınlar siyasal haklarına kavuşmuştur.
- II. Kadınlar siyasal haklarını erkeklerden önce elde etmiştir.
- III. Kadınların ülke yönetimine katılımları sağlanmıştır.
- IV. Millî egemenlik ilkesi güçlenmiştir.

yargılarından hangilerine ulaşılabilir?

- A) Yalnız I.
- B) I ve II.
- C) II, III ve IV.
- D) I, III ve IV.

15. Atatürk'ün aşağıdaki sözlerinden hangisi Atatürkçülüğün akılcılık özelliğini vurgulamaktadır?

- A) Dünyada her şey için en hakiki yol gösterici ilimdir, fendir.
- B) Yurt toprağı! Her şey sana feda olsun. Kutlu olan sensin. Hepimiz senin için fedaiyiz.
- C) Biz, millî sınırlarımız içinde özgür ve bağımsız yaşamaktan başka bir şey istemiyoruz.
- D) Millî egemenlik öyle bir nurdur ki, onun karşısında zincirler erir, taç ve tahtlar yanar yok olur.

16. Atatürk'ün milliyetçilik anlayışı birleştirici, kaynaştırıcı ve eşitlikçidir. Toplum içinde sınıf ve zümre ayrımına karşı çıkar. Dil, din, ırk farkı gözetmeksizin vatandaşların eşit haklara sahip olduklarını savunur.

Buna göre Atatürk milliyetçiliği aşağıdakilerden hangisini sağlamaya yöneliktir?

- A) Din birliğini
- B) Millî egemenliği
- C) Üstün millet anlayışını
- D) Millî birlik ve beraberliği

17. Halkçılık ilkesine göre tüm vatandaşlar kanun önünde eşittir. Hiç kimseye, aileye, gruba ayrıcalık tanınmaz.

Buna göre aşağıdakilerden hangisi halkçılık ilkesi ile bağdaşmaz?

- A) Kadınların istediği mesleği seçebilmesi
B) Zorunlu eğitimin herkes için parasız olması
C) "Efendi", "Paşa", "Bey" gibi unvanların kullanılması
D) Tüm vatandaşların devlet hizmetlerinden yararlanabilmesi

18. Devletçilik ilkesi ekonominin yanı sıra sosyal ve kültürel alanlardaki gelişmeleri destekleyerek devlete bu alanda da görevler vermiştir.

Buna göre aşağıdakilerden hangisi devletçilik ilkesi gereği sosyal ve kültürel alanda yapılmış faaliyetlerden biridir?

- A) Etibankın kurulması
B) Devlet tiyatrolarının açılması
C) Gölcük Tersanesinin inşa edilmesi
D) Karabük Demir - Çelik fabrikasının açılması

19. Türk Medeni Kanunu'nun kabul edilmesi laiklik ilkesi doğrultusunda yapılan bir inkılapdır. Bu inkılapla aile ve toplum hayatında kadın ile erkek aynı haklara sahip olmuştur. Dinî kuralların etkili olduğu daha önceki medenî hukukun yerini çağdaş ilkelere dayanan Medeni Kanun almıştır.

Bu bilgiye göre laiklik ilkesinin hukuk sisteminde meydana getirdiği değişim, bu ilkenin aşağıdaki esaslarından hangisiyle ilgili değildir?

- A) Akılcılık
B) Millî egemenlik
C) Eşitlik
D) Bilimsellik

20. Atatürk'ün inkılapçılık anlayışı, zamana göre geri kalmış kurumların kaldırılarak yerine ilerlemeyi ve gelişmeyi kolaylaştıracak kurumların konması esasına dayanır. Dünyadaki gelişmeleri izleyerek daima ileri gitmeyi ön görür.

Buna göre inkılapçılık ilkesi ile aşağıdakilerden hangisi amaçlanmıştır?

- A) Dayanışma
B) Paylaşma
C) Çağdaşlaşma
D) Kaynaştırma

SINAV BAŞLAMADAN AŞAĞIDAKİ UYARILARI MUTLAKA OKUYUNUZ

1. Öğrenciler, sınav kurallarına ve salon görevlilerinin tüm uyarılarına uymak zorundadırlar.
2. Cevap kâğıdındaki kimlik bilgilerinin doğruluğunu kontrol ediniz. Bilgiler size ait değilse veya cevap kâğıdı kullanılmayacak durumdaysa sınav görevlilerine bildirin.
3. Sınav başladıktan sonra öğrencilerin salon görevlileri ve birbirleri ile konuşmaları, kalem, silgi vb. şeyleri istemeleri yasaktır.
4. Değiştirmek istediğiniz bir cevabı, yumuşak silgiyle cevap kâğıdını yıpratmadan temizce siliniz ve yeni cevabınızı kodlayınız.
5. Cevap kâğıdınızı silinmeyen bir kalemle imzalayınız.
6. Cevaplarınızı, cevap kâğıdındaki ilgili soru numarasını dikkate alarak yuvarlağın dışına taşırmadan kodlayınız.
7. Soru kitapçığının sayfalarını kontrol ediniz, baskı hatası var ise değiştirilmesini sağlayınız.
8. Soru kitapçığı üzerinde yapılıp cevap kâğıdına işaretlenmeyen cevaplar değerlendirmeye alınmayacaktır.
9. Soru kitapçığının içindeki boş alanları çözümlerinizi için kullanabilirsiniz.
10. Cevaplamaya istediğiniz sorudan başlayabilirsiniz.
11. Cevabını bilmediğiniz sorular üzerinde fazla zaman kaybetmeden diğer sorulara geçiniz. Zamanınız kalırsa bu sorulara daha sonra dönebilirsiniz.
12. Sınav puanınızın hesaplanmasında sadece doğru cevaplarınız dikkate alınacaktır.
13. Sınav bitiminde, soru kitapçığı ve cevap kâğıdını salon görevlilerine teslim ediniz.
14. Sınav sırasında sözlük, hesap makinesi, saat fonksiyonu dışında özellikleri bulunan saat veya çağrı cihazı, cep telefonu, telsiz, radyo ve bilgisayar özelliği bulunan elektronik cihazları yanınızda bulundurmanız halinde sınavınız geçersiz sayılacaktır.
15. Cevap kâğıdınızı sınav süresince hiçbir öğrencinin göremeyeceği şekilde önünüzde bulundurunuz.
16. Sınavınızın değerlendirilmesi aşamasında, toplu kopya tespiti veya başka adayın sınav evrakını kullanmanız durumunda sınavınız geçersiz sayılacaktır.
17. Soruları ve sorulara verdiğiniz cevapları kaydetmeyiniz, hiçbir şekilde dışarı çıkarmayınız.
18. Sınav süresince dışarı çıkılmayacaktır.
19. Sınav evraklarını teslim etmeyenlerin sınavı geçersiz sayılacaktır.

SINAV GÖREVLİLERİNCE SINAV BAŞLAMADAN ÖNCE ÖĞRENCİLERE YAPILACAK SON UYARI

- Soracağınız bir şey var mı? Varsa, şimdi sorunuz.
- Sınav başladıktan sonra sorularınıza cevap verilmeyecektir.
- Başlama zilini bekleyiniz.

Hepinize başarılar dileriz.

(Sınav görevlisi başlama ve bitiş saatini tahtaya yazacaktır.)

Bu kitapçığın her hakkı saklıdır. Hangi amaçla olursa olsun, kitapçığın tamamının veya bir kısmının Millî Eğitim Bakanlığı Ölçme, Değerlendirme ve Sınav Hizmetleri Genel Müdürlüğü'nün yazılı izni olmadan kopya edilmesi, fotoğraflarının çekilmesi, bilgisayar ortamına alınması, herhangi bir yolla çoğaltılması, yayımlanması veya başka bir amaçla kullanılması yasaktır. Bu yasağa uymayanlar, doğabilecek cezai sorumluluğu ve kitapçığın hazırlanmasındaki mali külfeti peşinen kabullenmiş sayılır.

**15 MAYIS 2016 TARİHİNDE YAPILAN 8. SINIF 2. DÖNEM
T.C. İNKILAP TARİHİ VE ATATÜRKÇÜLÜK DERSİ MERKEZİ ORTAK SINAVI
(MAZERET) "A" KİTAPÇIĞI CEVAP ANAHTARI**

T.C. İNKILAP TARİHİ VE ATATÜRKÇÜLÜK

1. D
2. A
3. B
4. D
5. A
6. B
7. A
8. D
9. A
10. C
11. C
12. B
13. C
14. D
15. A
16. D
17. C
18. B
19. B
20. C



A
KİTAPÇIK TÜRÜ

T.C.
MİLLÎ EĞİTİM BAKANLIĞI
ÖLÇME, DEĞERLENDİRME VE SINAV HİZMETLERİ GENEL MÜDÜRLÜĞÜ

8. SINIF 2. DÖNEM
İNGİLİZCE DERSİ
MERKEZİ ORTAK SINAVI (MAZERET)
15 MAYIS 2016 Saat: 11.20

Adı ve Soyadı :
Sınıfı :
Öğrenci Numarası :

SORU SAYISI : 20
SINAV SÜRESİ : 40 Dakika

ÖĞRENCİLERİN DİKKATİNE!

1. Sınıf öğrenci yoklama listesinde belirtilen sınıfta ve sıra numarasında oturunuz.
2. Cevap kâğıdındaki kimlik bilgilerinin doğruluğunu kontrol ediniz.
3. Kitapçık türünü cevap kâğıdındaki ilgili alana kodlayınız.
4. Cevap kâğıdı üzerindeki kodlamaları kurşun kalemle yapınız.

SINAV BAŞLAMADAN ÖNCE
KİTAPÇIĞIN ARKA KAPAĞINDAKİ UYARILARI MUTLAKA OKUYUNUZ.

İNGİLİZCE

1. Bu testte 20 soru vardır.
2. Cevaplarınızı, cevap kâğıdına işaretleyiniz.

1-10. sorularda boş bırakılan yere uygun gelen kelime ya da ifadeyi işaretleyiniz.

1. **Nadia** : What a nice day! Would you like to hang out?

Ruth : - - - - but I can't refuse this invitation.

- A) I'm busy B) That's great
C) Sounds good D) Enjoy yourself

2. **Rosa** : I want to cook something different for dinner tonight. Do you have any special recipe?

Susan: Yes, I have. - - - - .

- A) You must add sugar to the mixture
B) You can set the table for lunch
C) You should definitely try it
D) You may have a drink

3. **Lucy** : I was in Uludağ last Saturday.

Gizem : - - - - ?

Lucy : Well, I tried many activities such as snowshoeing and snow tubing.

- A) What did you buy
B) How did you go there
C) How long did you stay
D) What did you do there

4. **Eric** : What is the problem?

Robert: I can't listen to music because I'm having problems with my - - - - .

- A) speakers B) printer
C) webcam D) microphone

5. **Mike** : - - - - ?

Rosa : I practice English and do online shopping on the Net.

- A) When do you usually access the Net
B) What do you usually do on the Net
C) Who likes playing online games
D) How often do you chat online

6. **Carol** : - - - - ?

Arthur: Yes. I tried it several times last summer.

- A) Did you do parachute diving
B) Where did you do shopping
C) Who did you go there with
D) Did you like its climate

7. **Robert** : Can I use your laptop to do online shopping?

George: - - - - . I am not using it now.

- A) I'm sorry B) I need it
C) Sure D) Thanks anyway

8. Jane : - - - - ?
Sue : **Afghanistan and Turkmenistan.**

- A) Which countries do these dishes belong to
B) How can I find accommodation in the city
C) When did you visit these countries
D) Who will she spend her time with

9. I enjoy heart-stopping activities. That's why I prefer rafting to bowling because - - - - .

- A) wearing helmet is important
B) a first-aid kit can save lives
C) it's a fantastic structure
D) it's more challenging

10. Nancy : **My grandfather still writes letters to contact his friends.**

Nurcan: **Why not?** - - - - .

- A) I think it is lovely
B) I believe it is boring
C) To me, it is unbearable
D) In my opinion, it is ridiculous

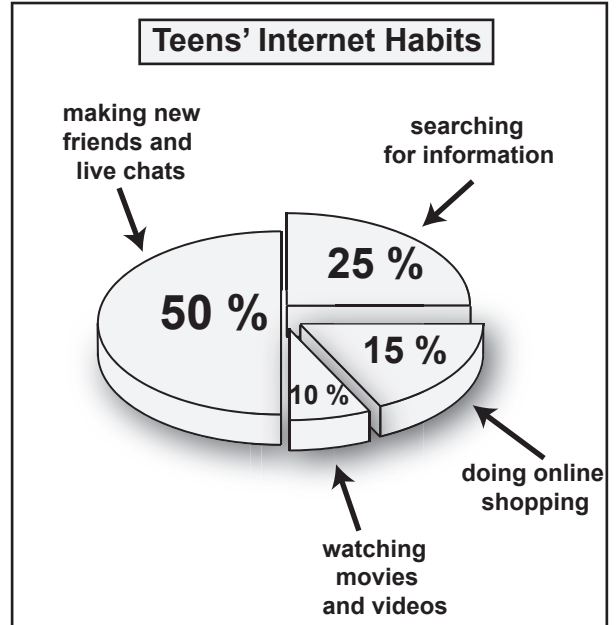
11. I. Sorry, she isn't available now. Would you like to leave a message?
II. Hello, Adam speaking.
III. Sure, could you tell her to contact me soon?
IV. Hi, this is Robert. Is Mrs. Curtis in?

Yukarıda bir telefon konuşması karışık olarak verilmiştir.

Anlamalı bir diyalog oluşturmak için numaralanmış cümleler nasıl sıralanmalıdır?

- A) II, III, IV, I
B) II, IV, I, III
C) IV, III, II, I
D) IV, III, I, II

- 12.




Verilen grafiğe göre aşağıdakilerden hangisi doğrudur?


- A) All teens use the Net to research a topic.
B) Most of the teens do shopping on the Net.
C) Teens never watch movies and videos on the Net.
D) Half of the teens prefer communicating with people on the Net.

13. "I dislike talking on mobile phones so I usually keep in touch with friends by sending emails."
ifadesini anlatan görsel aşağıdakilerden hangisidir?

A)



B)



C)



D)



14. "Raise your hand before speaking."
ifadesini anlatan görsel aşağıdakilerden hangisidir?

A)



B)



C)



D)



15-17. soruları aşağıda verilen metne göre cevaplayınız.

Hi, my name is Adeline. My family members are responsible for different chores. We live in a big house together so we share many chores. I always make my own bed. Also, I like helping my mother with cooking and setting the table. My father is responsible for washing the car and going shopping. My brother, Frank feeds the dog every day. My sister, Judy takes care of Frank, helps his homework and she weeds the garden once a week.

15. All the family members help each other - - - - .

- A) and Adeline washes the car
- B) so Judy takes care of the dog
- C) that's why Frank's mother goes shopping
- D) because they live in a big house together

16. Adeline - - - - .

- A) never does her duties
- B) loves helping her mom
- C) enjoys feeding the dog
- D) takes care of her brother

17. Which one is TRUE about the text?

- A) Frank is responsible for making his own bed.
- B) Judy often helps her mother with cooking.
- C) Adeline's father always cleans their car.
- D) The house is small and has a garden.

18-20. soruları aşağıda verilen metinlere göre cevaplayınız.



Rosa

Istanbul is well-known for its historic places because it is the crossroad of many cultures, religions and civilizations. I like visiting these kinds of cities. It is warm in summers and I prefer travelling in warm days. That's why I decided to visit Istanbul next summer.



Tina

I like winter sports. So, Bursa is a good choice for me with its many ski resorts. I visited Bursa to experience some winter sports last year. Also, I tried various traditional dishes and I loved them. So, I'm planning to go there for my vacation next winter.



Martin

Antalya has many historic mosques, churches and museums. It also has sandy beaches and green mountains. Cities like that are my favorite tourist destinations. The weather there is fine the year around, too. So, I prefer Antalya for my summer holiday.

18. Rosa - - - - .

- A) is not going to visit any places next year
- B) prefers historic cities for holiday
- C) likes travelling in cold weather
- D) is not interested in culture



19. Tina -----.

- A) is not into winter sports
- B) stayed at a hostel last year
- C) didn't like the meals in Bursa
- D) is going to visit Bursa next winter

20. Which one is TRUE about the last text?

- A) Antalya is quite cold even in summers.
- B) Martin wants to visit Antalya in winter.
- C) Antalya has many tourist attractions.
- D) Martin dislikes green mountains.

**TEST BİTTİ.
CEVAPLARINIZI KONTROL EDİNİZ.**

SINAV BAŞLAMADAN AŞAĞIDAKİ UYARILARI MUTLAKA OKUYUNUZ

1. Öğrenciler, sınav kurallarına ve salon görevlilerinin tüm uyarılarına uymak zorundadırlar.
2. Cevap kâğıdındaki kimlik bilgilerinin doğruluğunu kontrol ediniz. Bilgiler size ait değilse veya cevap kâğıdı kullanılmayacak durumdaysa sınav görevlilerine bildiriniz.
3. Sınav başladıktan sonra öğrencilerin salon görevlileri ve birbirleri ile konuşmaları, kalem, silgi vb. şeyleri istemeleri yasaktır.
4. Değiştirmek istediğiniz bir cevabı, yumuşak silgiyle cevap kâğıdını yıpratmadan temizce siliniz ve yeni cevabınızı kodlayınız.
5. Cevap kâğıdınızı silinmeyen bir kalemle imzalayınız.
6. Cevaplarınızı, cevap kâğıdındaki ilgili soru numarasını dikkate alarak yuvarlağın dışına taşırmadan kodlayınız.
7. Soru kitapçığının sayfalarını kontrol ediniz, baskı hatası var ise değiştirilmesini sağlayınız.
8. Soru kitapçığı üzerinde yapılp cevap kâğıdına işaretlenmeyen cevaplar değerlendirmeye alınmayacaktır.
9. Soru kitapçığının içindeki boş alanları çözümlerinizi için kullanabilirsiniz.
10. Cevaplamaya istediğiniz sorudan başlayabilirsiniz.
11. Cevabını bilmediğiniz sorular üzerinde fazla zaman kaybetmeden diğer sorulara geçiniz. Zamanınız kalırsa bu sorulara daha sonra dönebilirsiniz.
12. Sınav puanınızın hesaplanmasında sadece doğru cevaplarınız dikkate alınacaktır.
13. Sınav bitiminde, soru kitapçığı ve cevap kâğıdını salon görevlilerine teslim ediniz.
14. Sınav sırasında sözlük, hesap makinesi, saat fonksiyonu dışında özellikleri bulunan saat veya çağrı cihazı, cep telefonu, telsiz, radyo ve bilgisayar özelliği bulunan elektronik cihazları yanınızda bulundurmanız halinde sınavınız geçersiz sayılacaktır.
15. Cevap kâğıdınızı sınav süresince hiçbir öğrencinin göremeyeceği şekilde önünüzde bulundurunuz.
16. Sınavınızın değerlendirilmesi aşamasında, toplu kopya tespiti veya başka adayın sınav evrakını kullanmanız durumunda sınavınız geçersiz sayılacaktır.
17. Soruları ve sorulara verdiğiniz cevapları kaydetmeyiniz, hiçbir şekilde dışarı çıkarmayınız.
18. Sınav süresince dışarı çıkılmayacaktır.
19. Sınav evraklarını teslim etmeyenlerin sınavı geçersiz sayılacaktır.

SINAV GÖREVLİLERİNCE SINAV BAŞLAMADAN ÖNCE ÖĞRENCİLERE YAPILACAK SON UYARI

- Soracağınız bir şey var mı? Varsa, şimdi sorunuz.
- Sınav başladıktan sonra sorularınıza cevap verilmeyecektir.
- Başlama zilini bekleyiniz.

Hepinize başarılar dileriz.

(Sınav görevlisi başlama ve bitiş saatini tahtaya yazacaktır.)

Bu kitapçığın her hakkı saklıdır. Hangi amaçla olursa olsun, kitapçığın tamamının veya bir kısmının Millî Eğitim Bakanlığı Ölçme, Değerlendirme ve Sınav Hizmetleri Genel Müdürlüğünün yazılı izni olmadan kopya edilmesi, fotoğraflarının çekilmesi, bilgisayar ortamına alınması, herhangi bir yolla çoğaltılması, yayımlanması veya başka bir amaçla kullanılması yasaktır. Bu yasağa uymayanlar, doğabilecek cezai sorumluluğu ve kitapçığın hazırlanmasındaki mali külfeti peşinen kabullenmiş sayılır.

**15 MAYIS 2016 TARİHİNDE YAPILAN 8. SINIF 2. DÖNEM
İNGİLİZCE DERSİ MERKEZİ ORTAK SINAVI (MAZERET)
“A” KİTAPÇIĞI CEVAP ANAHTARI**

İNGİLİZCE

1. A
2. C
3. D
4. A
5. B
6. A
7. C
8. A
9. D
10. A
11. B
12. D
13. D
14. A
15. D
16. B
17. C
18. B
19. D
20. C